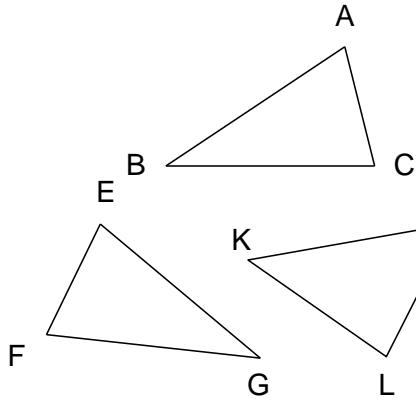


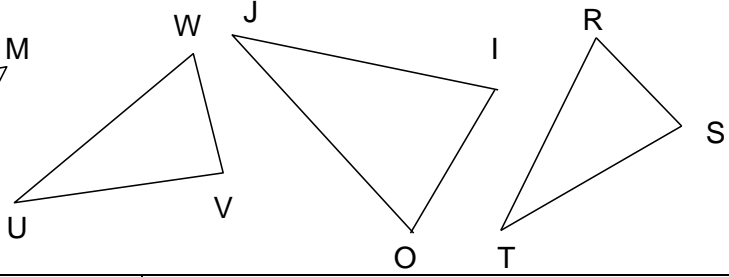
### وضعية تعليمية 1 :



1/ أي من المثلثات الخمسة الآتية مطابق للمثلث ABC ؟

2/ كيف تتحقق من ذلك ؟

3/ أكتب العناصر المتماثلة من المثلث ABC و المثلث المطابق له في كل حالة.



### وضعية تعليمية 3 :

أنشئ كلا من المثلثات ABC ; EFG ; RST بحيث :

- هل المثلثان ABC و EFG متقايسان ؟
- هل المثلثان ABC و RST متقايسان ؟
- ما هي أوجه التشابه أو الاختلاف بين هذه الحالات ؟

### وضعية تعليمية 2 :

أنشئ كلا من المثلثات ABC ; MNO ; RST بحيث :

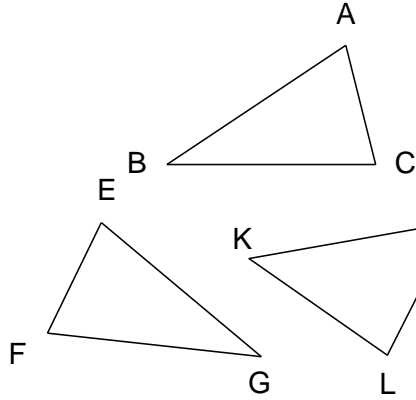
- هل المثلثان ABC و MNO متقايسان ؟
- هل المثلثان ABC و RST متقايسان ؟
- ما هي أوجه التشابه أو الاختلاف بين هذه الحالات ؟

### وضعية تعليمية 4 :

أنشئ كلا من المثلثين ABC ; EFG بحيث :

- هل المثلثان ABC و EFG متقايسان ؟ - ما هي أوجه التشابه أو الاختلاف بينهما ؟

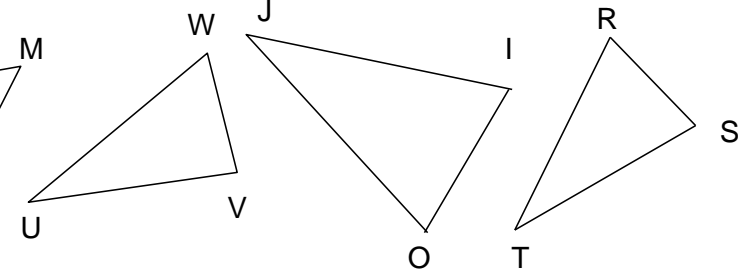
### وضعية تعليمية 1 :



1/ أي من المثلثات الخمسة الآتية مطابق للمثلث ABC ؟

2/ كيف تتحقق من ذلك ؟

3/ أكتب العناصر المتماثلة من المثلث ABC و المثلث المطابق له في كل حالة.



### وضعية تعليمية 3 :

أنشئ كلا من المثلثات ABC ; EFG ; RST بحيث :

- هل المثلثان ABC و EFG متقايسان ؟
- هل المثلثان ABC و RST متقايسان ؟
- ما هي أوجه التشابه أو الاختلاف بين هذه الحالات ؟

### وضعية تعليمية 2 :

أنشئ كلا من المثلثات ABC ; MNO ; RST بحيث :

- هل المثلثان ABC و MNO متقايسان ؟
- هل المثلثان ABC و RST متقايسان ؟
- ما هي أوجه التشابه أو الاختلاف بين هذه الحالات ؟

### وضعية تعليمية 4 :

أنشئ كلا من المثلثين ABC ; EFG بحيث :

- هل المثلثان ABC و EFG متقايسان ؟ - ما هي أوجه التشابه أو الاختلاف بينهما ؟

