

التمرين الأول:

أُكْمِلُ الْجَدُولَ:

الْعَدَدُ	كِتَابَتُهُ بِالْحُرُوفِ	حَصْرُهُ بَيْنَ عَشْرَتَيْنِ مُتتَالِيَتَيْنِ	حَصْرُهُ بَيْنَ مِئَتَيْنِ مُتتَالِيَتَيْنِ
516<516<.....<516<.....
226<226<.....<226<.....
831<831<.....<831<.....

التمرين الثاني:

أ- أَحْسِبُ الْعَمَلِيَّاتِ التَّالِيَةَ:

476 + 245	684 + 135	952 - 625	863 - 476
=.....	=.....	=.....	=.....

ب- أَحْسِبُ مَا يَلِي:

$31 \times 10 = \dots\dots\dots$

$6 + 6 + 6 + 6 = \dots\dots\dots$

$42 \times 10 = \dots\dots\dots$

$8 \times 5 = \dots\dots\dots$

$\dots\dots\dots \times 10 = 510$

$4 \times 9 = \dots\dots\dots$


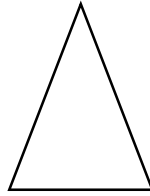

التمرين الثالث:

أ- أْكْمِلُ الْجَدُولَ:

الْمُجَسِّمُ	إِسْمُهُ	عَدَدُ الرُّؤُوسِ	عَدَدُ الْأَحْرَفِ	عَدَدُ الْأَوْجِهَةِ




ب-أرسمُ مَحَوْرَ التَّنَظَرِ فِي كُلِّ حَالَةٍ:



الوضعية الإدماجية:

فِي الْخِزَانَةِ 5 رُفُوفٍ فِي كُلِّ رَفٍّ يُوجَدُ 15 قِصَّةٍ
- أَحْسِبْ عَدَدَ الْقِصَصِ الْمَوْجُودَةِ فِي الْخِزَانَةِ؟

الأجوبة

الحل

العمليات

.....
عَدَدُ الْقِصَصِ الْمَوْجُودَةِ فِي الْخِزَانَةِ قِصَّةً

.....
.....
=.....