

التربية الفنية

1. التربية الموسيقية

السؤال الأول :

الحفظ 5 /

السؤال الثاني : 5 نقاط

أنواع الآلات الموسيقية ثلاثة :


آلات مثل و و
 آلات مثل : و
 آلات مثل : و

2. التربية التشكيلية

السؤال الأول : 5 نقاط

أنواع الزخرفة
 قواعد الزخرفة :

السؤال الثاني : 5 نقاط لون حسب الأرقام



المدرسة:	اختبار الفصل الثالث في	القسم : السنة الثالثة
التاريخ :	مادة التربية التشكيلية	الاسم واللقب:.....

السند: رافقت والدك إلى محلات الصناعات التقليدية ، فزرت محل الاواني الفخارية ، فمحل الزرابي ثم محل التحف الفنية، فأعجبت كثيرا بالزخارف الجميلة التي رأيتها ، و أردت أن ترسم واحدة منها .

التعليمة 1:- اكتب نوع الزخرفة تحت كل صورة .

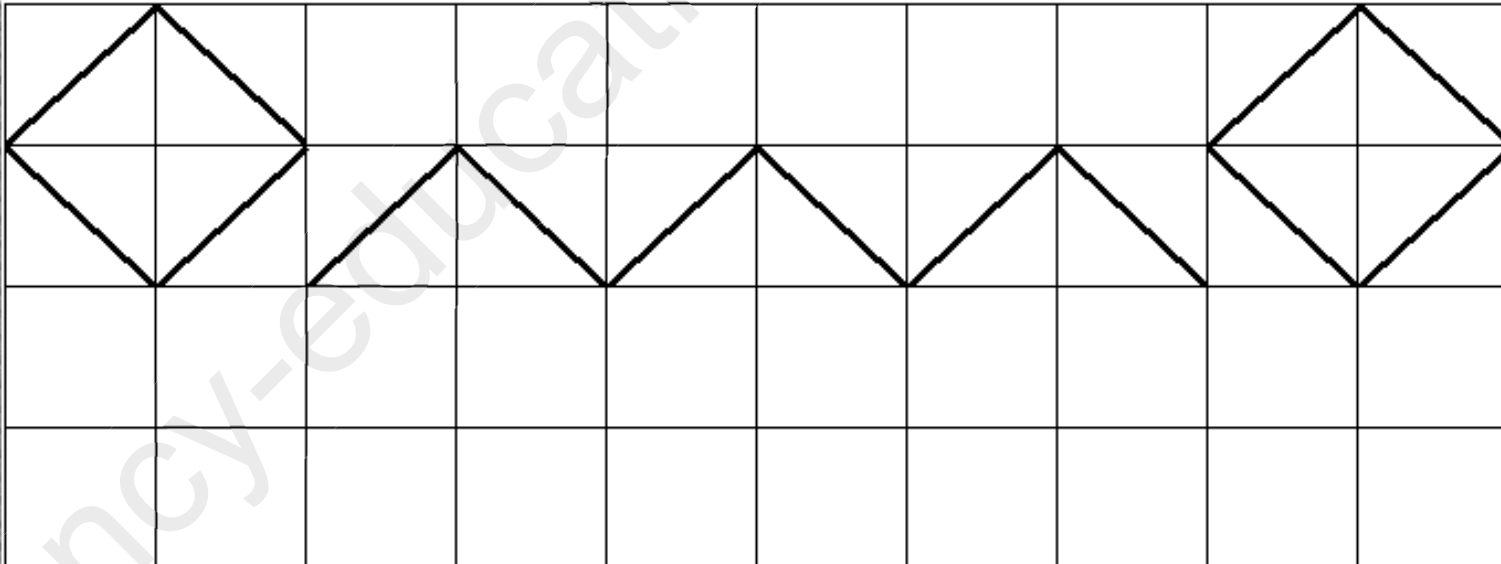


.....



.....

التعليمة 2: أكمل رسم الزخرفة و لونها بالألوان الحارة و الألوان الباردة .



الجمهورية الجزائرية الديمقراطية الشعبية
وزارة التربية الوطنية

فوج : السنة الثالثة ابتدائي
السنة الدراسية: 2017/2018
الأستاذ : لستوتي مراد



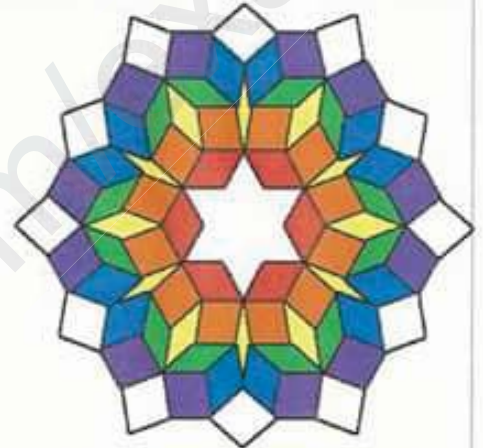
مديرية التربية لولاية تيارت
مفتشية التعليم الابتدائي -02-
مدرسة شريط مصطفى / الرشايفة
إسم و لقب المتعلم :

النقطة

10

التقويم الفصلي الثالث في مادة التربية التشكيلية

التمرين الأول : (6/6 ن) ضع العبارة المناسبة في مكانها حسب الصورة .
زخرفة نباتية , زخرفة حيوانية , زخرفة هندسية .

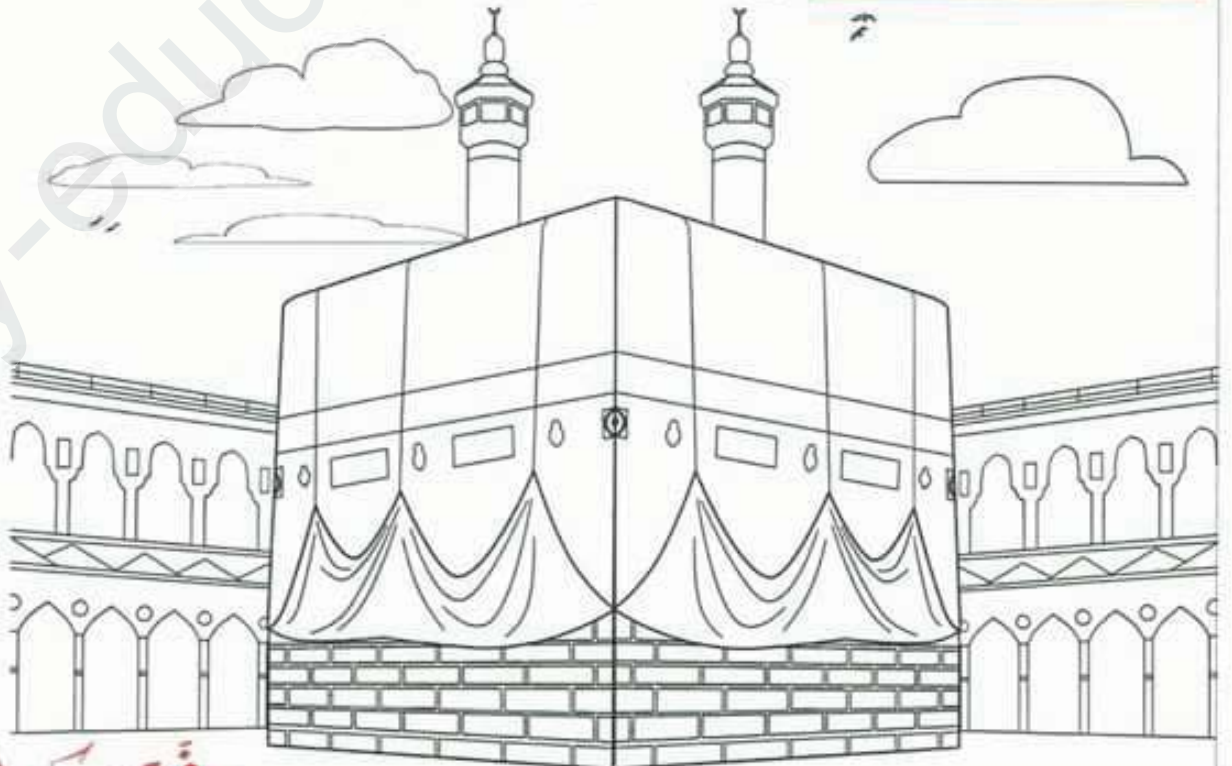


03

02

01

التمرين الثاني : (4/4 ن) لون الكعبة المشرفة بألوانها المألوفة :



وقفكم الله


المدرسة الابتدائية : عزيز عكاشة
القسم : السنة الثالثة ابتدائي
السنة الدراسية : 2018 / 2019
المدة : 45 دقيقة
التلميذ (ة) : العلامّة : 10/

اختبار الفصل الثالث في التربية الفنية

1 (بَيِّنْ طَرِيقَةَ مَزْجِ الْأَلْوَانِ لِلْحُصُولِ عَلَى الْأَلْوَانِ الثَّانَوِيَةِ الثَّلَاثَةِ .

..... = +
..... = +
..... = +

2 (لَوِّنِ الزَّخْرَفَةَ الثَّلَاثِيَةَ بِالْأَلْوَانِ الْحَارَةِ الثَّلَاثَةِ .




المدرسة الابتدائية : عزيز عكاشة
القسم : السنة الثالثة ابتدائي
السنة الدراسية : 2018 / 2019
المدة : 45 دقيقة
التلميذ (ة) : العلامّة : 10/

اختبار الفصل الثالث في التربية الفنية

1 (بَيِّنْ طَرِيقَةَ مَزْجِ الْأَلْوَانِ لِلْحُصُولِ عَلَى الْأَلْوَانِ الثَّانَوِيَةِ الثَّلَاثَةِ .

..... = +
..... = +
..... = +

2 (لَوِّنِ الزَّخْرَفَةَ الثَّلَاثِيَةَ بِالْأَلْوَانِ الْحَارَةِ الثَّلَاثَةِ .



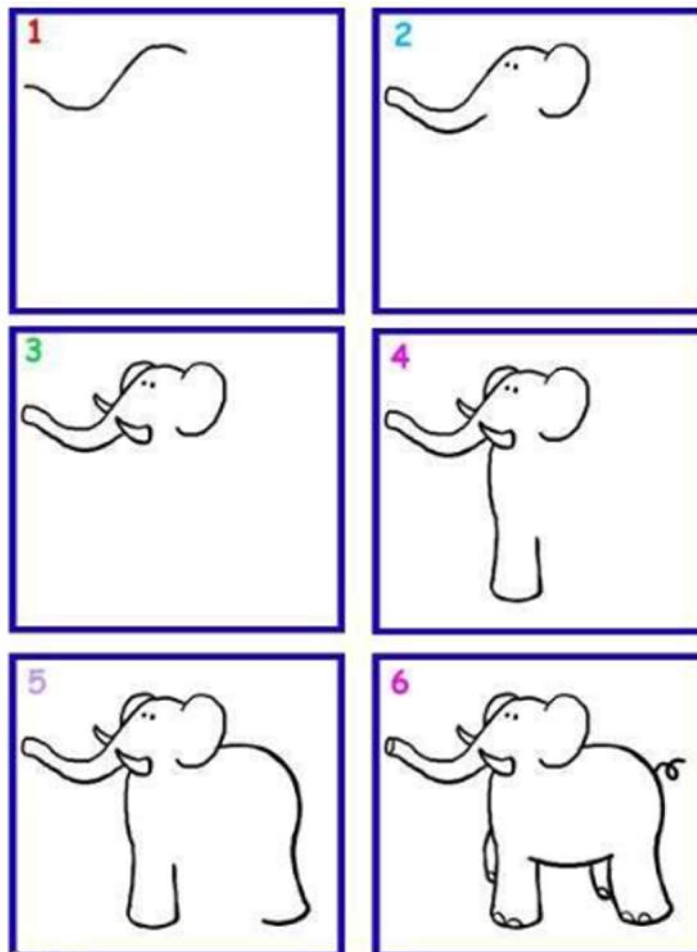
.الإجابة النموذجية وسلم التنقيط لاختبار الفصل الثالث س 3 في التربية الفنية 2017 / 2018 .

محاو الموضوع	عناصر الإجابة	العلامة	
		مجزأة	المجموع
1	<p>بَيِّنْ طَرِيقَةَ مَزْجِ الْأَلْوَانِ لِلْحُصُولِ عَلَى الْأَلْوَانِ الثَّانَوِيَةِ الثَّلَاثَةِ .</p> <p>أحمر + أزرق = بنفسجي</p> <p>أحمر + أصفر = برتقالي</p> <p>أزرق + أصفر = أخضر</p>	9×0.5	4.5 ن
2	<p>لَوِّنِ الزُخْرَفَةَ التَّالِيَةَ بِالْأَلْوَانِ الْحَارَةِ الثَّلَاثَةِ .</p> <p>- يلون بالألوان الحارة الثلاثة : أحمر ، أصفر ، برتقالي</p> <p>- يلون بشكل حسن</p> <p>- كل تلوين خاطئ تسحب نصف نقطة</p>	3×0.5 4	1.5 ن 04 ن

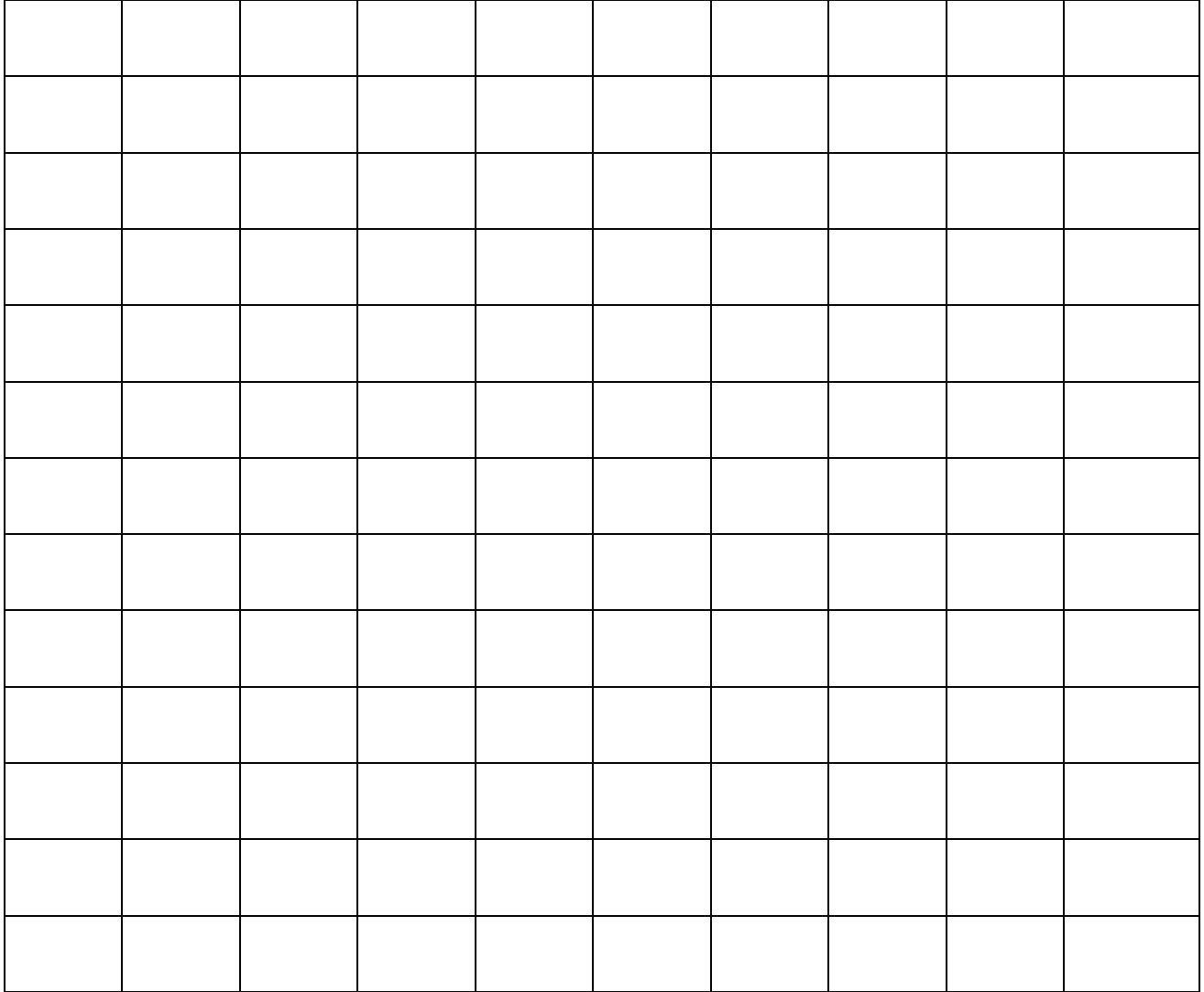
إعداد الأستاذ : عبد الكريم دلهم

الذيل:


- حيوان ثدي كبير الحجم يندرج تحت رتبة الخرطوميات
- من الحيوانات المتوحشة، آكل للعشب.
- تعيش إناث الفيلة في مجموعات تتشكّل غالباً من إناث فقط، وتقودهنّ الأنثى الأكبر بينهنّ وتدعى الأمّ الحكيمة، بينما يعيشون الذكور منفردين، أو في مجموعات من الذكور، ويلتقيان في موسم التزاوج، ومدة الحمل عند الفيلة هي اثنين وعشرين شهراً.
- لاحظ مراحل رسم الفيل



الوضعية الأولى (07 نقطة): أعد رسم الفيل بإتباع المراحل السابقة.



الوضعية الثانية (03 نقطة): لَوْن الرَّسْم



الموقع الأول لتحضير الفروض والاختبارات في الجزائر

<https://www.dzexams.com>


https://www.dzexams.com/ar/0ap	القسم التحضيري
https://www.dzexams.com/ar/1ap	السنة الأولى ابتدائي
https://www.dzexams.com/ar/2ap	السنة الثانية ابتدائي
https://www.dzexams.com/ar/3ap	السنة الثالثة ابتدائي
https://www.dzexams.com/ar/4ap	السنة الرابعة ابتدائي
https://www.dzexams.com/ar/5ap	السنة الخامسة ابتدائي
https://www.dzexams.com/ar/bep	شهادة التعليم الابتدائي
https://www.dzexams.com/ar/1am	السنة الأولى متوسط
https://www.dzexams.com/ar/2am	السنة الثانية متوسط
https://www.dzexams.com/ar/3am	السنة الثالثة متوسط
https://www.dzexams.com/ar/4am	السنة الرابعة متوسط
https://www.dzexams.com/ar/bem	شهادة التعليم المتوسط
https://www.dzexams.com/ar/1as	السنة الأولى ثانوي
https://www.dzexams.com/ar/2as	السنة الثانية ثانوي
https://www.dzexams.com/ar/3as	السنة الثالثة ثانوي
https://www.dzexams.com/ar/bac	شهادة البكالوريا

الزخرفة: تعني تزيين عنصر ما (حائط، وعاء، سلة، قماش....) بنموذج زخرفي مثل: مربعات،

مستطيلات، دوائر، أزهار، ورود، أشجار، عصافير، حيوانات

لرسم شكل زخرفي نعتمد على تركيب الأشكال الهندسية (مربع، دائرة، مثلث، مكعب، أسطوانة

❖ لاحظ مراحل تشكيل زخرفة هندسية:



الوضعية الأولى (25,8)

- 1) أرسم مربع طول أضلاعه يساوي 16 سنتيمتراً؟
- 2) بعد رسم قطرا المربع، تتشكل زاوية ما نوعها؟
- 3) أفتحُ المدور بطول 3 سنتيمترا، ثم أثبت إبرة المدور على نقطة تقاطع قطرا المربع ، وأرسم دائرة نصف قطرها يساوي 3 سنتيمتر ، كما يوضحه شكل المرحلة الثانية.
- 4) أكمل الرسومات الناقصة في المرحلة الثانية مراعيًا بذلك دقة القياسات؟
- 5) أفتحُ المدور بطول 3,5 سنتيمترا، ثم أثبت إبرة المدور على نقطة تقاطع قطرا المربع ، وأرسم دائرة نصف قطرها يساوي 3,5 سنتيمتر ، كما يوضحه شكل المرحلة الثالثة.
- 6) بنفس الطريقة أرسم دوائر نصف قطرها على الترتيب (6,5 و 7 و 8) سم كما هو مبين في المرحلة 3.
- 7) أكمل رسم الزخرفة الهندسية كما هي مبينة في المراحل الرابعة، الخامسة والسادسة؟

الوضعية الثانية (75,1)

- 8) لون الزخرفة المحصل عليها مراعيًا بذلك اللون الجمالي للزخرفة الهندسية؟

الاجابة النموذجية لموضوع الامتحان الثالث للسنة الثالثة ابتدائي 2017

العلامة		عناصر الاجابة	رقم السؤال
كاملة	مجزأة		
0,5	0,5	رسم مربع طول أضلاعه يساوي 16 سنتيمتراً.	1
0,5	0,25 × 2	رسم قطرا المربع	2
0,25	0,25	نوع الزاوية (زاوية قائمة)	2
0,25	0,25	رسم دائرة نصف قطرها يساوي 3 سنتيمتر	3
0,5	0,25 × 2	إكمال الرسومات الناقصة كما في المرحلة الثانية	4
0,5	0,5	رسم دائرة نصف قطرها يساوي 3,5 ستيمتر	5
0,75	0,5 × 3	سم دوائر نصف قطرها على الترتيب 6,5، 7، 8	6
0,5	0,5	إكمال رسم الزخرفة الهندسية.	7
0,5	0,5	الخطوط الموجودة بين الدائرتين (المرحلة الرابعة).	1-7
2	0,25 × 8	رسم أزهار المرحلة الخامسة	2-7
0,5	0,5	رسم نقاط داخل المثلثات المرحلة الخامسة	3-7
0,5	0,5	الخطوط الموجودة بين الدائرتين المرحلة السادسة	4-7
0,5	0,5	تكملة الأزهار للمرحلة السادسة	5-7
0,5	0,5	تكملة أزهار المرحلة السادسة فوق الدائرة الرابعة للمرحلة السادسة.	6-7
8,25		مجموع الوضعية الأولى	
الوضعية الثانية			
1,75	1,75	تلوين الزخرفة الهندسية	8
10 10		مجموع الوضعتين	

وزارة التربية الوطنية

المؤسسة: اختبار الثلاثي:

التلميذ(ة): القسم:

المادة: التاريخ:

أستاذ المادة: بولقرون هلال الرقم:

الرقم:

العلامة النهائية

10

ورقة الاجابة

الموقع الأول لتحضير الفروض والاختبارات في الجزائر

<https://www.dzexams.com>

https://www.dzexams.com/ar/0ap	القسم التحضيري
https://www.dzexams.com/ar/1ap	السنة الأولى ابتدائي
https://www.dzexams.com/ar/2ap	السنة الثانية ابتدائي
https://www.dzexams.com/ar/3ap	السنة الثالثة ابتدائي
https://www.dzexams.com/ar/4ap	السنة الرابعة ابتدائي
https://www.dzexams.com/ar/5ap	السنة الخامسة ابتدائي
https://www.dzexams.com/ar/bep	شهادة التعليم الابتدائي
https://www.dzexams.com/ar/1am	السنة الأولى متوسط
https://www.dzexams.com/ar/2am	السنة الثانية متوسط
https://www.dzexams.com/ar/3am	السنة الثالثة متوسط
https://www.dzexams.com/ar/4am	السنة الرابعة متوسط
https://www.dzexams.com/ar/bem	شهادة التعليم المتوسط
https://www.dzexams.com/ar/1as	السنة الأولى ثانوي
https://www.dzexams.com/ar/2as	السنة الثانية ثانوي
https://www.dzexams.com/ar/3as	السنة الثالثة ثانوي
https://www.dzexams.com/ar/bac	شهادة البكالوريا

السنة الثالثة ابتدائي


مدرسة:

2023/2022

الاسم:

اختبار الفصل الثالث في مادة التربية التشكيلية

لون النموذج الآتي بتقنية التنقيط



بالتوفيق

السنة الثالثة ابتدائي

مدرسة:

2023/2022

الاسم:

اختبار الفصل الثالث في مادة التربية التشكيلية

لون النموذج الآتي بتقنية التنقيط



بالتوفيق

السنة الثالثة ابتدائي

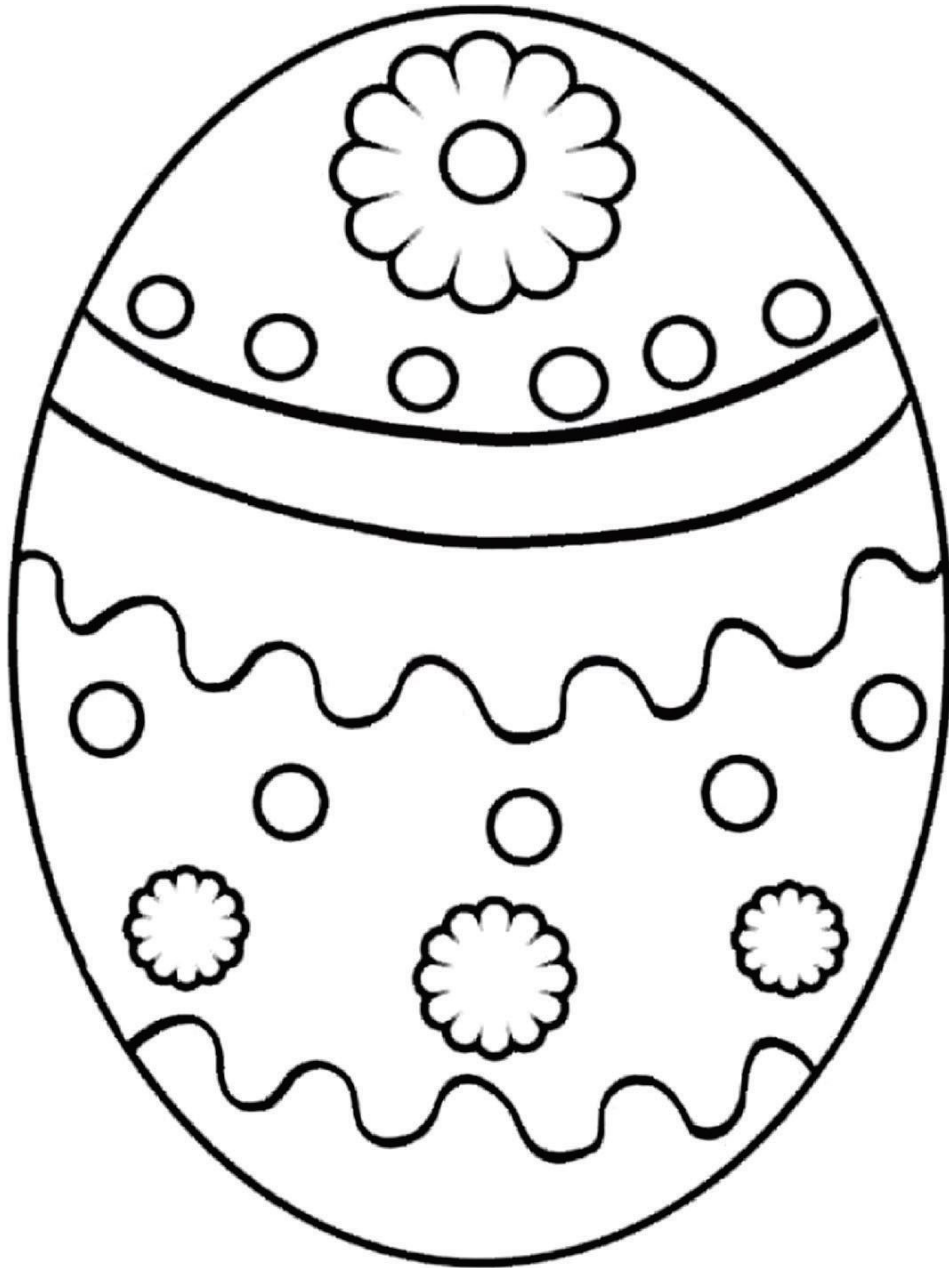
2023/2022

مدرسة:

الاسم:

اختبار الفصل الثالث في مادة التربية التشكيلية

لون بتقنية التلقيط



بالتوفيق

الموقع الأول لتحضير الفروض والاختبارات في الجزائر

<https://www.dzexams.com>

https://www.dzexams.com/ar/0ap	القسم التحضيري
https://www.dzexams.com/ar/1ap	السنة الأولى ابتدائي
https://www.dzexams.com/ar/2ap	السنة الثانية ابتدائي
https://www.dzexams.com/ar/3ap	السنة الثالثة ابتدائي
https://www.dzexams.com/ar/4ap	السنة الرابعة ابتدائي
https://www.dzexams.com/ar/5ap	السنة الخامسة ابتدائي
https://www.dzexams.com/ar/bep	شهادة التعليم الابتدائي
https://www.dzexams.com/ar/1am	السنة الأولى متوسط
https://www.dzexams.com/ar/2am	السنة الثانية متوسط
https://www.dzexams.com/ar/3am	السنة الثالثة متوسط
https://www.dzexams.com/ar/4am	السنة الرابعة متوسط
https://www.dzexams.com/ar/bem	شهادة التعليم المتوسط
https://www.dzexams.com/ar/1as	السنة الأولى ثانوي
https://www.dzexams.com/ar/2as	السنة الثانية ثانوي
https://www.dzexams.com/ar/3as	السنة الثالثة ثانوي
https://www.dzexams.com/ar/bac	شهادة البكالوريا

ابتدائية: فروم مختار


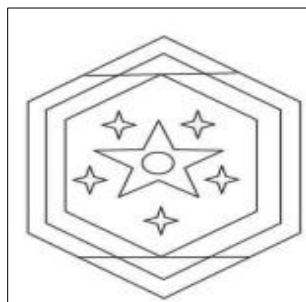
المعلمة: لوصيف صبرينة

الإسم واللقب:

السنة الثالثة ابتدائي - خاص

اختبار الفصل الثاني في التربية التشكيلية

النشاط 1: أكتب اسم الزخرفة تحت كل شكل : (حيوانية - نباتية - هندسية - كتابية)



.....

.....

.....

.....

النشاط 2 : أكتب صحيح أو خطأ

- الزخرفة تعتمد على التكرار و التناظر (.....)

- الزخرفة الحيوانية تعتمد على رسومات نباتية (.....)

النشاط 3 : أكتب اسم الزخرفة و أكمل تلوينها محترما قواعدها .



اسم الزخرفة:

الموقع الأول لتحضير الفروض والاختبارات في الجزائر

<https://www.dzexams.com>

https://www.dzexams.com/ar/0ap	القسم التحضيري
https://www.dzexams.com/ar/1ap	السنة الأولى ابتدائي
https://www.dzexams.com/ar/2ap	السنة الثانية ابتدائي
https://www.dzexams.com/ar/3ap	السنة الثالثة ابتدائي
https://www.dzexams.com/ar/4ap	السنة الرابعة ابتدائي
https://www.dzexams.com/ar/5ap	السنة الخامسة ابتدائي
https://www.dzexams.com/ar/bep	شهادة التعليم الابتدائي
https://www.dzexams.com/ar/1am	السنة الأولى متوسط
https://www.dzexams.com/ar/2am	السنة الثانية متوسط
https://www.dzexams.com/ar/3am	السنة الثالثة متوسط
https://www.dzexams.com/ar/4am	السنة الرابعة متوسط
https://www.dzexams.com/ar/bem	شهادة التعليم المتوسط
https://www.dzexams.com/ar/1as	السنة الأولى ثانوي
https://www.dzexams.com/ar/2as	السنة الثانية ثانوي
https://www.dzexams.com/ar/3as	السنة الثالثة ثانوي
https://www.dzexams.com/ar/bac	شهادة البكالوريا

ابتدائية: فروم مختار


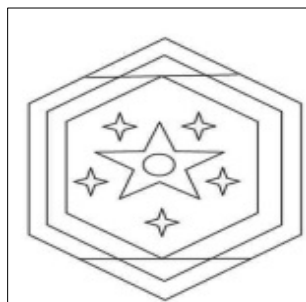
المعلمة: لوصيف صبرينة

الإسم واللقب:

السنة الثالثة ابتدائي - خاص

اختبار الفصل الثاني في التربية التشكيلية

النشاط 1: أكتب اسم الزخرفة تحت كل شكل : (حيوانية - نباتية - هندسية - كتابية)



.....

.....

.....

.....

النشاط 2 : أكتب صحيح أو خطأ

- الزخرفة تعتمد على التكرار و التناظر (.....)

- الزخرفة الحيوانية تعتمد على رسومات نباتية (.....)

النشاط 3 : أكتب اسم الزخرفة و أكمل تلوينها محترما قواعدها .



اسم الزخرفة:

الموقع الأول لتحضير الفروض والاختبارات في الجزائر

<https://www.dzexams.com>

https://www.dzexams.com/ar/0ap	القسم التحضيري
https://www.dzexams.com/ar/1ap	السنة الأولى ابتدائي
https://www.dzexams.com/ar/2ap	السنة الثانية ابتدائي
https://www.dzexams.com/ar/3ap	السنة الثالثة ابتدائي
https://www.dzexams.com/ar/4ap	السنة الرابعة ابتدائي
https://www.dzexams.com/ar/5ap	السنة الخامسة ابتدائي
https://www.dzexams.com/ar/bep	شهادة التعليم الابتدائي
https://www.dzexams.com/ar/1am	السنة الأولى متوسط
https://www.dzexams.com/ar/2am	السنة الثانية متوسط
https://www.dzexams.com/ar/3am	السنة الثالثة متوسط
https://www.dzexams.com/ar/4am	السنة الرابعة متوسط
https://www.dzexams.com/ar/bem	شهادة التعليم المتوسط
https://www.dzexams.com/ar/1as	السنة الأولى ثانوي
https://www.dzexams.com/ar/2as	السنة الثانية ثانوي
https://www.dzexams.com/ar/3as	السنة الثالثة ثانوي
https://www.dzexams.com/ar/bac	شهادة البكالوريا

ابتدائية: فروم مختار


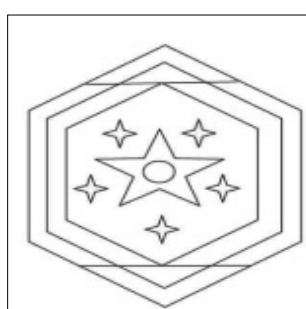
المعلمة: لوصيف صبرينة

الإسم واللقب:

السنة الثالثة ابتدائي - خاص

اختبار الفصل الثاني في التربية التشكيلية

النشاط 1: أكتب اسم الزخرفة تحت كل شكل : (حيوانية - نباتية - هندسية - كتابية)



.....

.....

.....

.....

النشاط 2 : أكتب صحيح أو خطأ

- الزخرفة تعتمد على التكرار و التناظر (.....)

- الزخرفة الحيوانية تعتمد على رسومات نباتية (.....)

النشاط 3 : أكتب اسم الزخرفة و أكمل تلوينها محترما قواعدها .



اسم الزخرفة:

الموقع الأول لتحضير الفروض والاختبارات في الجزائر

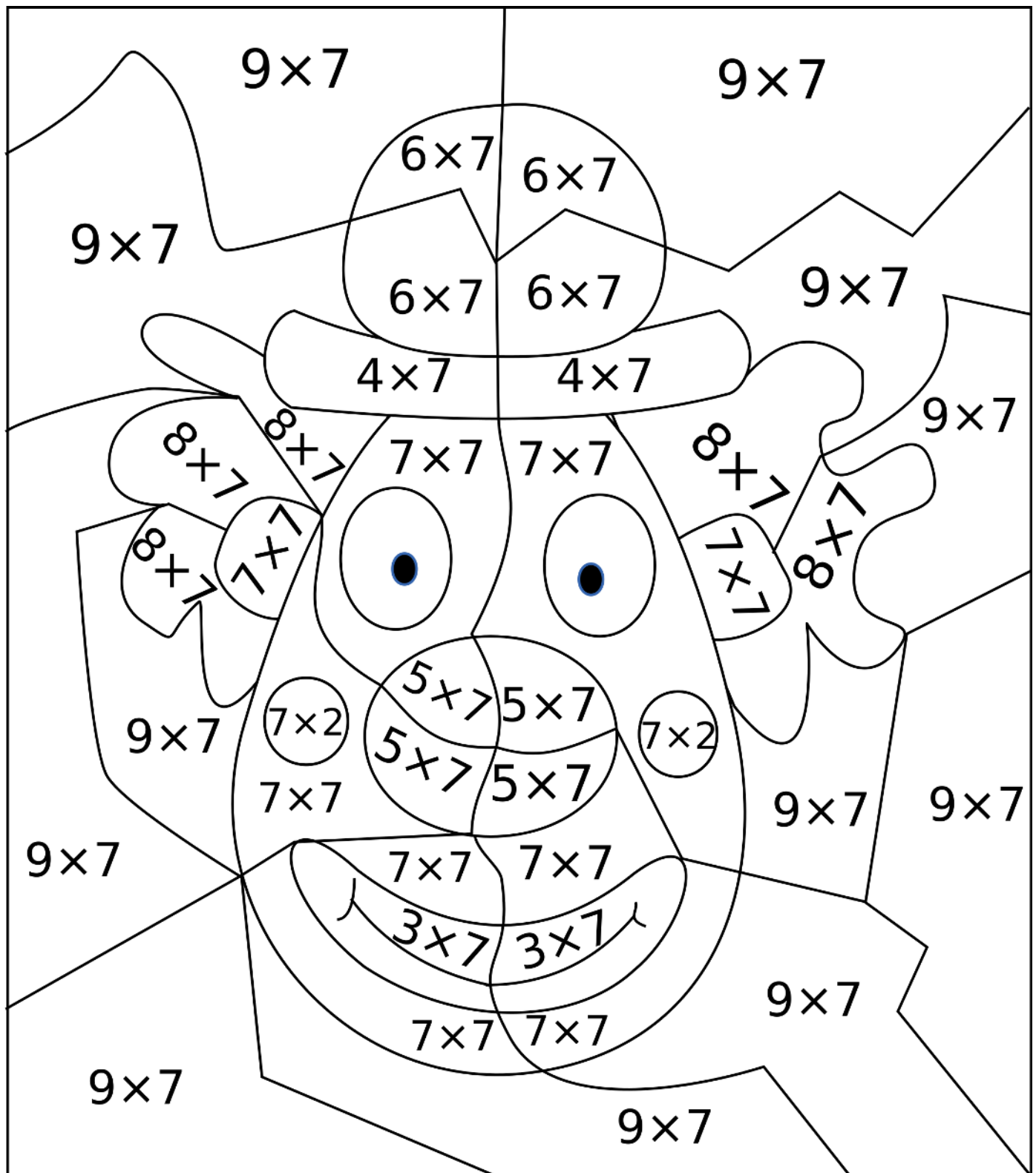
<https://www.dzexams.com>

https://www.dzexams.com/ar/0ap	القسم التحضيري
https://www.dzexams.com/ar/1ap	السنة الأولى ابتدائي
https://www.dzexams.com/ar/2ap	السنة الثانية ابتدائي
https://www.dzexams.com/ar/3ap	السنة الثالثة ابتدائي
https://www.dzexams.com/ar/4ap	السنة الرابعة ابتدائي
https://www.dzexams.com/ar/5ap	السنة الخامسة ابتدائي
https://www.dzexams.com/ar/bep	شهادة التعليم الابتدائي
https://www.dzexams.com/ar/1am	السنة الأولى متوسط
https://www.dzexams.com/ar/2am	السنة الثانية متوسط
https://www.dzexams.com/ar/3am	السنة الثالثة متوسط
https://www.dzexams.com/ar/4am	السنة الرابعة متوسط
https://www.dzexams.com/ar/bem	شهادة التعليم المتوسط
https://www.dzexams.com/ar/1as	السنة الأولى ثانوي
https://www.dzexams.com/ar/2as	السنة الثانية ثانوي
https://www.dzexams.com/ar/3as	السنة الثالثة ثانوي
https://www.dzexams.com/ar/bac	شهادة البكالوريا

Coloriage magique

Complète le coloriage ci-dessous en respectant le code couleur :

14 : rose	21 : rouge	28 : bleu	35 : violet	42 : bleu clair	49 : beige	56 : jaune	63 : vert
-----------	------------	-----------	-------------	-----------------	------------	------------	-----------



Solution



الموقع الأول لتحضير الفروض والاختبارات في الجزائر

<https://www.dzexams.com>

https://www.dzexams.com/ar/0ap	القسم التحضيري
https://www.dzexams.com/ar/1ap	السنة الأولى ابتدائي
https://www.dzexams.com/ar/2ap	السنة الثانية ابتدائي
https://www.dzexams.com/ar/3ap	السنة الثالثة ابتدائي
https://www.dzexams.com/ar/4ap	السنة الرابعة ابتدائي
https://www.dzexams.com/ar/5ap	السنة الخامسة ابتدائي
https://www.dzexams.com/ar/bep	شهادة التعليم الابتدائي
https://www.dzexams.com/ar/1am	السنة الأولى متوسط
https://www.dzexams.com/ar/2am	السنة الثانية متوسط
https://www.dzexams.com/ar/3am	السنة الثالثة متوسط
https://www.dzexams.com/ar/4am	السنة الرابعة متوسط
https://www.dzexams.com/ar/bem	شهادة التعليم المتوسط
https://www.dzexams.com/ar/1as	السنة الأولى ثانوي
https://www.dzexams.com/ar/2as	السنة الثانية ثانوي
https://www.dzexams.com/ar/3as	السنة الثالثة ثانوي
https://www.dzexams.com/ar/bac	شهادة البكالوريا

السنة الدراسية 2024/2023

المستوى الثالثة الابتدائي



أ. عباس

اختبار الفصل الثاني في التربية التشكيلية

العلامة :

الوضعية الأولى:

في حصة التربية الفنية والتشكيلية أعلنت المعلمة مسابقة، فقسمت التلاميذ الى أفواج ووزعت عليهم بعض النماذج لأنواع الزخرفة، وطلبت منا أن نتعرف على هذه الأنواع، كما هو موضح.



الوضعية الثانية: بمناسبة شهر رمضان طلبت منا اختيار نوع وتلوينه، فاخترنا ما يدل على الشهر الكريم

نوع الزخرفة هو: التقنية المستعملة فيها هي:



الموقع الأول لتحضير الفروض والاختبارات في الجزائر

<https://www.dzexams.com>

https://www.dzexams.com/ar/0ap	القسم التحضيري
https://www.dzexams.com/ar/1ap	السنة الأولى ابتدائي
https://www.dzexams.com/ar/2ap	السنة الثانية ابتدائي
https://www.dzexams.com/ar/3ap	السنة الثالثة ابتدائي
https://www.dzexams.com/ar/4ap	السنة الرابعة ابتدائي
https://www.dzexams.com/ar/5ap	السنة الخامسة ابتدائي
https://www.dzexams.com/ar/bep	شهادة التعليم الابتدائي
https://www.dzexams.com/ar/1am	السنة الأولى متوسط
https://www.dzexams.com/ar/2am	السنة الثانية متوسط
https://www.dzexams.com/ar/3am	السنة الثالثة متوسط
https://www.dzexams.com/ar/4am	السنة الرابعة متوسط
https://www.dzexams.com/ar/bem	شهادة التعليم المتوسط
https://www.dzexams.com/ar/1as	السنة الأولى ثانوي
https://www.dzexams.com/ar/2as	السنة الثانية ثانوي
https://www.dzexams.com/ar/3as	السنة الثالثة ثانوي
https://www.dzexams.com/ar/bac	شهادة البكالوريا

اختبر الفحل الثاني في مادة التربية التشكيلية

* النشاط الأول :

- عَرِّف الزَّخْرَفَةَ:
(ن1).....

* النشاط الثاني: أجب بِصَحِيحٍ أَوْ خَطَأٍ: (ن2)

- الزَّخْرَفَةُ تَعْتَمِدُ عَلَى التَّكَرَّارِ وَالتَّنَاطُرِ
- الزَّخْرَفَةُ الْهَنْدَسِيَّةُ تَعْتَمِدُ عَلَى رُسُومَاتٍ هَنْدَسِيَّةٍ

* النشاط الثالث: اربط الزَّخْرَفَةَ مَعَ اسْمِهَا. (ن2)




زخرفة حيوانية

زخرفة هندسية

زخرفة خطية

زخرفة نباتية

النشاط الرابع: أكتب اسم الزَّخْرَفَةِ وَأَكْمِلْ تَلْوَنَهَا مُحْتَزِمًا قَوَاعِدَهَا.



الموقع الأول لتحضير الفروض والاختبارات في الجزائر

<https://www.dzexams.com>

https://www.dzexams.com/ar/0ap	القسم التحضيري
https://www.dzexams.com/ar/1ap	السنة الأولى ابتدائي
https://www.dzexams.com/ar/2ap	السنة الثانية ابتدائي
https://www.dzexams.com/ar/3ap	السنة الثالثة ابتدائي
https://www.dzexams.com/ar/4ap	السنة الرابعة ابتدائي
https://www.dzexams.com/ar/5ap	السنة الخامسة ابتدائي
https://www.dzexams.com/ar/bep	شهادة التعليم الابتدائي
https://www.dzexams.com/ar/1am	السنة الأولى متوسط
https://www.dzexams.com/ar/2am	السنة الثانية متوسط
https://www.dzexams.com/ar/3am	السنة الثالثة متوسط
https://www.dzexams.com/ar/4am	السنة الرابعة متوسط
https://www.dzexams.com/ar/bem	شهادة التعليم المتوسط
https://www.dzexams.com/ar/1as	السنة الأولى ثانوي
https://www.dzexams.com/ar/2as	السنة الثانية ثانوي
https://www.dzexams.com/ar/3as	السنة الثالثة ثانوي
https://www.dzexams.com/ar/bac	شهادة البكالوريا

مَا هِيَ الرَّخْرِفَةُ ؟

هِيَ عِبَارَةٌ عَنْ رُسُومَاتٍ مُتَشَعِّبَةٍ مُتَنَاسِقَةٍ وَجَمِيلَةٍ تُسْتَعْمَلُ فِيهَا أَشْكَالٌ مُخْتَلِفَةٌ بِطَرِيقَةٍ التَّكَرَّارِ وَالتَّنَازُلِ

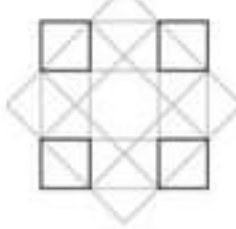
أَنْوَاعُ الرَّخْرِفَةِ : أَهْمُهَا رَخْرِفَةُ نَبَاتِيَّةٌ ، رَخْرِفَةُ حَيَوَانِيَّةٌ ، رَخْرِفَةُ هَنْدَسِيَّةٌ ، رَخْرِفَةُ كِتَابِيَّةٌ .



الرَّخْرِفَةُ النَّبَاتِيَّةُ : تَعْتَمِدُ فِي رَسْمِهَا عَلَى النَّبَاتَاتِ خَاصَّةً الْأُورَاقَ



الرَّخْرِفَةُ الْحَيَوَانِيَّةُ : تَعْتَمِدُ فِي رَسْمِهَا عَلَى الْحَيَوَانَاتِ



الرَّخْرِفَةُ الْهَنْدَسِيَّةُ : تَعْتَمِدُ فِي رَسْمِهَا عَلَى أَشْكَالٍ هَنْدَسِيَّةٍ



الرَّخْرِفَةُ الْكِتَابِيَّةُ : تَعْتَمِدُ فِي رَسْمِهَا عَلَى الْحُرُوفِ وَ الْكَلِمَاتِ

قَوَاعِدُ الرَّخْرِفَةِ :

- 1 - الْمُوَازَنَةُ : يُرَسَّمُ الشَّكْلُ بِطَرِيقَةٍ مُتَوَازِنَةٍ بِدُونِ تَنَاقُضٍ .
- 2 - التَّنَازُلُ : يَجِبُ أَنْ يَكُونَ هُنَاكَ تَنَازُلٌ وَتَمَازُلٌ بَيْنَ نِصْفَيِ الشَّكْلِ الرَّخْرِفِيِّ .
- 3 - التَّكَرَّارُ : تَعْتَمِدُ الرَّخْرِفَةُ عَلَى تَكَرَّارِ الْأَشْكَالِ وَالْأَلْوَانِ
- 4 - التَّشَعُّبُ : يَجِبُ أَنْ يَكُونَ هُنَاكَ تَدَاخُلٌ وَتَشَعُّبٌ فِي الرَّخْرِفَةِ .
- 5 - التَّنَاسُبُ : يَجِبُ أَنْ يَكُونَ هُنَاكَ تَنَاسُقٌ بَيْنَ الْأَشْكَالِ وَالْأَلْوَانِ عِنْدَ رَسْمِ الرَّخْرِفَةِ .

تَقْنِيَّاتُ الرَّخْرِفَةِ : التَّنْقِيطُ - اللَّطِخُ - الْمَلَأُ - التَّفْرِيعُ - الشَّف

الاسم واللقب :

إمضاء الولي .

العلامة $\frac{10}{10}$



إمْتِحَان الرِّسْم للفصل الثاني

الأستاذة : شيراز عبد الرزاق

العلمة / 0699750008

السنة : الثالثة 3 ابتدائي

السؤال 1 : أكْمِلْ بِمَا يُنَاسِبُ 1 ن

* * * * *

الرَّخْرَفَةُ هِيَ

السؤال 2 : أَكْتُبْ أَنْوَاعَ الرَّخْرَفَةِ 4 ن

* * * * *

.....


.....

.....

.....

السؤال 3 : أَكْتُبْ إِسْمَ الرَّخْرَفَةِ وَأَكْمِلْ تَلْوِينَهَا مُحْتَرِمًا قَوَاعِدَهَا . 5 ن

* * * * *



رَّخْرَفَةُ

الاسم واللقب :

إمضاء الولي

العلامة $\frac{10}{10}$

إمْتِحَان الرِّسْم للفصل الثاني

الأستاذة : شيراز عبد الرزاق

العلمة : 0699750008

السنة : الثالثة 3 ابتدائي

السؤال 1 : أَرْبِط الزَّخْرَفَةَ مَعَ اسْمِهَا (2 ن)



زَخْرَفَةٌ هَنْدَسِيَّةٌ


زَخْرَفَةٌ كِتَابِيَّةٌ

زَخْرَفَةٌ نَبَاتِيَّةٌ

زَخْرَفَةٌ حَيَوَانِيَّةٌ

السؤال 2 : أَكْتُبْ تَقْنِيَّاتِ الزَّخْرَفَةِ (3 ن)

السؤال 3 : أَكْتُبْ إِسْمَ الزَّخْرَفَةِ وَأَكْمِلْ تَلْوِينَهَا مُحْتَرِمًا قَوَاعِدَهَا . (5 ن)



زَخْرَفَةٌ

الاسم واللقب :

إمضاء الولي .

العلامة $\frac{10}{10}$



إمْتِحَان الرّسْم للفصل الثّاني

الأستاذة : شيراز عبد الرزاق

العلمة / 0699750008

السّنة : الثّالثة 3 ابتدائي

السُّؤال 1 : أكْمِلْ بِمَا يُنَاسِبُ 1 ن

الرَّخْرَفَةُ هِيَ رُسُومَاتٌ مُتَشَعِّبَةٌ وَ مُتَنَاسِقَةٌ وَ جَمِيلَةٌ تُسْتَعْمَلُ فِيهَا أَشْكَالٌ مُخْتَلِفَةٌ بِطَرِيقَةِ التَّكَرَّارِ وَ التَّنَازُلِ .

السُّؤال 2 : أَكْتُبْ أَنْوَاعَ الرَّخْرَفَةِ 4 ن

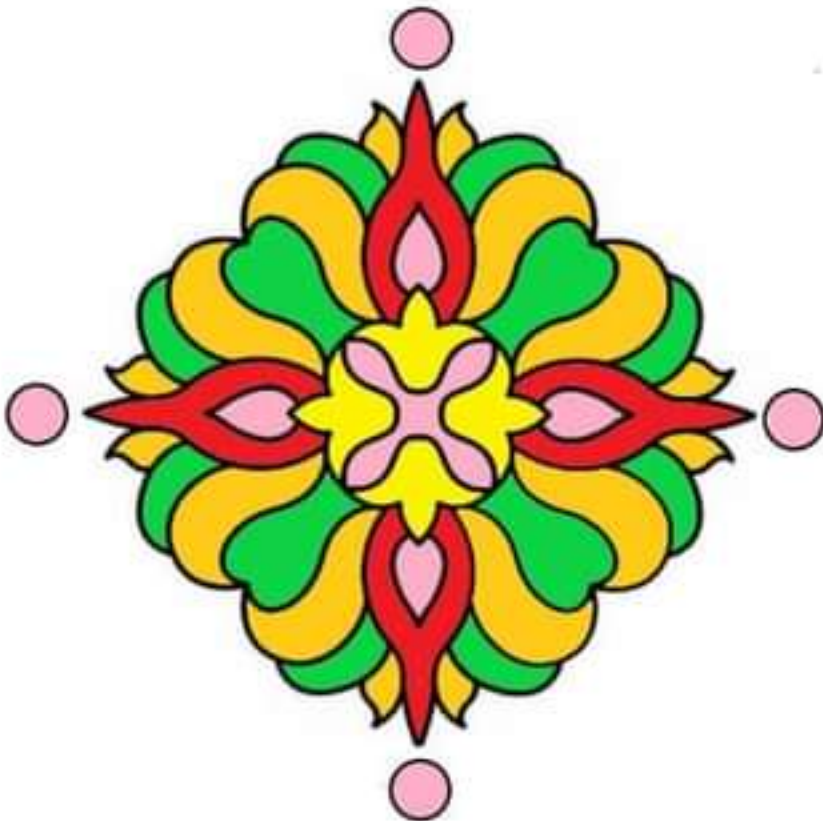
1 - زُخْرَفَةٌ نَبَاتِيَّةٌ

2 - زُخْرَفَةٌ حَيَوَانِيَّةٌ

3 - زُخْرَفَةٌ هَنْدَسِيَّةٌ

4 - زُخْرَفَةٌ كِتَابِيَّةٌ

السُّؤال 3 : أَكْتُبْ إِسْمَ الرَّخْرَفَةِ وَ أَكْمِلْ تَلْوِينَهَا مُحْتَرِمًا قَوَاعِدَهَا . 5 ن



زُخْرَفَةٌ نَبَاتِيَّةٌ

الاسم واللقب :

إمضاء الولي

العلامة $\frac{10}{10}$

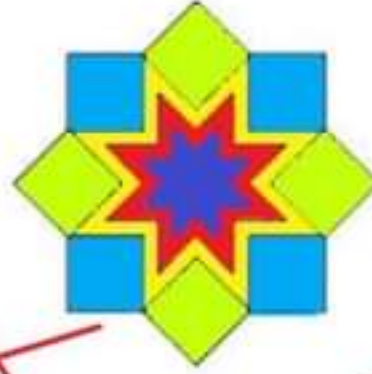
إِمْتِحَان الرِّسْم لِلْفَصْلِ الثَّانِي

الأستاذة : شيراز عبد الرزاق

العلامة / 0699750008

السنة : الثالثة 3 ابتدائي

السؤال 1 : أَرْبِطِ الزَّخْرَفَةَ مَعَ اسْمِهَا (2 ن)



زَخْرَفَةٌ هَنْدَسِيَّةٌ

زَخْرَفَةٌ كِتَابِيَّةٌ


زَخْرَفَةٌ نَبَاتِيَّةٌ

زَخْرَفَةٌ حَيَوَانِيَّةٌ

السؤال 2 : أَكْتُبْ تَقْنِيَّاتِ الزَّخْرَفَةِ (3 ن)

التَّنْقِيطُ - اللَّطْخُ - الْمَلَأُ - التَّفْرِيعُ - الشَّف.

السؤال 3 : أَكْتُبْ إِسْمَ الزَّخْرَفَةِ وَأَكْمِلْ تَلْوِينَهَا مُحْتَرِمًا قَوَاعِدَهَا . (5 ن)



زَخْرَفَةٌ هَنْدَسِيَّةٌ

الموقع الأول لتحضير الفروض والاختبارات في الجزائر

<https://www.dzexams.com>

https://www.dzexams.com/ar/0ap	القسم التحضيري
https://www.dzexams.com/ar/1ap	السنة الأولى ابتدائي
https://www.dzexams.com/ar/2ap	السنة الثانية ابتدائي
https://www.dzexams.com/ar/3ap	السنة الثالثة ابتدائي
https://www.dzexams.com/ar/4ap	السنة الرابعة ابتدائي
https://www.dzexams.com/ar/5ap	السنة الخامسة ابتدائي
https://www.dzexams.com/ar/bep	شهادة التعليم الابتدائي
https://www.dzexams.com/ar/1am	السنة الأولى متوسط
https://www.dzexams.com/ar/2am	السنة الثانية متوسط
https://www.dzexams.com/ar/3am	السنة الثالثة متوسط
https://www.dzexams.com/ar/4am	السنة الرابعة متوسط
https://www.dzexams.com/ar/bem	شهادة التعليم المتوسط
https://www.dzexams.com/ar/1as	السنة الأولى ثانوي
https://www.dzexams.com/ar/2as	السنة الثانية ثانوي
https://www.dzexams.com/ar/3as	السنة الثالثة ثانوي
https://www.dzexams.com/ar/bac	شهادة البكالوريا

المستوى: السنة الثالثة ابتدائي

الاسم واللقب:

مدرسة:

السنة الدراسية: 2024/2023

اختبار الفصل الأول في مادة التربية الفنية

لَوْنِ الرُّسُومَاتِ الْآتِيَةِ مُسْتَعْمِلًا أَلْوَانَكَ الْحَارَّةَ وَالْبَارِدَةَ لِتَسْتَمْتَعَ بِجَمَالِ الصُّورَةِ



الأستاذ بكوش جعفر

الموقع الأول لتحضير الفروض والاختبارات في الجزائر

<https://www.dzexams.com>


https://www.dzexams.com/ar/0ap	القسم التحضيري
https://www.dzexams.com/ar/1ap	السنة الأولى ابتدائي
https://www.dzexams.com/ar/2ap	السنة الثانية ابتدائي
https://www.dzexams.com/ar/3ap	السنة الثالثة ابتدائي
https://www.dzexams.com/ar/4ap	السنة الرابعة ابتدائي
https://www.dzexams.com/ar/5ap	السنة الخامسة ابتدائي
https://www.dzexams.com/ar/bep	شهادة التعليم الابتدائي
https://www.dzexams.com/ar/1am	السنة الأولى متوسط
https://www.dzexams.com/ar/2am	السنة الثانية متوسط
https://www.dzexams.com/ar/3am	السنة الثالثة متوسط
https://www.dzexams.com/ar/4am	السنة الرابعة متوسط
https://www.dzexams.com/ar/bem	شهادة التعليم المتوسط
https://www.dzexams.com/ar/1as	السنة الأولى ثانوي
https://www.dzexams.com/ar/2as	السنة الثانية ثانوي
https://www.dzexams.com/ar/3as	السنة الثالثة ثانوي
https://www.dzexams.com/ar/bac	شهادة البكالوريا

اختبار التربية التشكيلية للفصل الثالث

الاسم و اللقب:

الوضعية (10 ن)

التعليمية: أرسم الزخرفة التالية مُتَّبِعًا الطَّرِيقَةَ الصَّحِيحَةَ فِي الرَّسْمِ، بِالتَّلْوِينِ.



الموقع الأول لتحضير الفروض والاختبارات في الجزائر

<https://www.dzexams.com>

https://www.dzexams.com/ar/0ap	القسم التحضيري
https://www.dzexams.com/ar/1ap	السنة الأولى ابتدائي
https://www.dzexams.com/ar/2ap	السنة الثانية ابتدائي
https://www.dzexams.com/ar/3ap	السنة الثالثة ابتدائي
https://www.dzexams.com/ar/4ap	السنة الرابعة ابتدائي
https://www.dzexams.com/ar/5ap	السنة الخامسة ابتدائي
https://www.dzexams.com/ar/bep	شهادة التعليم الابتدائي
https://www.dzexams.com/ar/1am	السنة الأولى متوسط
https://www.dzexams.com/ar/2am	السنة الثانية متوسط
https://www.dzexams.com/ar/3am	السنة الثالثة متوسط
https://www.dzexams.com/ar/4am	السنة الرابعة متوسط
https://www.dzexams.com/ar/bem	شهادة التعليم المتوسط
https://www.dzexams.com/ar/1as	السنة الأولى ثانوي
https://www.dzexams.com/ar/2as	السنة الثانية ثانوي
https://www.dzexams.com/ar/3as	السنة الثالثة ثانوي
https://www.dzexams.com/ar/bac	شهادة البكالوريا