






جِد الرِّقْم السَّابِق والرِّقْم اللاحِق.



عُدّ الكُرّات و اكتب الرِّقْم:
قَرَأ الرِّقْم ثمّ شَطِّب الكُرّات الزَّائِدَة:



المعلمة المتخصصة:
نقاز خديجة

أَكْمَل الكتابة بالحُرُوف أو بالأَرْقَام:



تِسْعَة.



.....



أَرْبَعَة.



.....




اربط كل شاحنة برُتبتها:






اكمل الترتيب التصاعدي و التنازلي:



المعلمة المتخصصة :
نقاز خديجة



جد الناتج:



$$7 - 3 = \dots$$

$$2 + 6 = \dots$$

الوضعية الإدماجية:

لديك 8 أقلام ألوان، ضيّعت 2.
كم عدد الأقلام المتبقية لديك ؟



عدد الأقلام المتبقية عندي هو

