

**النشاط 1:** أنجز العمليات التالية:

498+185=.....	956-437=.....	763-284=.....	416+125=.....
$\begin{array}{r} \phantom{0} \phantom{0} \phantom{0} \phantom{0} \\ + \phantom{0} \phantom{0} \phantom{0} \phantom{0} \\ \hline = \phantom{0} \phantom{0} \phantom{0} \phantom{0} \end{array}$	$\begin{array}{r} \phantom{0} \phantom{0} \phantom{0} \phantom{0} \\ - \phantom{0} \phantom{0} \phantom{0} \phantom{0} \\ \hline = \phantom{0} \phantom{0} \phantom{0} \phantom{0} \end{array}$	$\begin{array}{r} \phantom{0} \phantom{0} \phantom{0} \phantom{0} \\ - \phantom{0} \phantom{0} \phantom{0} \phantom{0} \\ \hline = \phantom{0} \phantom{0} \phantom{0} \phantom{0} \end{array}$	$\begin{array}{r} \phantom{0} \phantom{0} \phantom{0} \phantom{0} \\ + \phantom{0} \phantom{0} \phantom{0} \phantom{0} \\ \hline = \phantom{0} \phantom{0} \phantom{0} \phantom{0} \end{array}$

**النشاط 2:**




أحصر الأعداد التالية بين مئتين متتاليتين:

- ..... < 349 < .....
- ..... < 269 < .....
- ..... < 782 < .....

أحصر الأعداد التالية بين عشرين متتاليتين:

- ..... < 526 < .....
- ..... < 832 < .....
- ..... < 295 < .....

**النشاط 3:** أكمل الحساب:

		
$\dots + \dots + \dots + \dots = \dots$ $\dots \times \dots = \dots$	$\dots + \dots + \dots = \dots$ $\dots \times \dots = \dots$	$\dots + \dots + \dots + \dots = \dots$ $\dots \times \dots = \dots$

**النشاط 4:**

يوجد في البستان 5 صفوف لأشجار البرتقال في كل صف 23 شجرة



- ما هو عدد أشجار البرتقال؟

$$\dots + \dots + \dots + \dots + \dots = \dots$$

$$\dots \times \dots = \dots$$

• عدد الأشجار هو ..... شجرة