

اختبار الفصل الثالث في التربية الإسلامية

1 – أربط بين الآية و السورة :

إنه كان توابا

فصلي لربك و انحر

سورة النصر

أنا أعطيناك الكوثر

سورة الكوثر

إذا جاء نصر الله و الفتح

2- رَتَّبِ الصَّلَوَاتِ الْخَمْسَ بِوَضْعِ أَرْقَامٍ:

- الْمَغْرَبُ

.....

- الصُّبْحُ

.....

- الْعِشَاءُ

.....

- الْعَصْرُ

.....

- الظُّهْرُ

.....

3- أَجِبْ بِـ : "ص" أو "خ":

- يَنَامُ الْمُسْلِمُ عَلَى جَنْبِهِ الْأَيْسَرِ (.....)

- الْمُسْلِمُ يَرُدُّ السَّلَامَ (.....)

- الشَّهَادَتَانِ هُمَا الرُّكْنُ الثَّلَاثُ مِنَ أَرْكَانِ الْإِسْلَامِ (.....)

4- أَمَلَا الْفَرَاغَ بِمَا يَنَاسِبُ : يَلِيكَ – كُل – غِلَام – اللَّهُ

يا..... سم..... و..... بيمينك و كل مما.....

اختبار الفصل الثالث في اللغة العربية

السند :

اقْتَرَبَ عِيدُ الْأَضْحَى، فَاشْتَرَى أَبِي كَبْشًا سَمِينًا، طَوِيلَ الْقَرْنَيْنِ، فَقَالَتْ خَدِجَةُ: لَعَلَّهُ جَائِعٌ، سَأُقَدِّمُ لَهُ بَعْضَ الْعُشْبِ الطَّرِيِّ.

الأسئلة :

- 1 - يتحدث السند عن :
عيد الفطر - عيد الاستقلال - عيد الاضحى
- 2 - اشترى الأب كبشا :
قصير القرنين - طويل القرنين
- 3 - استخراج من السند :

الشدة	الهمزة	ال القمرية	ال الشمسية
.....

4 - أكمل بما يناسب : الذي - التي - الذين - اللواتي .

- الشهداء هم ضحوا من أجلنا .
- خديجة هي سقت الأزهار.
- الفتيات هن نظفن الحي .
- أحمد هو غرس الشجيرة .

5 - ارسم علامات الوقف المناسبة : ؟ ! :

قال أحمد () ما اكبر هذا الكبش () هل سنشتريه يا أبي ()

6 - أرتب :

أمي - أبي - الكبش - دبج - الكبد - وشوت -

تصحيح اختبار الفصل الثالث في اللغة العربية

اِقْتَرَبَ عِيدُ الْأَضْحَى، فَاشْتَرَى أَبِي كَبْشًا سَمِينًا، طَوِيلَ الْقَرْنَيْنِ، فَقَالَتْ خَدِجَةُ:
لَعَلَّهُ جَائِعٌ، سَأُقَدِّمُ لَهُ بَعْضَ الْعُشْبِ الطَّرِيِّ.

1. يتحدث السند عن: عيد الأضحى
2. **اشترى الأب كبشًا: طويل القرنين
3. **استخراج من السند:
 - ال الشمسية: **الْقَرْنَيْنِ
 - ال القمرية: **الْعُشْبِ
 - الهمزة: **أَضْحَى
 - الشدة: **سَمِينًا، جَائِعٌ، سَأُقَدِّمُ، الطَّرِيِّ

4. أكمل بما يناسب:
 - الشهداء هم الذين ضحوا من أجلنا.
 - خديجة هي التي سقت الأزهار.
 - الفتيات هن اللواتي نظفن الحيّ.
 - أحمد هو الذي غرس الشجيرة.

5. علامات الوقف المناسبة: **
 - قال أحمد : ما أكبر هذا الكبش ! هل سنشتريه يا أبي ؟

6. ترتيب الكلمات:
أبي دح الكبش و أمي شوت الكبد .

اختبار الفصل الثالث في الرياضيات

1 أكتب الأعداد بالأرقام :

- خمسة و عشرون
- ثلاثون
- سبعة و أربعون
- تسعة و ستون

2- أقرن باستعمال $(>)$ ، $(<)$ ، $(=)$:

57	.	75 -
35	.	30+5 -
89	.	69 -
10+10+10	.	30 -

3- أحسب عموديا ما يلي :


$$52 + 45 = ..$$

$$63 + 24 = ..$$

$$79 - 35 = ..$$

$$85 - 63 = ..$$

4 – أصل بالمسطرة النقاط للحصول على أشكال و أسميها



أرسم دائرة

5 – الوضعية الإدماجية

- في بستان 35 شجرة خوخ و 42 شجرة برتقال . ما هو عدد الأشجار في البستان ؟

القسم : ال أولى ابتدائي

التلميذ :

اختبار الفصل الثالث في التربية الإسلامية

التمرين الاول: أرتب العبارات لأحصل على الشهادتان:

لَا إِلَهَ إِلَّا اللَّهُ رَسُولُ اللَّهِ أَشْهَدُ أَنْ مُحَمَّدٌ



التمرين الثاني: أرتب الصلوات التالية بوضع الأرقام :

العصر - الصبح - العشاء - الظهر - المغرب

التمرين الثالث: أرتب الجملة ، لأحصل على دعاء النوم

وَضَعْتُ - رَبِّي - وَبِكَ - جَنَّبِي - بِاسْمِكَ - أَرْفَعُهُ



التمرين الرابع: أربط بين الآية والسورة المناسبة:

سورة الفاتحة

فَصَلِّ لِرَبِّكَ وَأَنْحَرْ

سورة النَّاسِ

مَلِكِ يَوْمِ الدِّينِ

سورة الكوثر

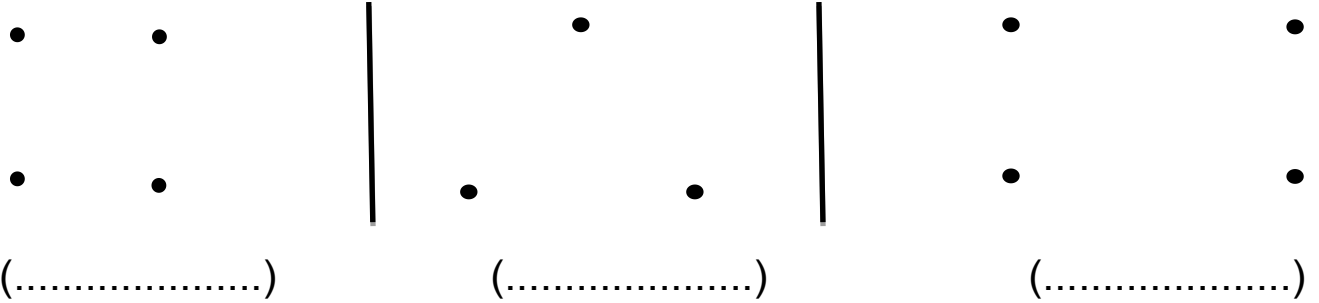
مَلِكِ النَّاسِ إِلَهِ النَّاسِ

القسم : ال أولى ابتدائي

التلميذ :

اختبار الفصل الثالث في الرياضيات

التمرين الأول: صل بالمسطرة النقط للحصول على أشكالٍ وسمّها.



التمرين الثاني: رتب الأعداد التالية من الأصغر إلى الأكبر.

40 ، 20 ، 80 ، 60 ، 70 ، 90 ، 10 ، 50 ، 30



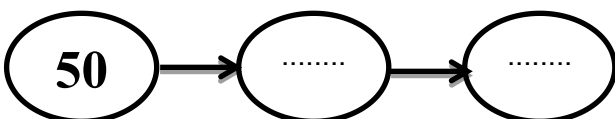
10
----	-------	-------	-------	-------	-------	-------	-------	-------

التمرين الثالث: أحسب ما يلي:

4 8
+
2 1
= . .

6 7
+
2 2
= . .

التمرين الرابع: أكمل كتابة الأعداد المتتالية

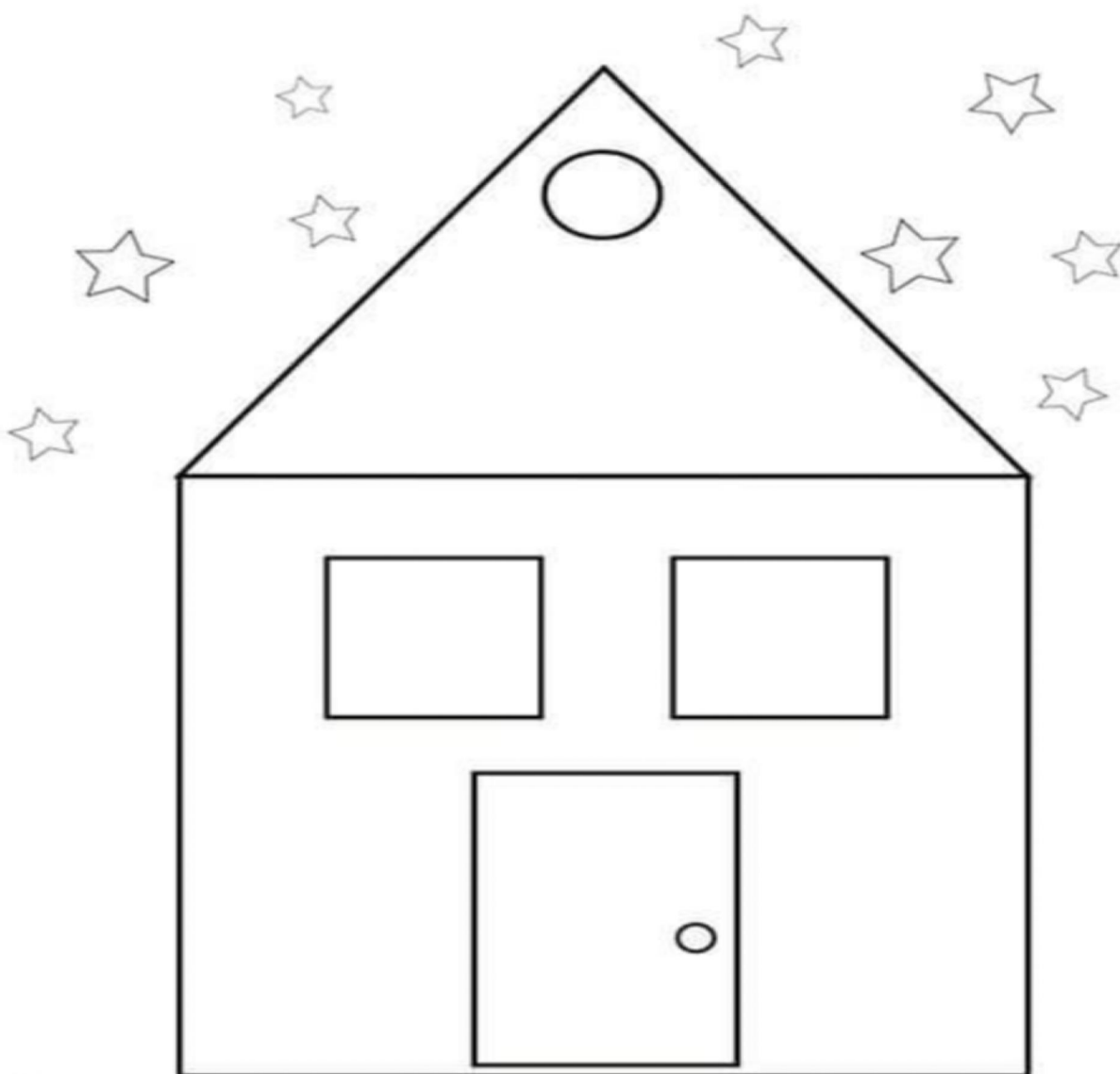


التمرين الخامس: أفكّك و أركب

$35+52 = + + +$ $= +$ $=$	$46+23 = + + +$ $= +$ $=$
--	---

المستوى: السنة 1 — ابتدائي	امتحان الفصل الثالث	مدرسة:
التلميذ:	في التربية التشكيلية	يوم:

لون المنزل بالاستعانة بألوان الأشكال



المستوى: السنة 1 - ابتدائي

التلميذ:

امتحان الفصل الثالث

في التربية التشكيلية


مدرسة:

يوم:

الأشكال



ألون حسب الدليل:



المستوى: السنة 1 - ابتدائي

التلميذ:


امتحان الفصل الثالث

في التربية التشكيلية

مدرسة:


يوم:

1/ لون الرسم حسب لون الحرف :



.....: التلميذ:	في التربية التشكيلية	يوم:
-----------------	----------------------	------------

1/ خط و لون الرسم حسب النموذج



المستوى: السنـة 1 ابتدائي

امتحان الفصل الثالث

مدرسة:

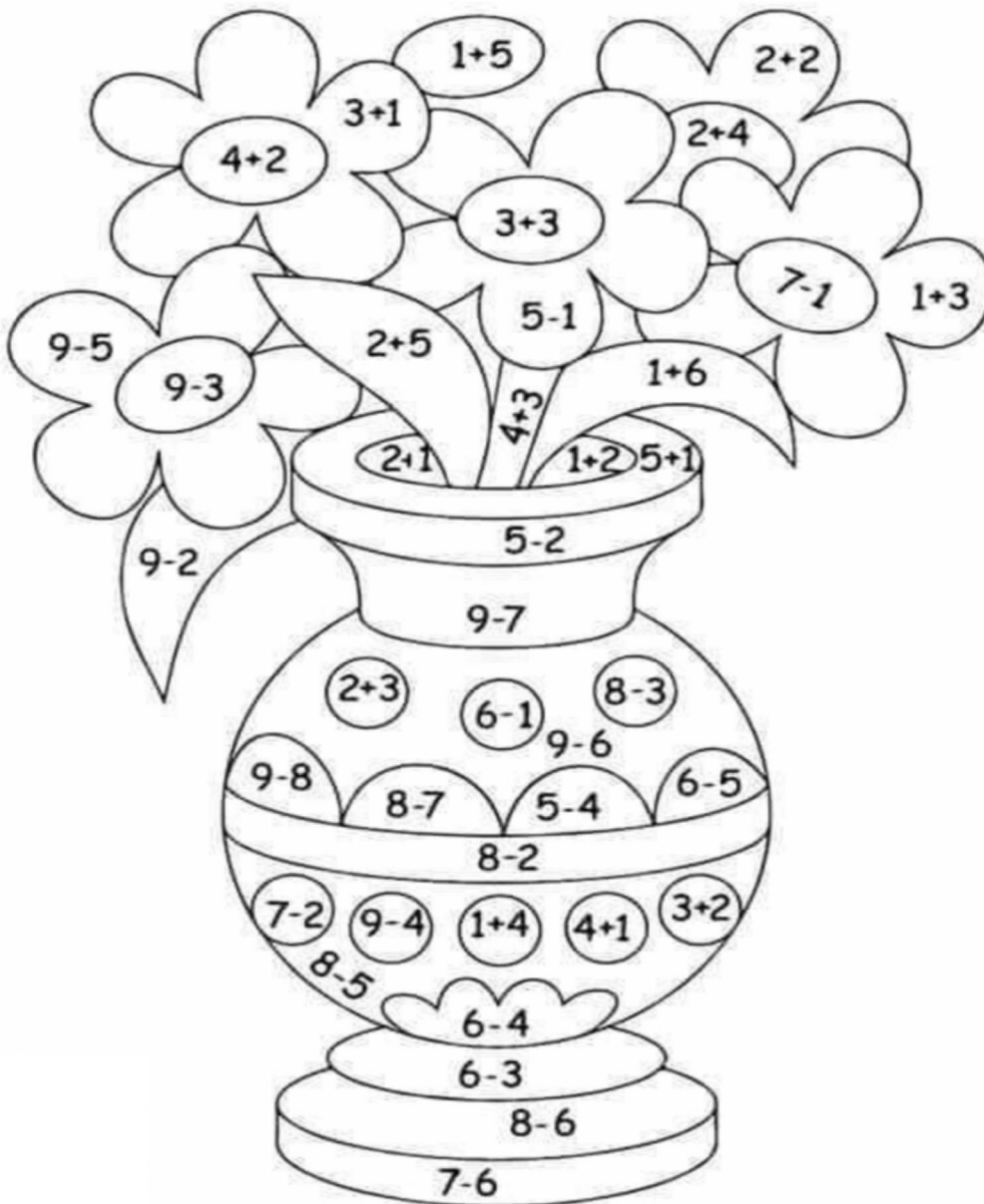
التلميذ:

في التربية التشكيلية

يوم:

1/ لون الرسم بالالوان المناسبة

أحسب و لون



- 1
- 2
- 3
- 4
- 5
- 6
- 7

المستوى: السنـة 1 ابتدائي	امتحان الفصل الثالث	مدرسة:
التلميذ:	في التربية التشكيلية	يوم:

1/ صل بين الارقام من 1 إلى 35 ثم لون الرسم بالالوان المناسبة



المستوى: السنـ1ـة ابتدائي

امتحان الفصل الثالث

مدرسة:

التلميذ:

في التربية التشكيلية

يوم:

1/ لون الرسم حسب الدليل .

اسم الحشرة هو :

