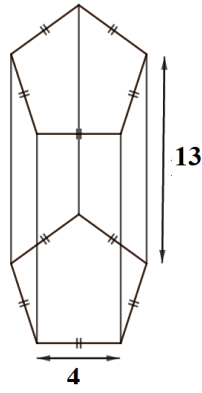
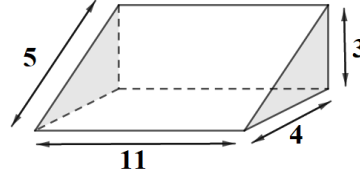


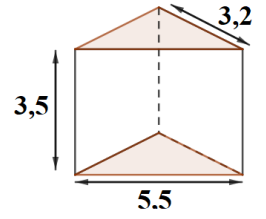
الموشور 4



الموشور 3

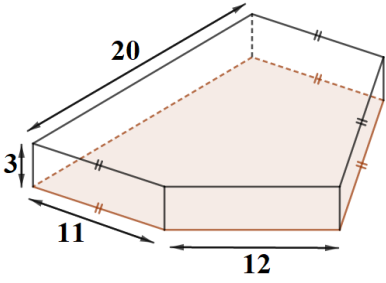


الموشور 2

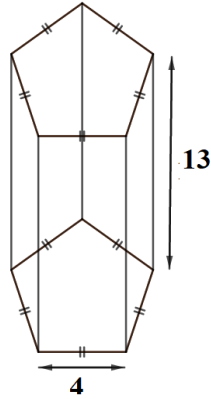


الموشور 1

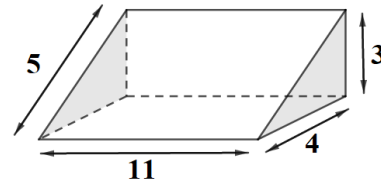
- 1- اذكر عدد الرؤوس ، وعدد الأوجه الجانبية لكل موشور.
- 2- احسب المساحة الجانبية لكل موشور.
- 3- احسب حجم الموشور (2) بـ  $cm^3$  ثم بـ L.



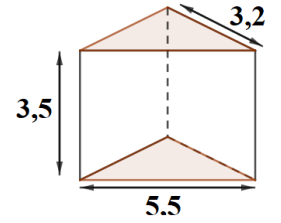
الموشور 4



الموشور 3

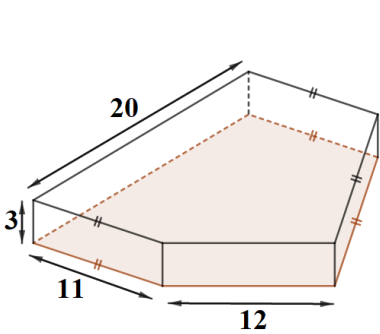


الموشور 2

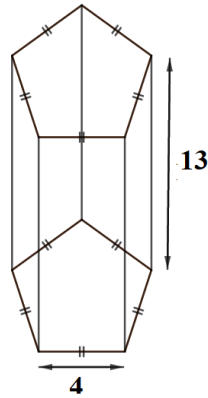


الموشور 1

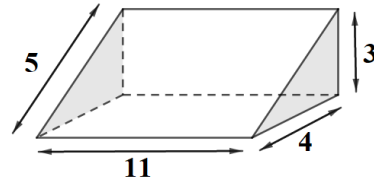
- 1- اذكر عدد الرؤوس ، وعدد الأوجه الجانبية لكل موشور.
- 2- احسب المساحة الجانبية لكل موشور.
- 3- احسب حجم الموشور (2) بـ  $cm^3$  ثم بـ L.



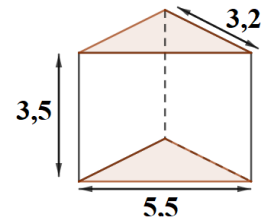
الموشور 4



الموشور 3



الموشور 2



الموشور 1

- 1- اذكر عدد الرؤوس ، وعدد الأوجه الجانبية لكل موشور.
- 2- احسب المساحة الجانبية لكل موشور.
- 3- احسب حجم الموشور (2) بـ  $cm^3$  ثم بـ L.