

❖ الأعداد إلى 9999 ، قياس مدد (1)

❖ الأشكال المستوية والمضلعات

❖ علاقات حسابية بين الأعداد (3)





1- احسب عموديا

$2589 \times 5$

$75820 - 25369$

$12548 + 47321$

2- أكمل بما يناسب

التوقيت بالحروف	.....	الخامسة و ربع	.....	الثالثة تماما
صباحا	:	:	:	:
مساء	:	:	:	:
رسم العقارب				

3- يبدأ برنامج عائلة أمين المفضل على الساعة الرابعة مساء و يدوم نصف ساعة



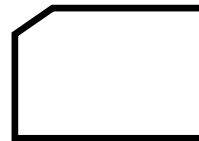
- اكتب بالأرقام توقيت بدء البرنامج.....
- اكتب بالأرقام توقيت نهاية البرنامج.....
- حول ما يلي :  $1h = \dots \text{min}$  ;  $1h15\text{min} = \dots \text{min}$
- $4h = \dots \text{min}$  ;  $2h30\text{min} = \dots \text{min}$  ;
- $1h45\text{min} = \dots \text{min}$

4- أكمل الجدول بما يناسب

العدد	12368	42152	25694	25000	6108
ضعفه					
نصفه					

5- من أنا؟

- أنا مضلع لي 4 أضلاع متقايسة و 4 زوايا قائمة اسمي هو .....
- أنا مضلع لي 6 رؤوس و 6 أضلاع و 6 زوايا اسمي هو .....
- أعط وصفا للأشكال التالية حسب السؤالين السابقين :



.....

.....

.....

.....

.....

.....

خطه ميديني في التخطيط الإداري