



الاسم واللقب: .....

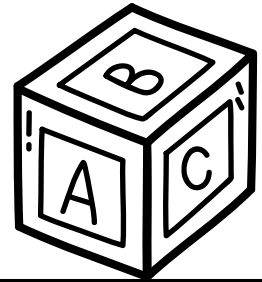
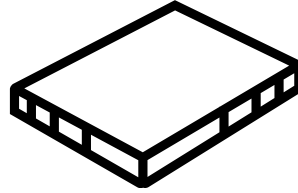
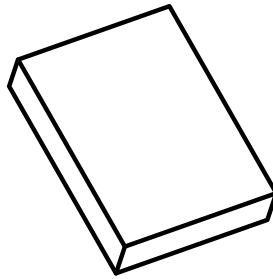

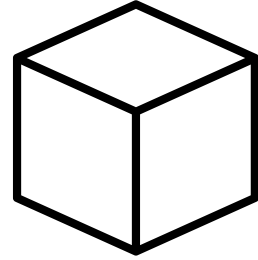
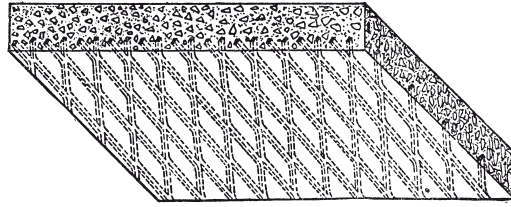
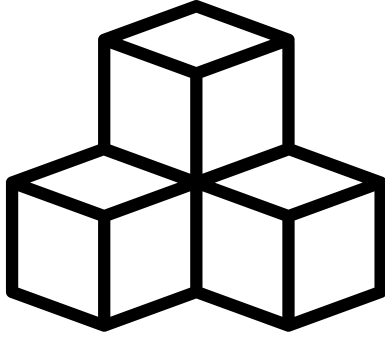
المكعب و البلاطة القائمة

1










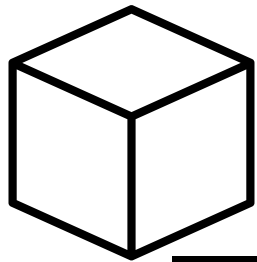
لون كل مكعب بالأخضر و كل بلاطة قائمة بالأحمر

التمرين 1:



لون بالاصفر المكعب ووجوهه و بالبنى البلاطة القائمة ووجوها

التمرين 2:





الاسم واللقب: .....

المتعم الى العشرة الموالية

1



أكمل ملأ الفراغات

التمرين 1:

$$23 + \dots = 30$$

$$18 + \dots = 20$$

$$16 + \dots = 20$$

$$47 + \dots = 50$$

$$38 + \dots = 40$$

$$26 + \dots = 30$$

$$44 + \dots = 50$$

$$54 + \dots = 60$$

$$51 + \dots = 60$$

لون المجاميع التي مجموعها عدد كامل من العشرات

التمرين 2:

$$16 + 4$$

$$37 + 3$$

$$32 + 6$$

$$23 + 7$$

$$58 + 2$$

$$22 + 9$$

$$55 + 5$$

$$44 + 9$$

اكتب مكان النقاط المتعم الى العشرة الموالية

التمرين 3:

24

.....

17

.....

23

.....

36

.....

53

.....

44

.....



الاسم واللقب: .....

الحساب بتمعن (2)

1



$$3 + 8 = 3 + 7 + 1$$

$$3 + 8 = 10 + 1$$

$$3 + 8 = 11$$

احسب ما يلي باتباع تفكيك العشرة

التمرين 1:

$$4 + 8 = \dots + \dots + \dots$$

$$4 + 8 = \dots + \dots$$

$$4 + 8 = \dots$$

$$4 + 9 = \dots + \dots + \dots$$

$$4 + 9 = \dots + \dots$$

$$4 + 9 = \dots$$

$$5 + 7 = \dots + \dots + \dots$$

$$5 + 7 = \dots + \dots$$

$$5 + 7 = \dots$$

$$3 + 8 = 3 + 3 + 5$$

$$3 + 8 = 6 + 5$$

$$3 + 8 = 11$$

احسب ما يلي بالارتكاز على الضعف

التمرين 2:

$$4 + 8 = \dots + \dots + \dots$$

$$4 + 8 = \dots + \dots$$

$$4 + 8 = \dots$$

$$4 + 9 = \dots + \dots + \dots$$

$$4 + 9 = \dots + \dots$$

$$4 + 9 = \dots$$

$$5 + 7 = \dots + \dots + \dots$$

$$5 + 7 = \dots + \dots$$

$$5 + 7 = \dots$$

ضع علامة x تحت الاكياس التي سيأخذها

التمرين 3:

يريد امين اخذ 15 ديناراً

ضع علامة x تحت الاكياس التي سيأخذها

