

# السنة 2

## الضرب بين التعبير اللغوي و الترميز

الأستاذ زين الدين

1 أكمّل كما في المثال :

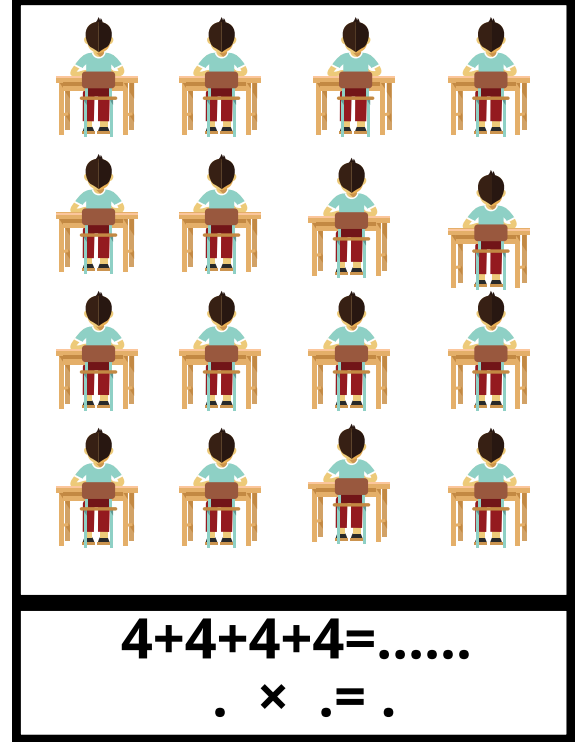

$$5+5+5=..... \rightarrow ....\times ....=....$$

$$3+3+3+3 = 12 \rightarrow 3\times 4=12$$

$$2+2+2+2=..... \rightarrow ....\times ....=....$$

$$4+4+4+4+4=..... \rightarrow 4\times 5=.....$$


2 أَحْسِبْ عَدَدَ التَّلَامِيذِ فِي كُلِّ قَسْمٍ بِطَرِيقَتَيْنِ مُخْتَلِفَتَيْنِ .



$$4+4+4+4=.....$$

$$. \times . = .$$

3



اشترى أحمد 4 عُلَبِ بَيْضٍ ، في كُلِّ عُلْبَةٍ 10 بَيْضَاتٍ .  
كَمْ بَيْضَةً اشترى أحمد ؟

الجواب



## السنة 2

الضرب بين التعبير اللغوي و الترميز

الأستاذ زين الدين

1 أكمّل كما في المثال :

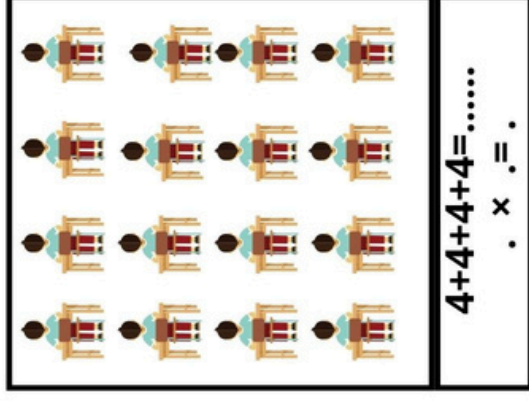

$$5+5+5=..... \rightarrow \dots \times \dots = \dots$$

$$3+3+3+3 = 12 \rightarrow 3 \times 4 = 12$$

$$2+2+2+2=..... \rightarrow \dots \times \dots = \dots$$

$$4+4+4+4=..... \rightarrow 4 \times 5 = \dots$$

2 احسب عدد التلاميذ في كل قسم بطريقتين مختلفتين .



$$4+4+4+4=.....$$

$$\dots \times \dots = \dots$$

3

اشترى أحمد 4 علب بيض ، في كل عبة 10 بيضات .

كم بيضة اشترى أحمد ؟



الجواب



## السنة 2

الضرب بين التعبير اللغوي و الترميز

الأستاذ زين الدين

1 أكمّل كما في المثال :

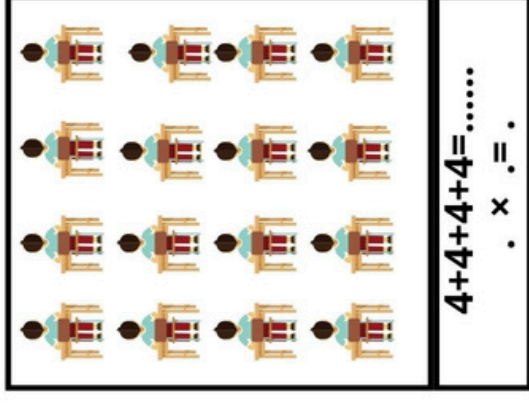

$$5+5+5=..... \rightarrow \dots \times \dots = \dots$$

$$3+3+3+3 = 12 \rightarrow 3 \times 4 = 12$$

$$2+2+2+2=..... \rightarrow \dots \times \dots = \dots$$

$$4+4+4+4=..... \rightarrow 4 \times 5 = \dots$$

2 احسب عدد التلاميذ في كل قسم بطريقتين مختلفتين .



$$4+4+4+4=.....$$

$$\dots \times \dots = \dots$$

3

اشترى أحمد 4 علب بيض ، في كل عبة 10 بيضات .

كم بيضة اشترى أحمد ؟



الجواب

