



الأستاذ أمين للابتدائي



# المراجعة الذهبية عطلة الربيع

1

السنة الأولى إبتدائي

الاسم واللقب :

.....

رياضيات

لغة  
عربية

عطلة سعيدة براعمي

الاسم واللقب: .....

مراجعة عطلة الربيع

1



التمرين 1:


سَمَاءٌ - فَيْلٌ - وَلَدٌ - يَدٌ - ثَلَاثَةٌ

صنّف الكلمات في مكانها المناسب



لاحظ الصورة وأكتب اسمها

التمرين 2:



وَرَاءَ - تَحْتَ - فَوْقَ - هَذَا - هَذِهِ

أكمل بالصيغة المناسبة

التمرين 3:

الْقِطَّةُ ..... الطاولة

يَحِطُّ الْعَصْفُورُ ..... الشَّجَرَةَ.

..... أُمِّي و ..... أَبِي.

يَخْتَبِئُ الْوَلَدُ ..... الْبَابَ.

أَنْتَ - هُوَ - هِيَ - أَنْتِ - هُمَا - هُمْ

أضع كل ضمير في مكانه المناسب

التمرين 4:

..... رَسَمْتُ زَهْرَةَ.

..... رَسَمُوا زَهْرَةَ.

..... رَسَمَ زَهْرَةَ.

..... رَسَمْتُ زَهْرَةَ.

..... رَسَمَا زَهْرَةَ.

..... رَسَمْتُ زَهْرَةَ.

أكمل بالحرف الناقص

التمرين 5:



م... تِيح

م... لَتْ

طَا... رَة

ح... بَان

صَارُوا ...

ك... بْ

الاسم واللقب: .....

مراجعة عطلة الربيع



السند:

في عطلة نهاية الأسبوع ، ذهب أمين مع أصدقائه إلى ملعب الحي ليلعبوا مباراة في كرة القدم ضد فريق بلال ، كانت مباراة قوية انتهت بفوز فريق أمين ثلاثة لواحد .

### البناء الفكري

أنواع الرياضة

مباراة في كرة القدم

1 لَوْن العُنْوَان المُناسب للنص :

2 أَيْنَ ذهب أمين وأصدقائه ؟ ذهب .....

خسارة

انتصار

3 لَوْن الإجابة الصحيحة : مرادف كلمة : فوز .

1 استخرج من السند كلمات فيها

البناء اللغوي

كلمة مُشدَّدة	ق	ث	ي	ف
الك القمرية	ذ	ك	و	ع

2 كيف - لماذا - تحت - فوق - ما أروع

أضع كل صيغة في مكانها المناسب

- الطعام ..... المائدة .

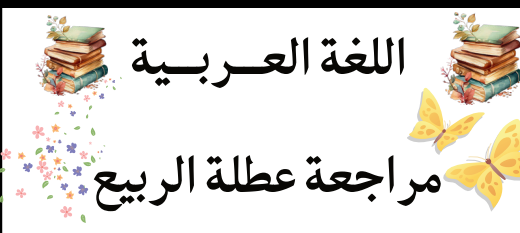
- ..... لم تحضر أدواتك ؟

- ..... فصل الربيع !

الأوساخ كثيرة ..... الطاولة .

- ..... تحصلت على علامات ممتازة

الاسم واللقب: .....



1



أَكْمِلْ بِمَا يَنَاسِبُ

3

- أَنْتُمْ لَعِبْتُمْ..... كُرَةَ الْقَدَمِ.

- أَنْتُنَّ لَعِبْتُمْ..... كُرَةَ الْقَدَمِ.

- أَنَا لَعِبْتُ..... كُرَةَ الْقَدَمِ.

- أَنْتَ لَعِبْتَ..... كُرَةَ الْقَدَمِ.

- أَنْتِ لَعِبْتِ..... كُرَةَ الْقَدَمِ.

- أَنْتُمَا لَعِبْتُمْ..... كُرَةَ الْقَدَمِ.

أَرْتَبِ الْكَلِمَاتِ لِلْحُصُولِ عَلَى جُمْلٍ مُفِيدَةٍ

4

غَرَسَ

شَجِيرَةً

خُوحٍ

بِلَالٌ

لَذِيذًا

الْأُمِّ

تَطْبُخُ

طَعَامًا

الْوَلَدِ

بِقُوَّةٍ

الْكُرَةَ

يَسَدُّ



عَبِّرْ عَنِ الْمَشَاهِدِ التَّالِيَةِ بِجُمْلٍ بَسِيطَةٍ

5





الاسم واللقب: .....

اكتب بالأرقام أو بالحروف

التمرين 1 :

.....	68	.....	57
وَاحِدٌ وَأَرْبَعُونَ	.....	تِسْعَةٌ وَخَمْسُونَ	.....

احسب العمليات التالية بدقة

التمرين 2 :

$55 + 13 = \dots$	$23 + 15 = \dots$	$27 + 42 = \dots$	$32 + 35 = \dots$
$69 + 18 = \dots$	$38 + 14 = \dots$	$59 + 41 = \dots$	$68 - 23 = \dots$
$33 + \dots = 40$	$58 + \dots = 60$	$17 + \dots = 20$	$43 - \dots = 50$

اكتب مواقيت الساعة

التمرين 3 :



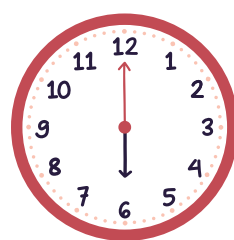
مساءً

.. : ..



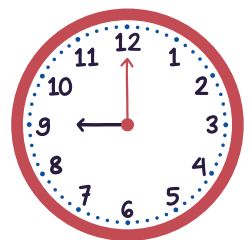
مساءً

.. : ..



صباحاً

.. : ..




صباحاً

.. : ..

ارتب الأعداد التالية تصاعدياً

التمرين 4 :

34 - 8 - 21 - 46 - 27 - 58



..... - ..... - ..... - ..... - ..... - .....

مراجعة عطلة الربيع

فكّ الأعداد التالية

التمرين 5:

$$32 = .. + .. + .. + ..$$

$$32 = .. + ..$$

$$32 = ..$$

$$48 = .. + .. + .. + .. + ..$$

$$48 = .. + ..$$

$$48 = ..$$



$$56 = .. + .. + .. + .. + .. + ..$$

$$56 = .. + ..$$

$$56 = ..$$

سمّ المجسمات الآتية

التمرين 6:



.....

.....

.....

.....

.....

اربط الأشياء المتشابهة باستعمال المسطرة

لون السيارات التي في استقامية

التمرين 7:



رّكّز لتجيب بدقة

التمرين 8:

عرّس الفلاح الصغير إياد في حقله 45 شجيرة خوخ و 32 شجيرة إجاص

ما هو عدد كلّ الشجيرات التي عرّسها الفلاح الصغير ؟

... = ...

الشجيرات التي عرّسها الفلاح الصغير هو ..... شجيرة

