



اربط كل مجموعة بِالْعِبَارَةِ الْمُنَاسِبَةِ

الوضعية 1 :



3 صُفُوفٍ مِنْ

4 عُلَبِ عَصِيرٍ

عَدَدُ الْعُلَبِ : .....

صَفَانِ مِنْ

مُحَفَظَتَيْنِ

عَدَدُ الْمَحَافِظِ : .....

4 صُفُوفٍ مِنْ

4 كُرَاتٍ

عَدَدُ الْكُرَاتِ : .....

عَبِّرْ عَنْ عَدَدِ الْفَوَاكِهِ بِطَرِيقَتَيْنِ

الوضعية 2 :



.....

1- بِاسْتِعْمَالِ الْجَمْعِ

.....

2 - بِاسْتِعْمَالِ الضَّرْبِ




.....

1- بِاسْتِعْمَالِ الْجَمْعِ

.....

2 - بِاسْتِعْمَالِ الضَّرْبِ



.....

1- بِاسْتِعْمَالِ الْجَمْعِ

.....

2 - بِاسْتِعْمَالِ الضَّرْبِ



SUBSCRIBE

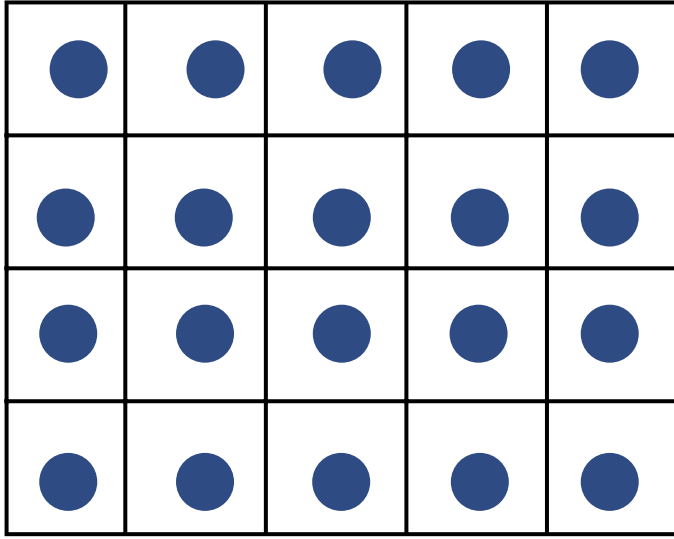


Telegram



أَحْسِبْ عَدَدَ الْقَرِيصَاتِ الْمَرْسُومَةِ فِي خَانَاتِ الْمَرْصُوفَةِ

الوضعية 1 :



1- بِاسْتِعْمَالِ الْكِتَابَةِ الْجَمْعِيَّةِ :

.....

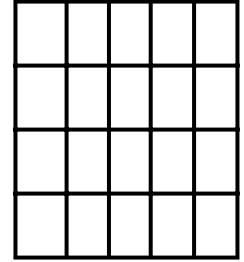
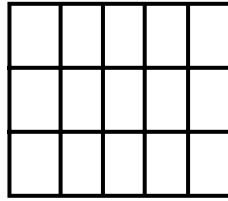
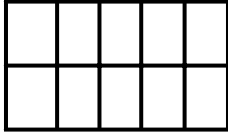
2- بِاسْتِعْمَالِ الْكِتَابَةِ الضَّرْبِيَّةِ :

.....

• الإجابة : عَدَدُ الْقَرِيصَاتِ هُوَ : .....

أَحْسِبْ الْجَدَاءَاتِ بِاسْتِعْمَالِ الْمَرْصُوفَةِ

الوضعية 2 :



..... X ..... = .....

..... X ..... = .....

..... X ..... = .....

أَحْسِبْ الْجَدَاءَاتِ التَّالِيَةَ

الوضعية 3 :

$$3 \times 4 = \dots$$

$$5 \times 2 = \dots$$

$$2 \times 2 = \dots$$

$$2 \times 3 = \dots$$

$$4 \times 3 = \dots$$

$$3 \times 2 = \dots$$

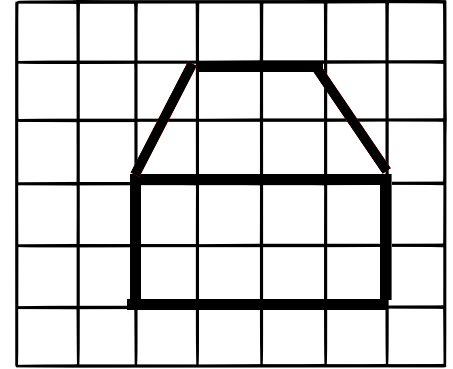

$$5 \times 4 = \dots$$

$$3 \times 1 = \dots$$

$$3 \times 3 = \dots$$

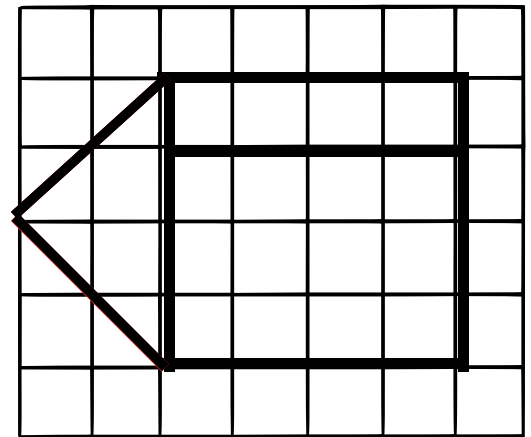


أُنْقِلْ الرَّسْمَ عَلَى الْمَرَصُوفَةِ الْكَبِيرَةِ

الوضعية 1 :



أُنْقِلْ الرَّسْمَ عَلَى الْمَرَصُوفَةِ الْكَبِيرَةِ

الوضعية 2 :





SUBSCRIBE



Telegram



التعرف على محور تناظر شكل

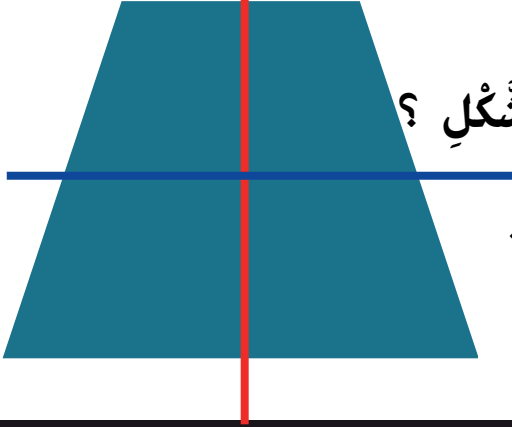
(أ)

أجب عن السؤال التالي

الوضعية 1 :



• أيُّ المُستقيمين (أ) أو (ب) محور تناظر لهذا الشكل ؟

• .....





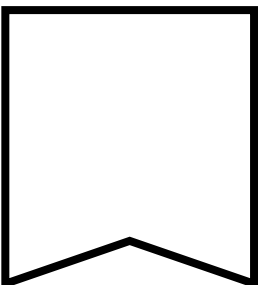
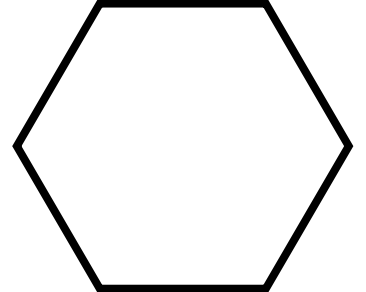
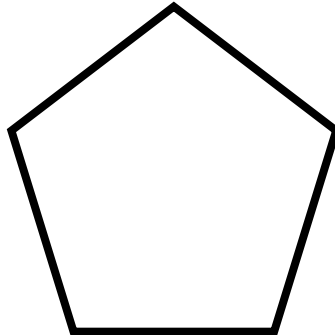

ضع علامة x تحت الأشكال التي تقبل التناظر

الوضعية 2 :



إبحث عن محور تناظر هذه الأشكال و أرسمه بالأحمر

الوضعية 3 :



**الوضعية الأولى:** اُكْتُبِ الْعَدَدَ الَّذِي يَسْبِقُ وَ الَّذِي يَلِي . 

.....	876	.....
.....	599	.....

.....	935	.....
.....	605	.....

**الوضعية الثانية:** قَارِنْ بِاسْتِعْمَالِ الرَّمْزَيْنِ < > كَمَا فِي الْمِثَالِ . 

546 > 456	126 . 654	956 . 569
962 . 926	302 . 716	500 . 712
599 . 999	898 . 789	823 . 698

**الوضعية الثالثة:** أَحْصِرِ الْعَدَدَ بَيْنَ مَائَتَيْنِ مُتَتَالِيَتَيْنِ 

..... < 710 < .....	..... < 465 < .....	..... < 320 < .....
---------------------	---------------------	---------------------

**الوضعية الرابعة:** رَتِّبِ الْأَعْدَادَ التَّالِيَةَ تَصَاعُدِيًّا 

915 ، 650 ، 980 ، 495 ، 890 ، 735 ، 716

495 < ..... < ..... < ..... < ..... < ..... < .....

الوضعية الأولى:



يملك إسماعيل 50 دينارًا وَ تملك أخته رتاج ضعف المبلغ  
• كم تملك رتاج ؟  
• كم يملك إسماعيل وَ رتاج معًا ؟



الأجوبة

الحل

العمليات

$$\dots = \dots$$

تملك رتاج ..... دينارًا

$$\dots = \dots$$

يملك إسماعيل وَ رتاج معًا ..... دينارًا

$$\begin{array}{r} \dots \\ \dots \\ \hline = \dots \end{array}$$

$$\begin{array}{r} \dots \\ \dots \\ \hline = \dots \end{array}$$

يملك كريم 455 دينارًا وَ تملك أخته مريم 50 دينارًا أقل منه.  
• كم تملك مريم ؟  
• كم يملكان معًا ؟

الوضعية الثانية:



الأجوبة

الحل

العمليات

$$\dots = \dots$$

تملك مريم ..... دينارًا

$$\dots = \dots$$


يملكان معًا ..... دينارًا

$$\begin{array}{r} \dots \\ \dots \\ \hline = \dots \end{array}$$

$$\begin{array}{r} \dots \\ \dots \\ \hline = \dots \end{array}$$

يوجد في مزرعة الفلاح 148 شجرة برتقال وَ 125 شجرة برتقال  
• ماهو عدد أشجار المزرعة ؟  
• لم تُثمر من أشجار المزرعة سوى 200 شجرة .  
• ما هو عدد الأشجار غير المثمرة ؟

الوضعية الثالثة:



الأجوبة

الحل

العمليات

$$\dots = \dots$$

عدد أشجار المزرعة ..... شجرة .

$$\dots = \dots$$

عدد الأشجار غير المثمرة ..... شجرة .

$$\begin{array}{r} \dots \\ \dots \\ \hline = \dots \end{array}$$

$$\begin{array}{r} \dots \\ \dots \\ \hline = \dots \end{array}$$

أُنجزُ الْعَمَلِيَّاتِ التَّالِيَةَ بِدِقَّةٍ

الوضعية 1 :

$$\begin{array}{r} 875 \\ - 261 \\ \hline = \end{array}$$

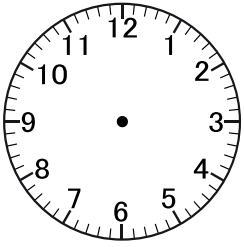
$$\begin{array}{r} 998 \\ - 175 \\ \hline = \end{array}$$

$$\begin{array}{r} 328 \\ + 414 \\ \hline = \end{array}$$

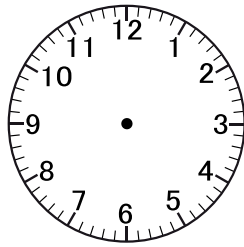
$$\begin{array}{r} 827 \\ + 123 \\ \hline = \end{array}$$

اُكْتُبِ الْوَقْتَ بِالْأَرْقَامِ وَ ارْسُمِ عَقَارِبَ السَّاعَةِ


الوضعية 2 :




14 : 30



8 : 00



... : ...  
مَسَاءً



... : ...  
صَبَاحًا

أَكْمِلِ الْجَدْوَلَ

الوضعية 3 :

الْعَدَدُ	كِتَابَتُهُ بِالْحُرُوفِ	تَفْكِهُ	حَضْرُهُ بَيْنَ عَشْرَتَيْنِ مُتَتَالِيَتَيْنِ
142	.....	142 =	142 < <
703	.....	703 =	703 < <

أَمْثِلُ النُّقُودَ

الوضعية 4 :

..... دِينَارًا	850 دِينَارًا	370 دِينَارًا	..... دِينَارًا

..... سَتِيْمِثِر

قِس بِمُسْطَرَكِ الْمَسَارِ التَّالِي

الوضعية 6 :

..... سَتِيْمِثِر


..... سَتِيْمِثِر

• مَا هُوَ طَوْلُ الْمَسَارِ بِالسَّتِيْمِثِر ؟

• الْعَمَلِيَّةُ : ..... = ..... . ..... . .....

حَوْظْ عَلَى الْمُضْلَعَاتِ وَعَيِّنِ الزَّوَايَا الْقَائِمَةَ إِنَّ وَجِدَتْ .

الوضعية 7 :



رَتِّبِ الْأَعْدَادَ التَّالِيَةَ تَصَاعُدِيًّا

الوضعية 8 :

452 ، 753 ، 320 ، 495 ، 362 ، 611 ، 980

320 &lt; ..... &lt; ..... &lt; ..... &lt; ..... &lt; ..... &lt; .....

الوضعية الادماجية

فِي أَحَدِ الْمَتَاجِرِ، كَانَ هُنَاكَ 426 كِتَابًا عَلَى الرَّفُوفِ. ثُمَّ تَمَّ إِضَافَةُ 217 كِتَابًا جَدِيدًا إِلَى الْمَخْزُونِ. فِي الْيَوْمِ التَّالِيِ، تَمَّ بَيْعُ 523 كِتَابًا.

• كَمْ كِتَابًا عَلَى الرَّفُوفِ؟

• كَمْ كِتَابًا بَقِيَ فِي الْمَخْزُونِ بَعْدَ الْبَيْعِ ؟



الْأَجْوِبَةُ

الْحَلْ

الْعَمَلِيَّاتِ

..... = .....

..... •

..... = .....

..... •

.....

.....

•

•

.....

.....

= .....

= .....





SUBSCRIBE



Telegram




أَكْمِلْ تَرْتِيبَ الْأَشْيَاءِ بِتَرْقِيمِهَا مِنَ الْأَخْفِ إِلَى الْأَثْقَلِ

الوضعية 1 :



صَّعْ عَلاَمَةً X فِي الْمَكَانِ الْمُنَاسِبِ

الوضعية 2 :



لَا



التفاحة أخف من الفراولة. نَعَمْ




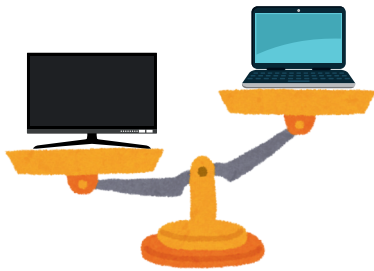
لَا



البرتقالة أثقل من الموزة. نَعَمْ



أَكْمِلْ بِالْعِبَارَةِ الْمُنَاسِبَةِ : أَثْقَلُ مِنْ - أَخْفَ مِنْ

الوضعية 3 :



• الْحَاسُوبُ ..... التِّلْفَازِ.

• الْمِخْفَظَةُ ..... الْمِقْلَمَةِ.



• الْبَطِيخَةُ ..... الْإِجَاصَةِ.

• الْمَوْزُ ..... الْعِنَبِ.



SUBSCRIBE



Telegram



رَتِّبِ الْأَعْدَادَ التَّالِيَةَ تَصَاعُديًا

الوضعية 1 :

652 ، 123 ، 520 ، 231 ، 716 ، 899 ، 325

123 &lt; ..... &lt; ..... &lt; ..... &lt; ..... &lt; ..... &lt; .....

أُخْصِرِ الْأَعْدَدَ بَيْنَ الْأَعْدَدِ الَّذِي يَسْبِقُ وَ الَّذِي يَلِي

الوضعية 2 :

..... &lt; 623 &lt; .....

..... &lt; 219 &lt; .....

..... &lt; 145 &lt; .....

..... &lt; 844 &lt; .....

..... &lt; 485 &lt; .....

..... &lt; 320 &lt; .....

أُخْصِرِ الْأَعْدَدَ بَيْنَ عَشْرَتَيْنِ مُتَتَالِيَتَيْنِ

الوضعية 3 :

..... &lt; 965 &lt; .....

..... &lt; 286 &lt; .....

..... &lt; 729 &lt; .....

..... &lt; 771 &lt; .....

..... &lt; 453 &lt; .....

..... &lt; 345 &lt; .....

أُخْصِرِ الْأَعْدَدَ بَيْنَ مَائَتَيْنِ مُتَتَالِيَتَيْنِ

الوضعية 4 :

..... &lt; 511 &lt; .....

..... &lt; 385 &lt; .....

..... &lt; 219 &lt; .....

..... &lt; 736 &lt; .....

..... &lt; 449 &lt; .....

..... &lt; 176 &lt; .....



SUBSCRIBE

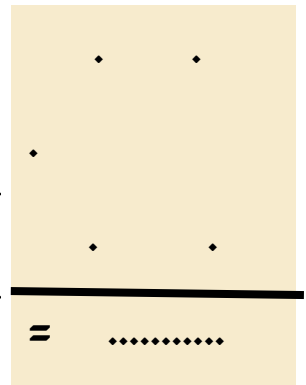
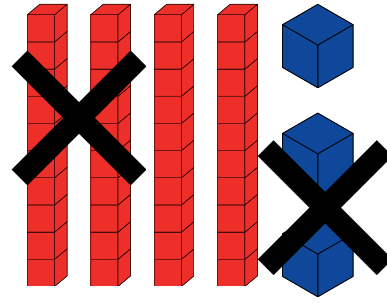
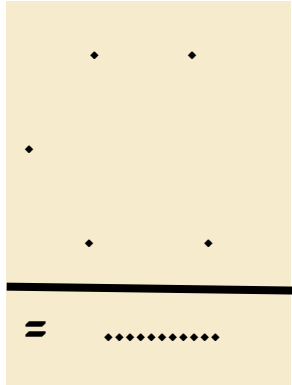
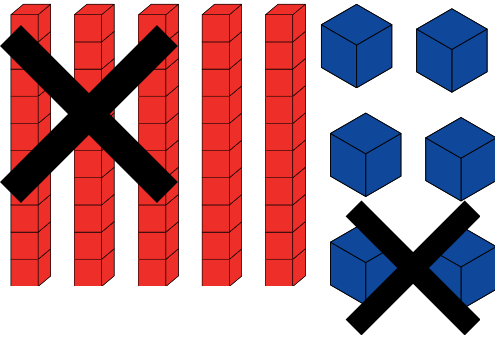


Telegram



اكتب العملية المناسبة للرسم ثم أنجزها

الوضعية 1 :



أنجز العمليات التالية عمودياً

الوضعية 2 :

$$49 - 32 = \dots$$

$$66 - 46 = \dots$$

$$57 - 15 = \dots$$

$$99 - 26 = \dots$$

$$- \quad . \quad .$$

$$- \quad . \quad .$$

$$- \quad . \quad .$$

$$- \quad . \quad .$$

$$= \quad . \quad .$$

$$= \quad . \quad .$$

$$= \quad . \quad .$$

$$= \quad . \quad .$$

$$86 - 72 = \dots$$

$$69 - 51 = \dots$$

$$83 - 61 = \dots$$

$$76 - 25 = \dots$$

$$- \quad . \quad .$$

$$- \quad . \quad .$$

$$- \quad . \quad .$$

$$- \quad . \quad .$$

$$= \quad . \quad .$$

$$= \quad . \quad .$$

$$= \quad . \quad .$$

$$= \quad . \quad .$$

كان لدى أمين 75 كرة زجاجية ، لكنه فقد بعضها أثناء اللعب مع أصدقائه ، عندما عاد إلى المنزل ، عد ما تبقى له فوجد أنه يملك 54 كرة فقط . كم كرة زجاجية فقد أمين ؟

الوضعية 3 :

الاجوبة

الحل

العمليات

$$. \quad . \quad . \quad . \quad . \quad = \quad . \quad . \quad .$$

$$. \quad . \quad .$$

$$- \quad . \quad .$$

$$= \quad . \quad .$$

.....



SUBSCRIBE



Telegram



أنجز العمليات التالية بدقة .

الوضعية 1 :

7	1
-	
4	7
=	.

9	6
-	
5	8
=	.

8	3
-	
2	5
=	.

أنجز العمليات التالية عمودياً

الوضعية 2 :

41 - 29 = ....
-
.
.
=

66 - 48 = ....
-
.
.
=

77 - 19 = ....
-
.
.
=

81 - 26 = ....
-
.
.
=

96 - 77 = ....
-
.
.
=

92 - 54 = ....
-
.
.
=

83 - 65 = ....
-
.
.
=

76 - 58 = ....
-
.
.
=

يملك إِيَادُ مَبْلَغ 95 دِينَارًا ، فاشترى قَلَمًا بِـ 68 دِينَارًا  
مَا هُوَ الْمَبْلَغُ الَّذِي بَقِيَ لِإِيَادِ ؟

الوضعية 3 :



الاجوبة

الحل

العمليات

..... = .....

.....

.	.	.
-	.	.
=	.	.



SUBSCRIBE

Telegram

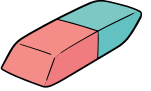


لَا حِظَّ الْمِثَالِ وَ عَيْنَ خَانَةِ كُلِّ شَكْلِ بِالسَّطْرِ وَالْعُمُودِ

الوضعية 1 :

هـ					
د					
ج					
ب					
أ					
	1	2	3	4	5

ج 1 ،



..... ، .....



..... ، .....



..... ، .....



..... ، .....



أَرْسُمُ الْمَسْلَكَ الَّذِي يَتَّبِعُهُ الْوَلَدُ لِلْوُضُولِ إِلَى الْمَدْرَسَةِ حَسَبَ الْأَشْهُمِ

الوضعية 2 :








SUBSCRIBE






Telegram



أَكْمِلْ بِالْعِبَارَةِ الْمُنَاسِبَةِ : أَثْقَلُ مِنْ - أَخَفُّ مِنْ - لَهَا نَفْسُ الْكُتْلَةِ

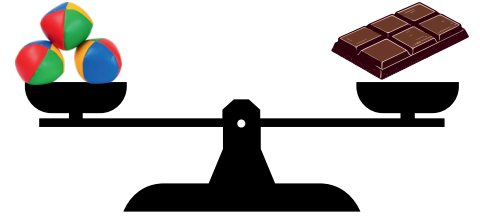
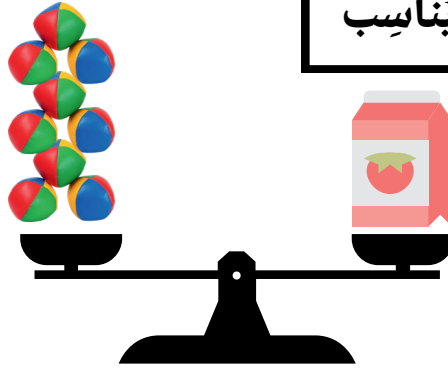
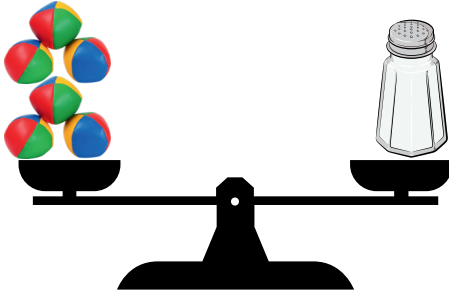
الوضعية 1 :



• البَطِيخُ ..... الْبُرْتُقَالُ • الْفَرَاوِلَةُ ..... الْبُرْتُقَالُ • الْفَرَاوِلَةُ ..... الْمَوْزُ.

أَكْمِلْ بِمَا يُنَاسِبُ

الوضعية 2 :



• تَزِنُ الشُّكُولَاظَةُ ..... كُرَيَاتٍ • تَزِنُ عُلْبَةُ الطَّمَاظِمِ ..... كُرَيَاتٍ • تَزِنُ قَارُورَةُ الْمِلْحِ ..... كُرَيَاتٍ.

رَتِّبِ الْأَشْيَاءَ الثَّلَاثَةَ مِنَ الْأَخَفِّ إِلَى الْأَثْقَلِ

.....

.....

.....

حَوِّطْ عَلَى أَثْقَلِ الْخُضَرِ وَ شَطِّبْ أَخْفَهَا

الوضعية 3 :

