





الإسم واللقب :

نموذج للتدرب على آلية الضرب 05

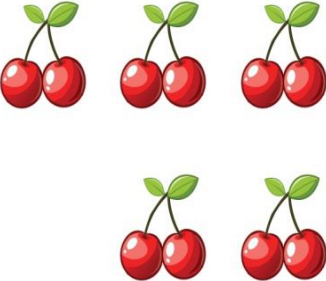



النشاط 1: لَوْنِ الإِجَابَةَ الصَّحِيحَةَ حَسَبَ كُلِّ عَمَلِيَّةٍ ، وَأَكْمِلِ حِسَابَ الْعَمَلِيَّةِ ، حَسَبَ الْمِثَالِ .

2x5=.....	3x6=.....	4x4=.....	5x3=15
2+2+2+2	3+3+3+3+3+3	4+4+4	5+5+5+5
2+2+2	3+3+3+3+3	4+4+4+4+4	5+5+5
2+2+2+2+2	3+3+3	4+4+4+4	5+5

النشاط الثاني: إِلَيْكَ الْجَدْوَلُ التَّالِي مِثْلُ الْأَشْكَالِ بِعَمَلِيَّاتِ جَمْعٍ وَضَرْبٍ وَأَكْتُبِ النَّتَائِجَ حَسَبَ الْمِثَالِ.

			
.....	5+5=10
.....	5x5=10
الجمع	الجمع	الجمع	الجمع
الضرب	الضرب	الضرب	الضرب

النشاط الثالث: حَوِّطِ الْخُضَرَ وَ الْفَوَاكِهَ حَسَبَ الْعَمَلِيَّةِ أَسْفَلَ وَأَتِمِّمْ مَا يَجِبُ إِيْتَامَهُ. حَسَبَ الْمِثَالِ .

			
.....+...+...+...=...	4+4+4=12
.....x.....=.....	4x3=12

مشكلة: عِنْدَ أَسَامَةِ 3 أَكْيَاسٍ ، فِي كُلِّ كَيْسٍ 5 فُرَيْصَاتٍ

1- مِثْلُ أَكْيَاسِ الْفُرَيْصَاتِ

2- كَمْ فُرَيْصَةً يَمْلِكُ أَسَامَةُ ؟

- الْعَمَلِيَّةُ : أ / طَرِيقَةُ الْجَمْعِ :

ب / طَرِيقَةُ الضَّرْبِ :

يَمْلِكُ أَسَامَةُ فُرَيْصَةً .

