



أُتدرب على عمليات الضرب


النشاط 1: أكمل بما يناسب.



.....



..... = ... X ... = ...



.... + + + = X =

النشاط الثاني: أكمل رسم النقط كما في المثال .

$$1 \times 7 = 7$$



$$2 \times 0 = 0$$



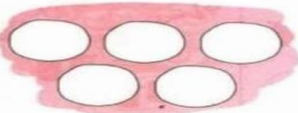
$$2 \times 5 = 10$$



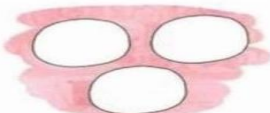
$$3 \times 4 = 12$$



$$5 \times 1 = 5$$



$$3 \times 2 = 6$$



$$2 \times 4 = 8$$



$$4 \times 2 = 8$$



النشاط الثالث: أكمل حسب المثال

2 2 2 2 2 2

العدد مكرر مرات

5 5 5 5 5

العدد مكرر مرات

6 6 6

العدد مكرر مرات

3 3 3 3

العدد 3 مكرر 4 مَرَّات

$$3+3+3+3 = 3 \times 4 = 12$$

النشاط الرابع: أكمل العملية ورسم النقط داخل المربعات حسب العملية .




$$6 + \dots\dots\dots$$



$$3 + \dots\dots\dots$$



$$5 + \dots + \dots + \dots + \dots = \dots \times \dots = \dots$$



$$4+4+4=4 \times 3 = \dots\dots\dots$$

النشاط الخامس: اربط بما يناسب حسب المثال.

$$15 =$$

$$25 =$$

$$40 =$$

$$20 =$$

$$5+5+5+5+5+5$$

$$5+5+5$$

$$5+5+5+5$$

$$5+5+5+5+5+5+5+5$$

$$5 \times 8$$

$$5 \times 6$$

$$5 \times 3$$

$$5 \times 4$$