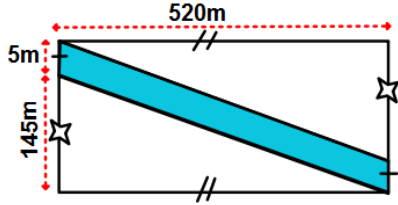
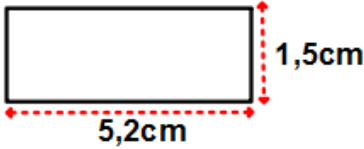


وضعية الإنطلاق

في إطار الدعم الفلاحي المسطر من طرف الدولة استفاد الحاج أحمد من قطعة أرض مستطيلة الشكل؛ و عند استلامه للوثائق الخاصة بالأرض، طلب من ابنه خالد الذي يدرس في السنة ثانية متوسط أن يشرح له ما هو مكتوب فوجد المخطط التالي:

150	520	m	المسافة الحقيقية بـ
1,5	5,2	cm	المسافة في المخطط بـ



الأب: ما هي أبعاد القطعة التي استفدنا منها يا ابني؟

خاد: طول القطعة هو: 5,2cm أما عرضها هو: 1,5cm.

الأب متعجباً - هل أنت متأكد يا خالد؟!

1/ بصفتك تدرس في نفس مستوى خالد - ما رأيك في إجابته.

2/ ماذا تمثل القيم المعطاة في الجدول؟

3/ هل هو جدول تناسبية أم لا؟ مبرراً جوابك

4/ هل هي حالة تصغير أم تكبير؟ مع التعليل.

كلف الأب مقاول بفتح طريق وسط القطعة الأرضية لنقل الغلة (الجزء الملون في الشكل).

5/ ما هو الشكل الذي تأخذه الطريق؟ مع ذكر بعض خواصه التي تعرفها.

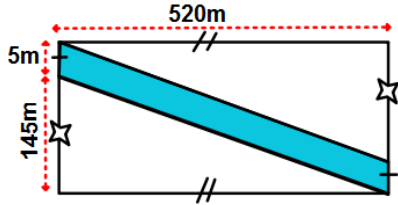
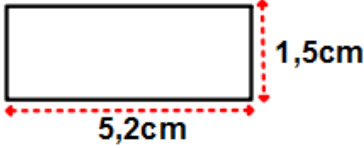
إذا علمت أن ثمن المتر المربع الواحد من الطريق هو 15000DA.

6/ ساعد الحاج أحمد في حساب الثمن الذي يقدمه للمقاول.

وضعية الإنطلاق

في إطار الدعم الفلاحي المسطر من طرف الدولة استفاد الحاج أحمد من قطعة أرض مستطيلة الشكل؛ و عند استلامه للوثائق الخاصة بالأرض، طلب من ابنه خالد الذي يدرس في السنة ثانية متوسط أن يشرح له ما هو مكتوب فوجد المخطط التالي:

150	520	m	المسافة الحقيقية بـ
1,5	5,2	cm	المسافة في المخطط بـ



الأب: ما هي أبعاد القطعة التي استفدنا منها يا ابني؟

خاد: طول القطعة هو: 5,2cm أما عرضها هو: 1,5cm.

الأب متعجباً - هل أنت متأكد يا خالد؟!

1/ بصفتك تدرس في نفس مستوى خالد - ما رأيك في إجابته.

2/ ماذا تمثل القيم المعطاة في الجدول؟

3/ هل هو جدول تناسبية أم لا؟ مبرراً جوابك

4/ هل هي حالة تصغير أم تكبير؟ مع التعليل.

كلف الأب مقاول بفتح طريق وسط القطعة الأرضية لنقل الغلة (الجزء الملون في الشكل).

5/ ما هو الشكل الذي تأخذه الطريق؟ مع ذكر بعض خواصه التي تعرفها.

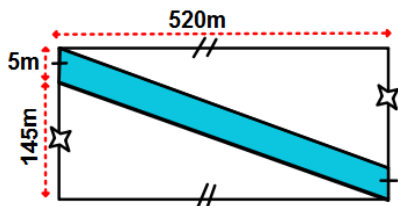
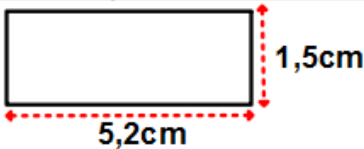
إذا علمت أن ثمن المتر المربع الواحد من الطريق هو 15000DA.

6/ ساعد الحاج أحمد في حساب الثمن الذي يقدمه للمقاول.

وضعية الإنطلاق

في إطار الدعم الفلاحي المسطر من طرف الدولة استفاد الحاج أحمد من قطعة أرض مستطيلة الشكل؛ و عند استلامه للوثائق الخاصة بالأرض، طلب من ابنه خالد الذي يدرس في السنة ثانية متوسط أن يشرح له ما هو مكتوب فوجد المخطط التالي:

150	520	m	المسافة الحقيقية بـ
1,5	5,2	cm	المسافة في المخطط بـ



الأب: ما هي أبعاد القطعة التي استفدنا منها يا ابني؟

خاد: طول القطعة هو: 5,2cm أما عرضها هو: 1,5cm.

الأب متعجباً - هل أنت متأكد يا خالد؟!

1/ بصفتك تدرس في نفس مستوى خالد - ما رأيك في إجابته.

2/ ماذا تمثل القيم المعطاة في الجدول؟

3/ هل هو جدول تناسبية أم لا؟ مبرراً جوابك

4/ هل هي حالة تصغير أم تكبير؟ مع التعليل.

كلف الأب مقاول بفتح طريق وسط القطعة الأرضية لنقل الغلة (الجزء الملون في الشكل).

5/ ما هو الشكل الذي تأخذه الطريق؟ مع ذكر بعض خواصه التي تعرفها.

إذا علمت أن ثمن المتر المربع الواحد من الطريق هو 15000DA.

6/ ساعد الحاج أحمد في حساب الثمن الذي يقدمه للمقاول.