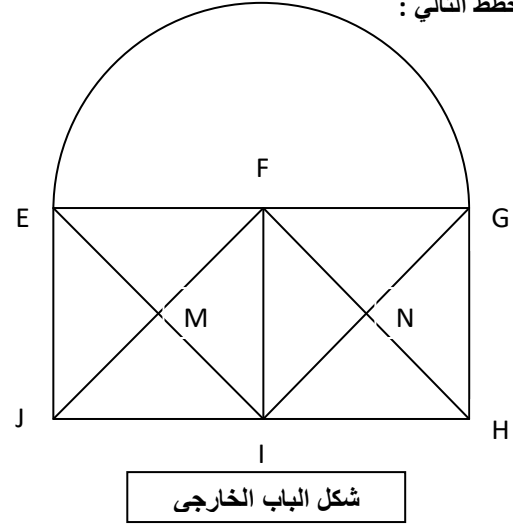
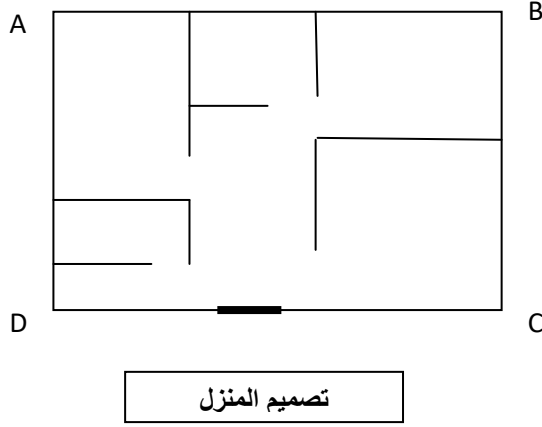


المقطع الاول : انشاء أشكال هندسية بسيطة .

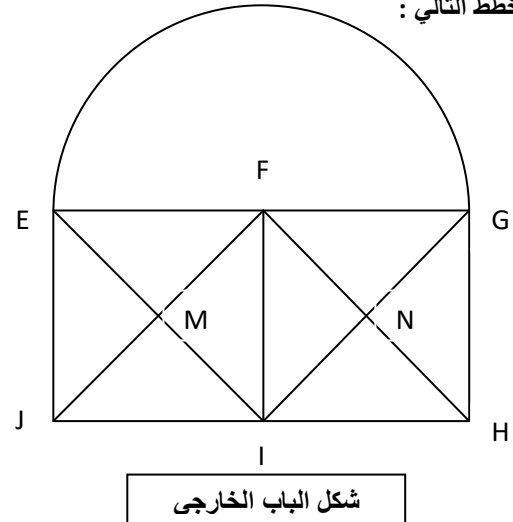
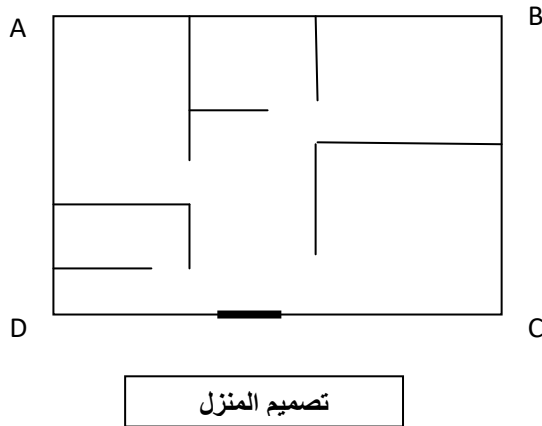
استفاد العم احمد من قطعة أرضية لبناء مسكن ، فاستلم احد المقاولين المشروع و اتفق مع احمد بعد معاينة الارضية على المخطط التالي :



- 1- ما هي وضعية المستقيمان (AB) و (CD) ؟
- 2- ما هي وضعية المستقيمان (AB) و (BC) ؟
- 3- ماذا يمثل (FI) بالنسبة [JH] ؟ و ماذا يمثل (EI) بالنسبة للزاوية  $\widehat{FEJ}$  ؟
- 4- ما طبيعة الأشكال التالية EMF : ، FGH ، FGHI ، EGHJ ، FMIN ؟
- 5- نأخذ  $JH=8cm$  و  $JE=4cm$  = أنشئ على ورقة بيضاء شكل الباب الخارجى ؟ عند بداية البناء استدعى احمد سكان قريته لمساعدته بما يسمى التوزيع
- 6- ما فائدة التوزيع في المجتمع ؟

المقطع الاول : انشاء أشكال هندسية بسيطة .

استفاد العم احمد من قطعة أرضية لبناء مسكن ، فاستلم احد المقاولين المشروع و اتفق مع احمد بعد معاينة الارضية على المخطط التالي :



- 1- ما هي وضعية المستقيمان (AB) و (CD) ؟
- 2- ما هي وضعية المستقيمان (AB) و (BC) ؟
- 3- ماذا يمثل (FI) بالنسبة [JH] ؟ و ماذا يمثل (EI) بالنسبة للزاوية  $\widehat{FEJ}$  ؟
- 4- ما طبيعة الأشكال التالية EMF : ، FGH ، FGHI ، EGHJ ، FMIN ؟
- 5- نأخذ  $JH=8cm$  و  $JE=4cm$  = أنشئ على ورقة بيضاء شكل الباب الخارجى ؟ عند بداية البناء استدعى احمد سكان قريته لمساعدته بما يسمى التوزيع
- 6- ما فائدة التوزيع في المجتمع ؟

