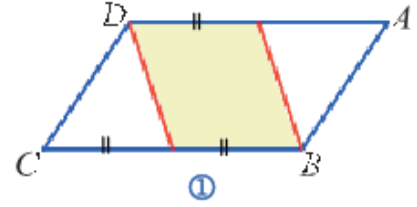
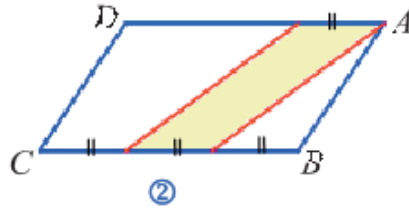
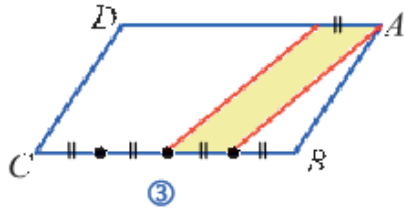


وضعية

ما نسبة مساحة المنطقة المظللة إلى مساحة متوازي الأضلاع ABCD، في كل حالة من الحالات الآتية:



أحسب مساحة كل من متوازيات الأضلاع الآتية:

