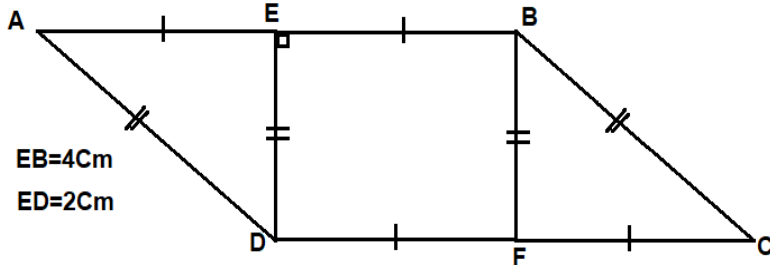
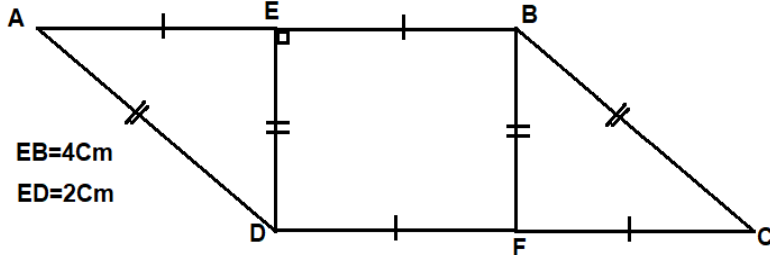


وضعية تقويم للمقطع 6



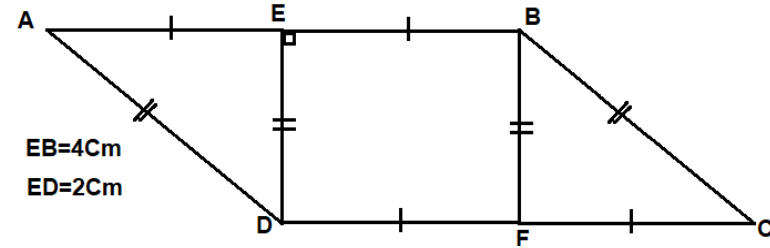
يملك محمد قطعة ارض على شكل متوازي اضلاع مقسمة الى
ثلاث اجزاء مستطيل و مثلثين (لاحظ التصميم في الاسفل)
اذا علمت ان الطول EB في الحقيقة هو $16m$ ساعد
محمد لحساب المساحة الحقيقية لقطعة الارض

وضعية تقويم للمقطع 6



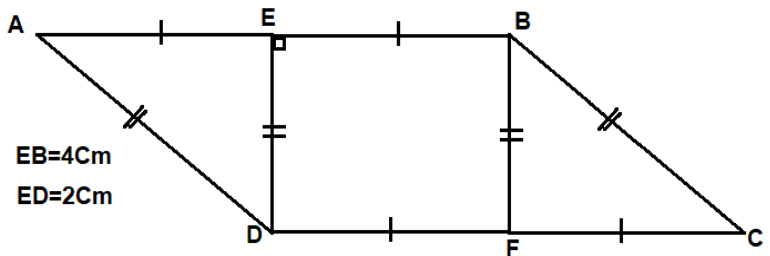
يملك محمد قطعة ارض على شكل متوازي اضلاع مقسمة الى
ثلاث اجزاء مستطيل و مثلثين (لاحظ التصميم في الاسفل)
اذا علمت ان الطول EB في الحقيقة هو $16m$ ساعد
محمد لحساب المساحة الحقيقية لقطعة الارض

وضعية تقويم للمقطع 6



يملك محمد قطعة ارض على شكل متوازي اضلاع مقسمة الى
ثلاث اجزاء مستطيل و مثلثين (لاحظ التصميم في الاسفل)
اذا علمت ان الطول EB في الحقيقة هو $16m$ ساعد
محمد لحساب المساحة الحقيقية لقطعة الارض

وضعية تقويم للمقطع 6



يملك محمد قطعة ارض على شكل متوازي اضلاع مقسمة الى
ثلاث اجزاء مستطيل و مثلثين (لاحظ التصميم في الاسفل)
اذا علمت ان الطول EB في الحقيقة هو $16m$ ساعد
محمد لحساب المساحة الحقيقية لقطعة الارض