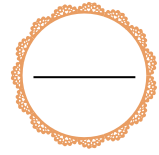




اسم واللقب التلميذ

امتحان الفصل الثاني في الرياضيات



العلامة

التمرين الأول 1.5 ن :

① أَرِبطْ بَيْنَ الْعَدَدِ وَمَا يُوَافِقُهُ بِالْحُرُوفِ .

701

820


962

ثَمَانُ مِئَةٍ وَعِشْرُونَ

تِسْعُ مِئَةٍ وَاثْنَانِ وَسِتُّونَ

سَبْعُ مِئَةٍ وَوَاحِدٌ

② رَتِّبِ الْأَعْدَادَ التَّالِيَةَ تَنَازُّلِيًّا : (728 ، 156 ، 936 ، 579)



التمرين الثاني أنجزِ الْعَمَلِيَّاتِ الْأَتِيَّةَ عَمُودِيًّا: 1.5 ن


$$17 + 60 = \dots$$

$$68 - 35 = \dots$$

$$49 + 26 = \dots$$

التمرين الثالث 1.5 ن

① قِسْ طُولَ الشَّكْلِ ، ثُمَّ أَكْتُبِ إِسْمَهُ .



إِسْمُهُ :

② أَلَاحِظْ الشَّكْلَ ، وَ اكْمِلْ الْفَرَاغَ .



عَدَدُ الْأَضْلَاعِ :

عَدَدُ الزُّوَايَا الْقَائِمَةِ :

عَدَدُ الزُّوُوسِ :

2 ن

التمرين الرابع

أَكْتُبْ وَقْتُ الْمَسَاءِ .

3 : 20

3 : 20

:

:

لَا حِظَّ الرِّزْنَامَةِ ، وَأَكْمِلِ الْفَرَاغَ بِمَا يُنَاسِبُ .

جوان											
السبت الجمعة			الخميس الأربعاء			الثلاثاء الاثنين الأحد					
1	2	3	4	5	6	7	8	9	10	11	12
13	14	15	16	17	18	19	20	21	22	23	24
25	26	27	28	29	30						

* أَحِطْ أَوَّلَ يَوْمٍ ، وَأَخِرَ يَوْمٍ فِي الشَّهْرِ .

* سَمِّ الْيَوْمَ الَّذِي يُوَافِقُ نِصْفَ الشَّهْرِ ؟

* أَكْتُبْ إِسْمَ هَذَا الشَّهْرِ :

3.5 ن

الوضعية الإدماجية

اشْتَرَى رَائِدٌ كِتَابَيْنِ لِلتَّحْضِيرِ الْجَيِّدِ لِلَامْتِحَانِ ، الْأَوَّلُ بِ 37 دِينَارًا وَالثَّانِي

بِ 25 دِينَارًا .

* مَا هُوَ ثَمَنُ الْكِتَابَيْنِ مَعًا ؟

أَعْطَى لِلْبَائِعِ 85 دِينَارًا .

* كَمْ يُزَجِّعُ لَهُ الْبَائِعُ مِنْ نُقُودٍ ؟

الْأَجُوبَةُ

الْحَلْ

الْعَمَلِيَّاتُ

ثَمَنُ الْكِتَابَيْنِ مَعًا هُوَ :

يُزَجِّعُ لَهُ الْبَائِعُ :