

الوضعية انطلاقيه

اضطر والدك الى الاستدانة من أخويه مبلغا من المال لإتمام وتجهيز مطعم (أنظر إلى الشكل الذي يمثل أرضية المطعم)
فأقرضه عمك صالح مبلغا قدره: 45000DA وعمك محسن مبلغا قدره: 60000DA

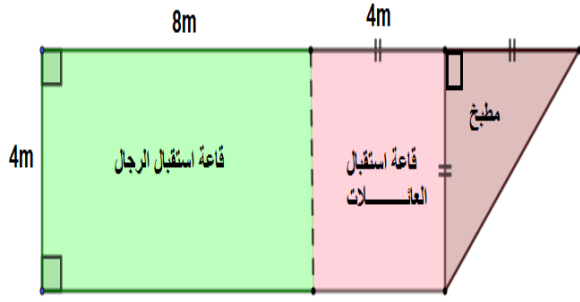
يريد والدك أن يشتري:

- البلاط اللازم لتبليط قاعتي الاستقبال بـ : 1200DA للمتر المربع الواحد
- البلاط اللازم لتبليط المطبخ بـ: 800DA للمتر المربع الواحد
- ستاران متماثلان بـ : 600DA للواحد للفصل بين قاعة الرجال وقاعة العائلات
- نافذة نصف دائرية من الألمنيوم قطرها 60cm لغلق فتحة المطبخ بـ : 4000DA للمتر الواحد. (يحسب محيط النافذة بالتدوير للوحدة)

قام بإنجاز العمل بنءان وأخذ كل واحد مقابل عمله 14000DA

يخشى والدك من أن لا يبقى له المال الكافي لشراء لوازم الطبخ.

أنت لا تخشى ذلك وتريد أن تساعد أباك. أكتب عبارة بأقواس تمكنك من معرفة المبلغ المتبقي

الوضعية انطلاقيه

اضطر والدك الى الاستدانة من أخويه مبلغا من المال لإتمام وتجهيز مطعم (أنظر إلى الشكل الذي يمثل أرضية المطعم)
فأقرضه عمك صالح مبلغا قدره: 45000DA وعمك محسن مبلغا قدره: 60000DA

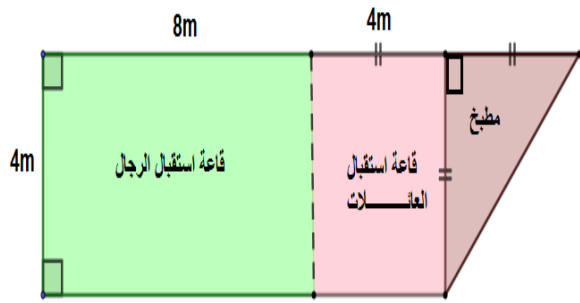
يريد والدك أن يشتري:

- البلاط اللازم لتبليط قاعتي الاستقبال بـ : 1200DA للمتر المربع الواحد
- البلاط اللازم لتبليط المطبخ بـ: 800DA للمتر المربع الواحد
- ستاران متماثلان بـ : 600DA للواحد للفصل بين قاعة الرجال وقاعة العائلات
- نافذة نصف دائرية من الألمنيوم قطرها 60cm لغلق فتحة المطبخ بـ : 4000DA للمتر الواحد. (يحسب محيط النافذة بالتدوير للوحدة)

قام بإنجاز العمل بنءان وأخذ كل واحد مقابل عمله 14000DA

يخشى والدك من أن لا يبقى له المال الكافي لشراء لوازم الطبخ.

أنت لا تخشى ذلك وتريد أن تساعد أباك. أكتب عبارة بأقواس تمكنك من معرفة المبلغ المتبقي

الوضعية انطلاقيه

اضطر والدك الى الاستدانة من أخويه مبلغا من المال لإتمام وتجهيز مطعم (أنظر إلى الشكل الذي يمثل أرضية المطعم)
فأقرضه عمك صالح مبلغا قدره: 45000DA وعمك محسن مبلغا قدره: 60000DA

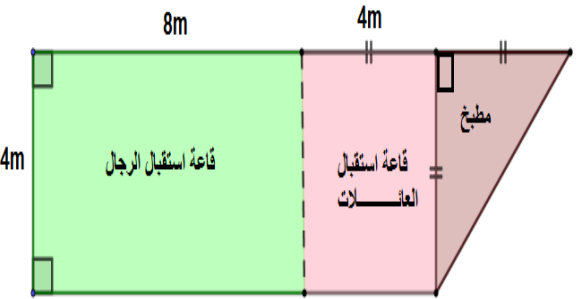
يريد والدك أن يشتري:

- البلاط اللازم لتبليط قاعتي الاستقبال بـ : 1200DA للمتر المربع الواحد
- البلاط اللازم لتبليط المطبخ بـ: 800DA للمتر المربع الواحد
- ستاران متماثلان بـ : 600DA للواحد للفصل بين قاعة الرجال وقاعة العائلات
- نافذة نصف دائرية من الألمنيوم قطرها 60cm لغلق فتحة المطبخ بـ : 4000DA للمتر الواحد. (يحسب محيط النافذة بالتدوير للوحدة)

قام بإنجاز العمل بنءان وأخذ كل واحد مقابل عمله 14000DA

يخشى والدك من أن لا يبقى له المال الكافي لشراء لوازم الطبخ.

أنت لا تخشى ذلك وتريد أن تساعد أباك. أكتب عبارة بأقواس تمكنك

الوضعية انطلاقيه

اضطر والدك الى الاستدانة من أخويه مبلغا من المال لإتمام وتجهيز مطعم (أنظر إلى الشكل الذي يمثل أرضية المطعم)
فأقرضه عمك صالح مبلغا قدره: 45000DA وعمك محسن مبلغا قدره: 60000DA

يريد والدك أن يشتري:

- البلاط اللازم لتبليط قاعتي الاستقبال بـ : 1200DA للمتر المربع الواحد
- البلاط اللازم لتبليط المطبخ بـ: 800DA للمتر المربع الواحد
- ستاران متماثلان بـ : 600DA للواحد للفصل بين قاعة الرجال وقاعة العائلات
- نافذة نصف دائرية من الألمنيوم قطرها 60cm لغلق فتحة المطبخ بـ : 4000DA للمتر الواحد. (يحسب محيط النافذة بالتدوير للوحدة)

قام بإنجاز العمل بنءان وأخذ كل واحد مقابل عمله 14000DA

يخشى والدك من أن لا يبقى له المال الكافي لشراء لوازم الطبخ.

أنت لا تخشى ذلك وتريد أن تساعد أباك. أكتب عبارة بأقواس تمكنك من معرفة المبلغ

المتبقي

