

﴿ اختبار الفصل الثاني في مادة التاريخ والجغرافيا ﴾

العلامة: / 10

إسم وَلَقَبُ التِّلْمِيذ:

التاريخالتمرين الأول: (03 ن)أذكر أهم التحولات التي حدثت بعد قيام الدولة الإسلامية

- 1-
- 2-
- 3-

التمرين الثاني: (02 ن)أذكر الخلفاء الراشدين الذين قادوا المسلمين بالترتيب

- 1-
- 2-
- 3-
- 4-

الجغرافياالتمرين الأول: (05 ن)أكمل

- توزع مساحة الكرة الأرضية بين اليابسة بنسبة % ، والماء بنسبة % .
- تبلغ مساحة الجزائر كلم² ، وهي بوابة القارة الإفريقية من جهة ونافذتها على
- تشترك الجزائر في الحدود مع 7 دول إفريقية هي:
 - 1- 2- 3- 4-
 - 5- 6- 7-

الموقع الأول لتحضير الفروض والاختبارات في الجزائر

<https://www.dzexams.com>

https://www.dzexams.com/ar/0ap	القسم التحضيري
https://www.dzexams.com/ar/1ap	السنة الأولى ابتدائي
https://www.dzexams.com/ar/2ap	السنة الثانية ابتدائي
https://www.dzexams.com/ar/3ap	السنة الثالثة ابتدائي
https://www.dzexams.com/ar/4ap	السنة الرابعة ابتدائي
https://www.dzexams.com/ar/5ap	السنة الخامسة ابتدائي
https://www.dzexams.com/ar/bep	شهادة التعليم الابتدائي
https://www.dzexams.com/ar/1am	السنة الأولى متوسط
https://www.dzexams.com/ar/2am	السنة الثانية متوسط
https://www.dzexams.com/ar/3am	السنة الثالثة متوسط
https://www.dzexams.com/ar/4am	السنة الرابعة متوسط
https://www.dzexams.com/ar/bem	شهادة التعليم المتوسط
https://www.dzexams.com/ar/1as	السنة الأولى ثانوي
https://www.dzexams.com/ar/2as	السنة الثانية ثانوي
https://www.dzexams.com/ar/3as	السنة الثالثة ثانوي
https://www.dzexams.com/ar/bac	شهادة البكالوريا

اختبار الفصل الثاني في مادة التاريخ والجغرافيا - السنة الرابعة ابتدائي

التمرين 01 : أكمل بما يناسب

التاريخ

من أجل نشر الدعوة الإسلامية خاض الرسول ﷺ عدة غزوات ومن أهمها :

..... سنة

..... سنة

التمرين 02 :

بعد استقرار الرسول ﷺ في يثرب شرع في تنظيم العلاقات بين سكانها من خلال تحرير وثيقة رسمية

1- ما اسم هذه الوثيقة ؟

2- في أي سنة تم إصدارها (تحريرها) ؟

الجغرافيا

التمرين 01 : اذكر أنواع الموارد الطبيعية في الجزائر وأعط مثالي لكل نوع .

راجع
دروسك مع
بشرة أمل

YouTube

التمرين 02 :

بعد الحديد من المعادن الأساسية التي لا يمكن للصناعة الحديثة أن تستغني عنه .

- فما هي نتائج ازدهار صناعة الحديد ؟

الموقع الأول لتحضير الفروض والاختبارات في الجزائر

<https://www.dzexams.com>

https://www.dzexams.com/ar/0ap	القسم التحضيري
https://www.dzexams.com/ar/1ap	السنة الأولى ابتدائي
https://www.dzexams.com/ar/2ap	السنة الثانية ابتدائي
https://www.dzexams.com/ar/3ap	السنة الثالثة ابتدائي
https://www.dzexams.com/ar/4ap	السنة الرابعة ابتدائي
https://www.dzexams.com/ar/5ap	السنة الخامسة ابتدائي
https://www.dzexams.com/ar/bep	شهادة التعليم الابتدائي
https://www.dzexams.com/ar/1am	السنة الأولى متوسط
https://www.dzexams.com/ar/2am	السنة الثانية متوسط
https://www.dzexams.com/ar/3am	السنة الثالثة متوسط
https://www.dzexams.com/ar/4am	السنة الرابعة متوسط
https://www.dzexams.com/ar/bem	شهادة التعليم المتوسط
https://www.dzexams.com/ar/1as	السنة الأولى ثانوي
https://www.dzexams.com/ar/2as	السنة الثانية ثانوي
https://www.dzexams.com/ar/3as	السنة الثالثة ثانوي
https://www.dzexams.com/ar/bac	شهادة البكالوريا

امتحان الفصل الثاني في التاريخ والجغرافيا

التاريخ:

التمرين الأول: 02ن أربط الأحداث التالية بتاريخ وقوعها:

- الهجرة إلى يثرب
- سقوط مدينة سبئطلة
- بداية الفتح الإسلامي لشمال إفريقيا
- بناء مسجد أبي المهاجر دينار
- 670م 50هـ
- 1068م 460هـ
- 647م 27هـ
- 670م 50هـ

التمرين الثاني: 04ن إملأ الفراغات بالكلمات المناسبة: عَبْدُ الرَّحْمَانِ بْنُ رُسْتَمٍ _ الْمَسِيلَةُ _ مِيلَةُ _ الْقَيْرَوَانِ _ عُقْبَةُ بْنُ نَافِعٍ _ الْجَزَائِرِ _ بَنِي حَمَادٍ _ الدَّوْلَةُ الرُّسْتُمِيَّةُ.

- _ مَسْجِدُ أَوَّلُ مَسْجِدٍ بُنِيَ بِبِلَادِ الْمَغْرِبِ الْإِسْلَامِيِّ بَنَاهُ ،
 بَيْنَمَا مَسْجِدُ أَبِي الْمُهَاجِرِ دِينَارٍ فَيَقَعُ فِي مَدِينَةٍ ، وَهُوَ أَوَّلُ مَسْجِدٍ فِي ،
 أَمَّا قَلْعُهُ فَقَدْ بَنَاهَا حَمَادُ بْنُ بُلْكَيْنٍ وَتَقَعُ بِوِلَايَةِ
 _ أَوَّلُ دَوْلَةٍ مُسْتَقِلَّةٍ بِبِلَادِ الْمَغْرِبِ الْأَوْسَطِ هِيَ أَسَّسَهَا

الجغرافيا

التمرين الأول: 02ن صنف في الجدول مايلي:

الخشب، الحديد، الطاقة الشمسية، الغاز الطبيعي، طاقة الرياح، المياه، الفوسفات، البترول.

موارد طبيعية غير متجددة	موارد طبيعية متجددة
.....
.....
.....

التمرين الثاني: 02ن _ بَعْدَ اسْتِقْلَالِ الْجَزَائِرِ أَصْبَحَ أَهْمُ هَدَفٍ لَهَا هُوَ تَحْقِيقُ نَهْضَةٍ شَامِلَةٍ إِعْتِمَادًا عَلَى مَوَارِدِهَا الطَّبِيعِيَّةِ وَالْبَشَرِيَّةِ.

_ إِنْطِلَاقًا مِنَ السَّنَدِ وَعَلَى صَوْنِ مَا دَرَسْتَ:

_ اذْكُرْ مِثَالَيْنِ عَنِ الْعَمَلِ الْإِنْتَاجِيِّ الْمَادِّي، وَمِثَالَيْنِ عَنِ الْعَمَلِ الْإِنْتَاجِيِّ اللَّامَادِّي.

.....

.....

الموقع الأول لتحضير الفروض والاختبارات في الجزائر

<https://www.dzexams.com>

https://www.dzexams.com/ar/0ap	القسم التحضيري
https://www.dzexams.com/ar/1ap	السنة الأولى ابتدائي
https://www.dzexams.com/ar/2ap	السنة الثانية ابتدائي
https://www.dzexams.com/ar/3ap	السنة الثالثة ابتدائي
https://www.dzexams.com/ar/4ap	السنة الرابعة ابتدائي
https://www.dzexams.com/ar/5ap	السنة الخامسة ابتدائي
https://www.dzexams.com/ar/bep	شهادة التعليم الابتدائي
https://www.dzexams.com/ar/1am	السنة الأولى متوسط
https://www.dzexams.com/ar/2am	السنة الثانية متوسط
https://www.dzexams.com/ar/3am	السنة الثالثة متوسط
https://www.dzexams.com/ar/4am	السنة الرابعة متوسط
https://www.dzexams.com/ar/bem	شهادة التعليم المتوسط
https://www.dzexams.com/ar/1as	السنة الأولى ثانوي
https://www.dzexams.com/ar/2as	السنة الثانية ثانوي
https://www.dzexams.com/ar/3as	السنة الثالثة ثانوي
https://www.dzexams.com/ar/bac	شهادة البكالوريا

أولاً: التاريخ

النشاط الأول: اجب بصحيح أو خطأ

- سميت الفترة التي سبقت ظهور الإسلام بالجاهلية
- كان العرب يمارسون مهنة الفلاحة و الصناعة قبل مجيء الإسلام
- هاجر المسلمين أول مرة إلى المدينة المنورة
- إنقطعت الفتوحات الإسلامية بعد وفاة الرسول
- أدى ظهور الإسلام إلى إحداث تحولات هامة في شبه الجزيرة العربية

النشاط الثاني: أكمل الفراغ بما يُناسب (عبادة، المدينة المنورة، الشجاعة، الثأر، الكرم، قباء، 618م، صحيفة المدينة، أول، الحروب)

- اشتهر العرب قبل ظهور الإسلام بصفات حميدة كالـ و و صفات ذميمة كالـ
- و

- دعى الرسول الناس إلى الله و
- هاجر المسلمون إلى الحبشة سنة و إلى سنة 622م.
- قام الرسول ببناء مسجد و هو مسجد في الإسلام.
- نظم الرسول العلاقات بين الناس و حرر وثيقة سُميت بـ سنة 623م.

النشاط الثالث: إربط بسهم بين العبارة ما ويناسبها

- قبل الفتح الإسلامي كان الشمال الإفريقي خاضعا للاحتلال - 70 عاما
- بدأ الفتح الإسلامي لشمال إفريقيا على يد - البيزنطي
- أسس الرسول الكريم في المدينة المنورة - عمرو بن العاص.

ثانيا الجغرافيا :

التمرين الأول: أجب بـ "صحيح" أو "خطأ" وصحح الخطأ إن وجد اما كل عبارة مما يأتي

- الجزائر لا تملك موارد طبيعية
-
- يعد البترول والغاز من الموارد الطبيعية المتجددة
-
- يعتبر الغاز الطبيعي من الموارد الطاقوية الغير مُتجددة
-
- يعد الحديد من المعادن الأساسية للزراعة
-
- الموارد الطبيعية عاملا أساسيا في مجال الزراعة و الصناعة"
-

التمرين الثاني: صنف الموارد التالية في الجدول

الماء، الفوسفات ، الأشجار ، البترول ، الذهب ، الغاز ، النحاس ، الطاقة الشمسية ، الثروة الحيوانية

موارد غير متجددة	موارد متجددة

التمرين الثالث: ضع الكلمات في مكانها

- حاسي مسعود - البترول - الفلاحية - مُصدرة - الغاز - حاسي الرمل - الفوسفات - الصناعة - المائية - الحديد
- تمتلك الجزائر موارد معدنية مثلوالذي يُعدُّ أهم مورد تقوم عليه.....
 - يُستخدمُ في تزويد الفلاحة بالأسمدة.
 - الموارد الطاقوية أهمها الذي يُعتبرُ أهم مصدر للطاقة في الجزائر التي تُعد من أكثر الدول مُنتجة و له، يتركز أهم حقل له في مدينة

- ثاني أهم مصدر للطاقة، يوجد أكبر حقل لإنتاجه بمنطقة حاسي الرمل

- الموارد مثل الأراضي الصالحة للزراعة و الثروة

الموقع الأول لتحضير الفروض والاختبارات في الجزائر

<https://www.dzexams.com>

https://www.dzexams.com/ar/0ap	القسم التحضيري
https://www.dzexams.com/ar/1ap	السنة الأولى ابتدائي
https://www.dzexams.com/ar/2ap	السنة الثانية ابتدائي
https://www.dzexams.com/ar/3ap	السنة الثالثة ابتدائي
https://www.dzexams.com/ar/4ap	السنة الرابعة ابتدائي
https://www.dzexams.com/ar/5ap	السنة الخامسة ابتدائي
https://www.dzexams.com/ar/bep	شهادة التعليم الابتدائي
https://www.dzexams.com/ar/1am	السنة الأولى متوسط
https://www.dzexams.com/ar/2am	السنة الثانية متوسط
https://www.dzexams.com/ar/3am	السنة الثالثة متوسط
https://www.dzexams.com/ar/4am	السنة الرابعة متوسط
https://www.dzexams.com/ar/bem	شهادة التعليم المتوسط
https://www.dzexams.com/ar/1as	السنة الأولى ثانوي
https://www.dzexams.com/ar/2as	السنة الثانية ثانوي
https://www.dzexams.com/ar/3as	السنة الثالثة ثانوي
https://www.dzexams.com/ar/bac	شهادة البكالوريا

السنة الدراسية: 2023/2022.

الفوج: الرابعة ابتدائي.

الأستاذ: بجاوي الصالح

مديرية التربية لولاية

برج بوعريش

مدرسة: المجاهد بلقروم عبد الكريم.

مقاطعة: جعافرة 02.

اسم ولقب التلميذ:

اختبار الفصل الثاني في التاريخ والجغرافيا

التاريخ

❖ التمرين الأول: أكمل بما يناسب. 3 ن

- 1- من أشهر الحروب في الجاهلية حربٌ و والتي دامت عامًا.
- 2- بسبب إيداء قريش للرسول (ص) ومن معه كانت الهجرة الأولى إلى في عام م والهجرة الثانية إلى م سنة
- 3- من أهم التغيرات التي أحدثتها ظهور الإسلام و
- 4- كان شمال إفريقيا خاضعًا للحكم ودام فتحها حوالي عاما.
- 5- من الخلفاء الراشدين بعد أبو بكر الصديق و

❖ التمرين الثاني: أكمل ملأ الجدول. 2 ن

المساجد في الإسلام	من المذنب الإسلامية	من القادة الفاتحين	أشهر المذنب في الجاهلية
1-	1-	1-	1-
2-	2-	2-	2-

الجغرافيا

❖ التمرين الأول: أجب عن الأسئلة التالية. 2.5 ن

- 1- تُصنّف المَوارِد الطَبِيعِيَّة إلى مَوارِد طَبِيعِيَّة مثل ومَوارِد طَبِيعِيَّة مثل
- 2- الأراضي الزراعيّة في الجزائر تُقدّر مساحتها بحوالي هكتار.
- 3- مصنع الحجار يتواجد في مدينة ومصنع بلارة في مدينة

❖ التمرين الثاني: هات مثالين لكل من: 2.5 ن

مَوارِد مَعْدِنِيَّة	مَوارِد فَلَاحِيَّة	مَوارِد طَاقَوِيَّة	عَمَل إِنْتَاجِي مَادِي	عَمَل إِنْتَاجِي لآ مَادِي
1-	1-	1-	1-	1-
2-	2-	2-	2-	2-

الموقع الأول لتحضير الفروض والاختبارات في الجزائر

<https://www.dzexams.com>

https://www.dzexams.com/ar/0ap	القسم التحضيري
https://www.dzexams.com/ar/1ap	السنة الأولى ابتدائي
https://www.dzexams.com/ar/2ap	السنة الثانية ابتدائي
https://www.dzexams.com/ar/3ap	السنة الثالثة ابتدائي
https://www.dzexams.com/ar/4ap	السنة الرابعة ابتدائي
https://www.dzexams.com/ar/5ap	السنة الخامسة ابتدائي
https://www.dzexams.com/ar/bep	شهادة التعليم الابتدائي
https://www.dzexams.com/ar/1am	السنة الأولى متوسط
https://www.dzexams.com/ar/2am	السنة الثانية متوسط
https://www.dzexams.com/ar/3am	السنة الثالثة متوسط
https://www.dzexams.com/ar/4am	السنة الرابعة متوسط
https://www.dzexams.com/ar/bem	شهادة التعليم المتوسط
https://www.dzexams.com/ar/1as	السنة الأولى ثانوي
https://www.dzexams.com/ar/2as	السنة الثانية ثانوي
https://www.dzexams.com/ar/3as	السنة الثالثة ثانوي
https://www.dzexams.com/ar/bac	شهادة البكالوريا

اختبار الفصل الثاني مادتي التاريخ والجغرافيا

1- التاريخ:

- اربط بين العبارة وما يناسبها:

- | | |
|----------------|-----------------------------|
| الجاهلية | * التأثر، كثرة الحروب. |
| الصفات الذميمة | * الفترة التي سبقت الإسلام. |
| عقبة بن نافع | * فتح شمال افريقيا. |

- أجب بصحيح وخطأ:

- كانت شمال افريقيا خاضعة للاحتلال البيزنطي
- تأسست القيروان سنة 700 م – 60 هـ
- تم فتح شمال افريقيا على يد عمر بن العاص
- سادت في الجاهلية الصفات الذميمة فقط

2- الجغرافيا:

- أربط بين الطاقة ومصدرها:

- | | |
|--------------|---------------------------|
| الماء | * موارد طبيعية متجددة |
| الرياح | |
| الفحم الحجري | * موارد طبيعية غير متجددة |
| الفوسفات | |

- صنف في جدول الموارد التالية:

حديد – أراضي زراعية – بترول – فحم حجري – نحاس – غابات

موارد معدنية	موارد طاقة	موارد فلاحية

الموقع الأول لتحضير الفروض والاختبارات في الجزائر

<https://www.dzexams.com>

https://www.dzexams.com/ar/0ap	القسم التحضيري
https://www.dzexams.com/ar/1ap	السنة الأولى ابتدائي
https://www.dzexams.com/ar/2ap	السنة الثانية ابتدائي
https://www.dzexams.com/ar/3ap	السنة الثالثة ابتدائي
https://www.dzexams.com/ar/4ap	السنة الرابعة ابتدائي
https://www.dzexams.com/ar/5ap	السنة الخامسة ابتدائي
https://www.dzexams.com/ar/bep	شهادة التعليم الابتدائي
https://www.dzexams.com/ar/1am	السنة الأولى متوسط
https://www.dzexams.com/ar/2am	السنة الثانية متوسط
https://www.dzexams.com/ar/3am	السنة الثالثة متوسط
https://www.dzexams.com/ar/4am	السنة الرابعة متوسط
https://www.dzexams.com/ar/bem	شهادة التعليم المتوسط
https://www.dzexams.com/ar/1as	السنة الأولى ثانوي
https://www.dzexams.com/ar/2as	السنة الثانية ثانوي
https://www.dzexams.com/ar/3as	السنة الثالثة ثانوي
https://www.dzexams.com/ar/bac	شهادة البكالوريا



المستوى: الرابع ابتدائي (4AP) جوان 2021

اختبار الفصل الثاني في مادة التاريخ و الجغرافيا

الاسم اللقب القسم

التاريخ

السؤال الأول: 2ن

ضع صحيح أمام العبارة الصحيحة و خطأ أمام العبارة الخاطئة:

- قَبْلَ الْفَتْحِ الْإِسْلَامِيِّ كَانَ شَمَالُ إفريقيا خاضعًا لِلْحُكْمِ الْبِيزَنْطِيِّ ()
- أَسَّسَتْ مَدِينَةُ الْقَيْرَوَان سنة 50 هجري ()
- بَدَأَ الْفَتْحُ الْإِسْلَامِيُّ الْفِعْلِي لِشَمَالِ إفريقيا عَلَى يَدِ مُوسَى بْنِ نَصِير ()
- نَتَجَ عَنِ الْفَتْحِ الْإِسْلَامِيِّ لِشَمَالِ إفريقيا ازدهار الزَّراعة ()

السؤال الثاني: 3ن

بَعْدَ الْفَتْحِ الْإِسْلَامِيِّ لِشَمَالِ إفريقيا الَّذِي قَادَتْهُ شَخْصِيَّاتٌ عَظِيمَةٌ، عَرَفَتِ الْمُنْطَقَةُ تَغْيِيرَاتٍ كَبِيرَةً شَمِلَتْ مُخْتَلَفَ مَجَالَاتِ الْحَيَاةِ.
1/ ماهي نَتَائِجُ الْفَتْحِ الْإِسْلَامِيِّ لِشَمَالِ إفريقيا ؟

.....

.....

.....

.....

2/ أذكر شَخْصِيَّتَيْنِ مِنَ الشَّخْصِيَّاتِ الَّتِي قَادَتِ الْفَتْحَ الْإِسْلَامِي لِشَمَالِ إفريقيا.

.....

.....

الجغرافيا

السؤال الأول: 3ن

يَلْعَبُ المَوْقِعَ الجُغْرَافِي دَوْرًا هَامًّا فِي رِبْطِ العَلَاقَاتِ وَالانْتِمَاءَاتِ مَعَ الدُّوَلِ الأُخْرَى.

- أذكر ثلاث أنواع من الانتماءات التي اكتسبتها الجزائر مع الدول في العالم.

• الانتماء

• الانتماء

• الانتماء

السؤال الثاني: 2 ن

تُعتَبَرُ الجزائرُ دَوْلَةً مُتَوَسِّطِيَّةً نَتِيجَةً وَقُوعِهَا عَلَى ضِفَةِ البَحْرِ الأَبْيَضِ المُتَوَسِّطِ مِمَّا أَكْسَبَهَا عِدَّةَ مَزَايَا وَمَظَاهِرٍ.

1/ أبرز مظاهر انتماء الجزائر للبحر الأبيض المتوسط؟

.....

.....

.....

.....

.....

.....

.....

.....

.....

.....

بالتوفيق

التصحيح النموذجي وسلم التنقيط

التاريخ

السؤال الأول: 2ن

ضع صحيح أمام العبارة الصحيحة و خطأ أمام العبارة الخاطئة:

- قبل الفتح الإسلامي كان شمال إفريقيا خاضعا للحكم البيزنطي (صحيح) 0.5
- أسست مدينة القيروان سنة 50 هجري (صحيح) 0.5
- بدأ الفتح الإسلامي الفعلي لشمال إفريقيا على يد موسى بن نصير (خطأ) 0.5
- نتج عن الفتح الإسلامي لشمال إفريقيا ازدهار الزراعة (صحيح) 0.5

السؤال الثاني: 3ن

بعد الفتح الإسلامي لشمال إفريقيا وقادته شخصيات عظيمة، عرفت المنطقة تغيرات كبيرة شملت مختلف مجالات الحياة.

1/ نتائج الفتح الإسلامي لشمال إفريقيا:

- القضاء على الحكم البيزنطي 0.5
- توحيد مناطق شمال إفريقيا 0.5
- التخلص من تعدد الآلهة وتوحيد الدين وهو الإسلام 0.5
- ازدهار الزراعة 0.5
- 2/ شخصيتين من الشخصيات التي قادت الفتح الإسلامي لشمال إفريقيا.
- عقبة بن نافع 0.5
- عمرو بن العاص 0.5

الجغرافيا

السؤال الأول 3ن

يلعب الموقع الجغرافي دورا هاما في ربط العلاقات والانتماءات مع الدول الأخرى.

- أذكر ثلاث أنواع من الانتماءات التي اكتسبتها الجزائر مع الدول في العالم.

- الانتماء العربي 01
- الانتماء المتوسطي 01
- الانتماء الإفريقي 01

السؤال الثاني: 2 ن

تعتبر الجزائر دولة متوسطة نتيجة وقوعها على ضفة البحر الأبيض المتوسط مما أكسبها عدة مزايا ومظاهر.

1/ مظاهر انتماء الجزائر للبحر الأبيض المتوسط:

- وقوعها في الضفة الجنوبية الغربية للبحر الأبيض المتوسط 0.5
- التأثير والتأثير الحضاري بين دول البحر الأبيض المتوسط 0.5
- إقامة شراكة وتعاون وتبادل المصالح بين الدول 0.5
- التشابه في المظاهر الطبيعية 0.5

الموقع الأول لتحضير الفروض والاختبارات في الجزائر

<https://www.dzexams.com>

https://www.dzexams.com/ar/0ap	القسم التحضيري
https://www.dzexams.com/ar/1ap	السنة الأولى ابتدائي
https://www.dzexams.com/ar/2ap	السنة الثانية ابتدائي
https://www.dzexams.com/ar/3ap	السنة الثالثة ابتدائي
https://www.dzexams.com/ar/4ap	السنة الرابعة ابتدائي
https://www.dzexams.com/ar/5ap	السنة الخامسة ابتدائي
https://www.dzexams.com/ar/bep	شهادة التعليم الابتدائي
https://www.dzexams.com/ar/1am	السنة الأولى متوسط
https://www.dzexams.com/ar/2am	السنة الثانية متوسط
https://www.dzexams.com/ar/3am	السنة الثالثة متوسط
https://www.dzexams.com/ar/4am	السنة الرابعة متوسط
https://www.dzexams.com/ar/bem	شهادة التعليم المتوسط
https://www.dzexams.com/ar/1as	السنة الأولى ثانوي
https://www.dzexams.com/ar/2as	السنة الثانية ثانوي
https://www.dzexams.com/ar/3as	السنة الثالثة ثانوي
https://www.dzexams.com/ar/bac	شهادة البكالوريا

التاريخ:
المدة: 45د

تصحيح اختبار الفصل الثاني

المادة: تاريخ
المستوى: الرابعة ابتدائي

الاسم واللقب:

التمرين الأول:

اربط كل فتح من الفتوحات الاسلامية الآتية بتاريخه.

فتح مكة	فتح مصر	فتح بلاد فارس	فتح الشام
21 هـ	15 هـ	8 هـ	16 هـ

التمرين الثاني:

ما هي الخطوات التي اعتمدها الرسول صلى الله عليه وسلم لإقامة الدولة الإسلامية؟

1- بناء مسجد قباء.

2- تحرير وثيقة تسمى صحيفة المدينة لتنظيم العلاقات،

3- فتح مكة،

4- أدى الرسول حجة الوداع.

5- الصلح بين قبيلتي الأوس والخزرج.

التمرين الثالث:

رتب غزوات الرسول صلى الله عليه وسلم وخلفائه على السلم الزمني:

غزوة أحد 3 هـ - فتح الشام 15 هـ - غزوة بدر 2 هـ - فتح مكة 8 هـ - فتح مصر 21 هـ - فتح فارس 16 هـ

2	3	8	15	16	21	
غزوة بدر	غزوة أحد	فتح مكة	فتح الشام	فتح فارس	فتح مصر	

الوضعية الإدماجية:

أعطى الفاتحون أهمية كبيرة لفن العمارة الإسلامية في فترة الفتوحات الإسلامية في فقرة وجيزة تحت عن مظاهر العمارة الإسلامية.

المظهر الديني: وتمثل في بناء المساجد حيث أسس عقبة بن نافع مدينة القيروان وبنى فيها مسجد القيروان كما أسس أبو المهاجر دينار ثاني مسجد بعد القيروان في تونس.
المظاهر السياسي: وتمثل في بناء المدن ومن أشهرها:

- مدينة أشير " المدينة حاليا".
- مدينة الناصرية " بجاية حاليا".
- قلعة بني حماد " في ولاية المسيلة".

الموقع الأول لتحضير الفروض والاختبارات في الجزائر

<https://www.dzexams.com>

https://www.dzexams.com/ar/0ap	القسم التحضيري
https://www.dzexams.com/ar/1ap	السنة الأولى ابتدائي
https://www.dzexams.com/ar/2ap	السنة الثانية ابتدائي
https://www.dzexams.com/ar/3ap	السنة الثالثة ابتدائي
https://www.dzexams.com/ar/4ap	السنة الرابعة ابتدائي
https://www.dzexams.com/ar/5ap	السنة الخامسة ابتدائي
https://www.dzexams.com/ar/bep	شهادة التعليم الابتدائي
https://www.dzexams.com/ar/1am	السنة الأولى متوسط
https://www.dzexams.com/ar/2am	السنة الثانية متوسط
https://www.dzexams.com/ar/3am	السنة الثالثة متوسط
https://www.dzexams.com/ar/4am	السنة الرابعة متوسط
https://www.dzexams.com/ar/bem	شهادة التعليم المتوسط
https://www.dzexams.com/ar/1as	السنة الأولى ثانوي
https://www.dzexams.com/ar/2as	السنة الثانية ثانوي
https://www.dzexams.com/ar/3as	السنة الثالثة ثانوي
https://www.dzexams.com/ar/bac	شهادة البكالوريا



مديرية التربية لولاية الوادي

مدرسة

الموسم الدراسي: 2020-2021

المدة: ساعة ونصف

وزارة التربية الوطنية

مقاطعة

السنة الرابعة ابتدائي

إمتحان رقم 1 في نشاط التربية التاريخ والجغرافيا **إبتدائي**

1. التاريخ

التمرين الأول : إربط بسهم بين العبارة ما ويناسبها

670 ميلادي

البيزنطي

70 عاما

عقبة بن نافع

• قبل الفتح الإسلامي كان الشمال الإفريقي خاضعا للإحتلال

• إستولى عبد الله بن أبي السرح على مدينة سبيلة سنة

• بدأ الفتح الإسلامي لشمال إفريقيا على يد

• دام الفتح الإسلامي لشمال إفريقيا نحو

التمرين الثاني : أجب بـ "صحيح" أو "خطأ" اما كل عبارة مما يأتي

• ولد الرسول صلى الله عليه في عام الفيل سنة 571م

• هجرة المسلمين الأولى تمت في سنة 620م والهدرة الثانية تمت سنة 622م

• مسجد قباء هو ثاني مسجد بني في الإسلام

• أسس عقبة بن نافع مدينة القيروان

• كان العرب في الجاهلية يمارسون التجارة

التمرين الثالث : أكمل بما يناسب

أعطى الفاتحون لشمال إفريقيا أهمية كبرى للعمارة الإسلامية بشمال إفريقيا وظهر ذلك في مظهرين :

• المظهر الديني والذي تمثل في

• المظهر السياسي والذي تمثل في

من أجل نشر الدعوة الإسلامية خاض رسول الله صلى الله عليه وسلم عدة غزوات من أهمها :

• غزوة بدر سنةهـ

• غزوة سنةهـ

• غزوة سنةهـ



صفحة الرفيق للتعليم

الموقع الأول لتحضير الفروض والاختبارات في الجزائر

<https://www.dzexams.com>

https://www.dzexams.com/ar/0ap	القسم التحضيري
https://www.dzexams.com/ar/1ap	السنة الأولى ابتدائي
https://www.dzexams.com/ar/2ap	السنة الثانية ابتدائي
https://www.dzexams.com/ar/3ap	السنة الثالثة ابتدائي
https://www.dzexams.com/ar/4ap	السنة الرابعة ابتدائي
https://www.dzexams.com/ar/5ap	السنة الخامسة ابتدائي
https://www.dzexams.com/ar/bep	شهادة التعليم الابتدائي
https://www.dzexams.com/ar/1am	السنة الأولى متوسط
https://www.dzexams.com/ar/2am	السنة الثانية متوسط
https://www.dzexams.com/ar/3am	السنة الثالثة متوسط
https://www.dzexams.com/ar/4am	السنة الرابعة متوسط
https://www.dzexams.com/ar/bem	شهادة التعليم المتوسط
https://www.dzexams.com/ar/1as	السنة الأولى ثانوي
https://www.dzexams.com/ar/2as	السنة الثانية ثانوي
https://www.dzexams.com/ar/3as	السنة الثالثة ثانوي
https://www.dzexams.com/ar/bac	شهادة البكالوريا

التاريخ: 2021/2020
 المدة: 45 د

اختبار الفصل الثاني

المادة: جغرافيا
 المستوى: الرابعة ابتدائي

الاسم واللقب:

التمرين الأول:

أكمل الفراغ بالعبارة المناسبة من العبارات الآتية حسب طبيعة الانتماء الذي تشترك فيه دول كل مجموعة:
 انتماء مغاربي - انتماء متوسطي - انتماء عربي - انتماء إفريقي.

.....	الجزائر - تونس - المغرب - موريتانيا
.....	الجزائر - فرنسا - إسبانيا - إيطاليا
.....	مصر - قطر - العراق - سوريا
.....	الجزائر - مالي - إفريقيا الجنوبية - السينيغال

التمرين الثاني:

صنف الموارد الطبيعية التالية في الجدول:

الفوسفات - الحديد - المياه - الذهب - الرخام - الغابات - الطاقة الشمسية - البترول.

الموارد الطبيعية غير المتجددة	الموارد الطبيعية المتجددة
.....--
.....--
.....--

التمرين الثالث:

أحط على الإجابة الصحيحة:

- يقدر احتياطي الجزائر من الغاز الطبيعي
- (أ) 4500 مليار م³
- (ب) 450 مليار م³
- (ت) 45 مليار م³
- (أ) 5.5 مليار برميل
- (ب) 8 مليار برميل
- (ت) 12.2 مليار برميل
- يقدر احتياطي الجزائر من البترول:

التّمرين الرابع:

تعتبر الغابات في الجزائر من الطاقات المتجددة ، كيف تساهم في المحافظة عليها؟

التاريخ: 2021/2020
المدة: 45 د

المادة: جغرافيا

المستوى: الرابعة ابتدائي

تصحيح اختبار الفصل الثاني

الاسم واللقب:

التمرين الأول:

تتميز الجزائر عن باقي الدول بموقعها الجغرافي الذي يربطها بعلاقات وانتماءات عديدة، أكتبها في الجدول التالي.

الجزائر - تونس - المغرب - موريتانيا	انتماء مغاربي
الجزائر - فرنسا - اسبانيا - إيطاليا	انتماء متوسطي
مصر - قطر - العراق - سوريا	انتماء عربي
الجزائر - مالي - إفريقيا الجنوبية - السينغال	انتماء إفريقي

التمرين الثاني:

لا ننسى أنّ الجزائر غنية بالموارد الطبيعية التي تساعد في تطوّر الاقتصاد الوطني ، إليك مجموعة منها صنفها.

الفوسفات - الحديد - المياه - الذهب - الرّخام - الغابات - الطاقة الشمسية - البترول.

الموارد الطبيعية غير المتجددة	الموارد الطبيعية المتجددة
- الفوسفات - الحديد - الذهب، البترول، الرخام	- المياه - الغابات - الطاقة الشمسية

التمرين الثالث:

أحط على الإجابة الصحيحة:

- يقدر احتياطي الجزائر من الغاز الطبيعي
- (أ) 4500 مليار م³
- (ب) 450 مليار م³
- (ت) 45 مليار م³
- (أ) 5.5 مليار برميل
- (ب) 8 مليار برميل
- (ت) 12.2 مليار برميل
- يقدر احتياطي الجزائر من البترول:
- (أ) 4500 مليار م³
- (ب) 450 مليار م³
- (ت) 45 مليار م³

التّمرين الرابع:

تعتبر الغابات في الجزائر من الطاقات المتجددة، كيف تساهم في المحافظة عليها؟

- المحافظة عليها من الحرائق والاستغلال الفاحش.
- تجديدها بالتشجير والعناية.

الموقع الأول لتحضير الفروض والاختبارات في الجزائر

<https://www.dzexams.com>

https://www.dzexams.com/ar/0ap	القسم التحضيري
https://www.dzexams.com/ar/1ap	السنة الأولى ابتدائي
https://www.dzexams.com/ar/2ap	السنة الثانية ابتدائي
https://www.dzexams.com/ar/3ap	السنة الثالثة ابتدائي
https://www.dzexams.com/ar/4ap	السنة الرابعة ابتدائي
https://www.dzexams.com/ar/5ap	السنة الخامسة ابتدائي
https://www.dzexams.com/ar/bep	شهادة التعليم الابتدائي
https://www.dzexams.com/ar/1am	السنة الأولى متوسط
https://www.dzexams.com/ar/2am	السنة الثانية متوسط
https://www.dzexams.com/ar/3am	السنة الثالثة متوسط
https://www.dzexams.com/ar/4am	السنة الرابعة متوسط
https://www.dzexams.com/ar/bem	شهادة التعليم المتوسط
https://www.dzexams.com/ar/1as	السنة الأولى ثانوي
https://www.dzexams.com/ar/2as	السنة الثانية ثانوي
https://www.dzexams.com/ar/3as	السنة الثالثة ثانوي
https://www.dzexams.com/ar/bac	شهادة البكالوريا

الاسم و اللقب :

الجمهورية الجزائرية الديمقراطية الشعبية
وزارة التربية الوطنية

قناة الأستاذ أقدوش فيصل

الموسم الدراسي 2021/2020

مدرسة بلقروم الحاج

المدة : ساعة و نصف

اختبار الفصل الثاني في مادة التاريخ

المستوى: السنة الرابعة ابتدائي

العلامة

10

التمرين الأول: ضع " صحيح " أو " خطأ " أمام كل عبارة:

- 1-** احتلت الدولة العثمانية الجزائر سنة 1618م
- 2-** من رموز السيادة الوطنية للجزائر في العصر الحديث الأسطول البحري.....
- 3-** طارق بن زياد قائد أمازيغي فتح الأندلس
- 4-** بعد سقوط دولة الموحيدين سنة 1269م انقسمت بلاد المغرب إلى ثلاث دويلات
- 5-** دخل العثمانيون الجزائر بالقوة
- 6-** كان يسمّى التقسيم الإداري في العهد العثماني بالولاية

التمرين الثاني: - املأ الفراغات باستعمال الكلمات التالية :

- استنجد - بربروس - بالإخوة - الزيانية - عجزت - بحارة مسلمين
حينما الدولة عن صدّ العدوان الإسباني عن سواحلها أعيان
المغرب الأوسط ب أقوىاء كانوا ينشطون في البحر الأبيض المتوسط اشتهروا
ب

التمرين الثالث: اربط بين كل عبارة و ما يكملها :

- | | |
|-----------------------------------|--------------------------|
| • منح ولاية الجزائر تسهيلات | • بإرادة سكّانها |
| • شارك الأسطول الجزائري في كلّ من | • القرصنة الأوروبية |
| • دخل العثمانيون الجزائر | • سمّيت بالامتيازات |
| • ذاع صيتُ الإخوة بربروس في صدّ | • بطلب من سكّانها |
| • أصبحت الجزائر إيالة عثمانية | • معركتي نفارين و لبيانت |

التمرين الرابع: - قسّمت الجزائر في العهد العثماني إلى ثلاث بايلكات ، اذكرها:

- 1-**
- 2-**
- 3-**

التمرين الخامس: **1 -** اذكر اثنين من أهم الأعمال التي كان يقوم بها الأسطول الجزائري:

-
-
- 2-** منحت الجزائر تسهيلات و امتيازات لبعض من الدول الأوروبية ، اذكر ثلاث امتيازات :

-
-
-

الموقع الأول لتحضير الفروض والاختبارات في الجزائر

<https://www.dzexams.com>

https://www.dzexams.com/ar/0ap	القسم التحضيري
https://www.dzexams.com/ar/1ap	السنة الأولى ابتدائي
https://www.dzexams.com/ar/2ap	السنة الثانية ابتدائي
https://www.dzexams.com/ar/3ap	السنة الثالثة ابتدائي
https://www.dzexams.com/ar/4ap	السنة الرابعة ابتدائي
https://www.dzexams.com/ar/5ap	السنة الخامسة ابتدائي
https://www.dzexams.com/ar/bep	شهادة التعليم الابتدائي
https://www.dzexams.com/ar/1am	السنة الأولى متوسط
https://www.dzexams.com/ar/2am	السنة الثانية متوسط
https://www.dzexams.com/ar/3am	السنة الثالثة متوسط
https://www.dzexams.com/ar/4am	السنة الرابعة متوسط
https://www.dzexams.com/ar/bem	شهادة التعليم المتوسط
https://www.dzexams.com/ar/1as	السنة الأولى ثانوي
https://www.dzexams.com/ar/2as	السنة الثانية ثانوي
https://www.dzexams.com/ar/3as	السنة الثالثة ثانوي
https://www.dzexams.com/ar/bac	شهادة البكالوريا

امتحان الفصل الثاني في مادة التاريخ و الجغرافيا

اللقب :

الاسم :

تاريخ

10

التمرين الأول : أجب عما يلي :

- ◀ - كيف سميت الفترة التي سبقت ظهور الإسلام ؟
- ◀ -
- ◀ - اذكر بعض الصّفات التي اشتهر بها العرب قبل ظهور الإسلام ؟
- ◀ - الصّفات الحميدة : مثل :
- ◀ - الصّفات الذميمة : مثل :
- ◀ - اذكر أهم الأنشطة التي كان يُمارسها العرب قبل ظهور الإسلام ؟
- ◀ -

التمرين الثاني : أجب بـ "صحيح" أو "خاطئ" :

- ◀ - مسجد " قباء " أول مسجد بني في الإسلام (.....)
- ◀ - الهجرة الأولى كانت من مكة الى يثرب سنة 622 م (.....)
- ◀ - رَحبت قُرَيْش بدعوة الرسول صلى الله عليه وسلم (.....)
- ◀ - أبو بكر الصديق هو آخر الخلفاء الرَّاشدين (.....)
- ◀ - الهجرة الثانية كانت من مكة الى الحبشة سنة 622 م (.....)
- ◀ - بعد الهجرة أصبح كل مهاجر بِمِثَابَةِ أَخٍ لِكُلِّ أَنْصَارِي (.....)
- ◀ - دامت حرب داحس والغبراء أكثر من 40 عامًا (.....)
- ◀ - وُلِد الرسول صلى الله عليه وسلم في عام الفيل (.....)

جغرافيا

التمرين الأول : صَنِف في الجدول :

حُقُول الطماطم ♦ البترول ♦ الذهب ♦ الغاز ♦ بساتين البرتقال ♦ الحديد
النَّفْط ♦ القمح ♦ الفوسفات .

الموارد المعدنية	الموارد الطاقوية	الموارد الفلاحية
.....
.....
.....

التمرين الثاني :

يُقْصَدُ بِالموارد الطَبِيعِيَّةِ مَا تُخْزِنُهُ الْأَرْضُ مِنْ موارد وهي نوعان وهما :

- الْمُتَجَدِّدَة مِثْل : و

- الموارد مِثْل : و وهي

قَابِلَة نَتِيجَة الإفراط لَذَا يَجِبُ الْمُحَافَظَة عَلَيْهَا مِنْ

خِلَال

الموقع الأول لتحضير الفروض والاختبارات في الجزائر

<https://www.dzexams.com>

https://www.dzexams.com/ar/0ap	القسم التحضيري
https://www.dzexams.com/ar/1ap	السنة الأولى ابتدائي
https://www.dzexams.com/ar/2ap	السنة الثانية ابتدائي
https://www.dzexams.com/ar/3ap	السنة الثالثة ابتدائي
https://www.dzexams.com/ar/4ap	السنة الرابعة ابتدائي
https://www.dzexams.com/ar/5ap	السنة الخامسة ابتدائي
https://www.dzexams.com/ar/bep	شهادة التعليم الابتدائي
https://www.dzexams.com/ar/1am	السنة الأولى متوسط
https://www.dzexams.com/ar/2am	السنة الثانية متوسط
https://www.dzexams.com/ar/3am	السنة الثالثة متوسط
https://www.dzexams.com/ar/4am	السنة الرابعة متوسط
https://www.dzexams.com/ar/bem	شهادة التعليم المتوسط
https://www.dzexams.com/ar/1as	السنة الأولى ثانوي
https://www.dzexams.com/ar/2as	السنة الثانية ثانوي
https://www.dzexams.com/ar/3as	السنة الثالثة ثانوي
https://www.dzexams.com/ar/bac	شهادة البكالوريا

التاريخ: 2022/03/17

المدة: 45 د

اختبار الفصل الثاني

المادة: الجغرافيا

المستوى: الرابعة ابتدائي

الاسم واللقب:

التمرين الأول:

أجب بصحيح أو خطأ.

- الموارد الفلاحية عمود الاقتصاد الوطني
- تتوفر الجزائر على مخزون هائل من المياه الجوفية.
- أقامت الجزائر مصنع الحديد والصلب بعنابة.
- تركز حقول الغاز في الجزائر العاصمة ووهران

التمرين الثاني:

تزرع الجزائر بعدة موارد طاقوية.
اربط بينهم بين المورد الطاقوي ومكان تواجده.

- الغاز الطبيعي. حاسي مسعود.
- البترول. عنابة.
- الحديد. عين أمناس.
- حاسي رمل.

التمرين الثالث:

أحط على الإجابة الصحيحة.

- تتمثل الموارد الطاقوية في:
- تتمثل الموارد المعدنية في:
- تتمثل الموارد الفلاحية في:
- تربية الحيوانات
- الحديد والفوسفات
- الحبوب والخضر والفواكه
- الغاز والبترول
- الجلود والصوف
- الطاقة والشمس

التّمرين الرَّابِع:

مع مرّ الزّمن يلعب الموقع الجغرافي دورا مهما في ربط العلاقات والانتماءات التي تنشأ بين الدّول.
- ما هي الانتماءات التي اكتسبتها الجزائر نتيجة موقعها الجغرافي؟

- (1)
- (2)
- (3)
- (4)



التاريخ: 2022/03/17

المدة: 45 د

تصحيح اختبار الفصل الثاني

المادة: الجغرافيا

المستوى: الرابعة ابتدائي

الاسم واللقب:

التمرين الأول:

أجب بصحيح أو خطأ.

- الموارد الفلاحية عمود الاقتصاد الوطني خطأ
- تتوفر الجزائر على مخزون هائل من المياه الجوفية. صحيح
- أقامت الجزائر مصنع الحديد والصلب بعنابة. صحيح
- تركز حقول الغاز في الجزائر العاصمة ووهران خطأ

التمرين الثاني:

تزخر الجزائر بعدة موارد طاقوية.

اربط بسهم بين المورد الطاقوي ومكان تواجده.

- الغاز الطبيعي حاسي مسعود
- البترول عنابة
- الحديد عين أمناش
- حاسي رمل

التمرين الثالث:

أحط على الإجابة الصحيحة.

- تتمثل الموارد الطاقوية في: الغاز والبترول
- تتمثل الموارد المعدنية في: الحديد والفوسفات
- تتمثل الموارد الفلاحية في: الحبوب والخضر والفواكه
- الجلود والصوف
- الطاقة الشمس

التّمرين الرَّابِع:

مع مرّ الزّمن يلعب الموقع الجغرافي دورا مهما في ربط العلاقات والانتماءات التي تنشأ بين الدّول.
- ما هي الانتماءات التي اكتسبتها الجزائر نتيجة موقعها الجغرافي.

(1) انتماء مغاربي

(2) انتماء متوسطي

(3) انتماء إفريقي



التاريخالتمرين الأول: (1.5 ن) رتب هذه الاحداث لتتبع مراحل الفتح الاسلامي لشمال افريقيا

- توجه الفاتحون إلى برقة - فتح مصر بقيادة عمرو بن العاص - أسس عقبة بن نافع مدينة القيروان بتونس

التمرين الثاني: (3.5 ن) ضع علامة ☒ أو ☐ و صحح الخطأ

- حرر الفاتحون شمال افريقيا من هيمنة البيزنطيين
- أسس أبو مهاجر دينار مدينة القيروان سنة 50 هـ
- تأسست تيهرت على يد عقبة بن نافع 144 هـ
- ازدهرت الزراعة بعد الفتوحات الاسلامية
- بنى الناصر الحمادي مدينة بجاية سنة 480 هـ
- أسس زيري بن مناد الصنهاجي مدينة أشير
- أسس حماد بن يلكين قلعة بني حماد بولاية وهران

الجغرافياالتمرين الأول: (2 ن) عرف الموارد الطبيعية و اذكر صنفهاالتمرين الثاني: (1.5 ن) الموارد الطبيعية عدة أنواع هت مثالا عن كل نوع منها

موارد طاقوية :

موارد معدنية :

موارد فلاحية :

التمرين الثالث: (1.5 ن) اذكر ثلاث حلول من أجل عقلنة استغلال الموارد الطبيعية

اولا : تاريخ

1. اجب بصحيح او خطأ و صحح الخطاء ان وجد

كان المغرب العربي تحت سيطرة قریش

.....

وصلت الحضارة في زمن الفاتحون الى بناء المساجد

.....

ترك الفاتحون الاثار في شرق اسيا

.....

2. احدث الفتح الاسلامي لشمال افريقيا تغيرات على اوضاعها اذكر بعضها منها

.....


.....

.....

.....

3. ابحث عن تواريخ نشأة المدن الاثرية التالية و رتبها على سلم زمني :

استراتن - اشير - قلعة بني حماد- الناصرية



ثانيا : الجغرافيا

1. صنف الموارد التالية في جدول التالي :

الحديد - الطاقة الشمسية - الرياح - الذهب - الغابات - المياه - النحاس - البترول - الفضة - الغاز - النفط
 - الفوسفات- الرخام - الفحم الحجري - الفلين

موارد طبيعية غير متجددة	موارد طبيعية متجددة
.....
.....
.....
.....
.....

2. تتنوع الموارد الطبيعية في الجزائر اذكر انواعها مع اعطاء مثالين في كل نوع:

.....

.....

.....

.....

.....

3. الثروات الطبيعية كنز ثمين لكنه مهدد بالنفاذ . تحدث في ستة اسطر عن اهمية الاستغلال العقلاني للموارد الطبيعية الغير متجددة.

.....

.....

.....

.....

.....

.....

ابالتوفيق

من اعداد :

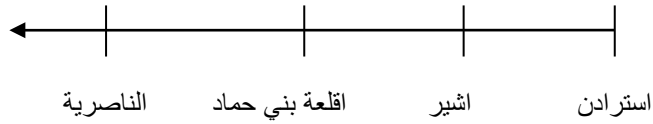
جعيجع محمد امين

جعيجع .ت

الحل

التاريخ

1.
 - خطأ
 - التصحيح : كان المغرب العربي تحت السيطرة البيزنطيين
 - صحيح
 - خطأ
 - التصحيح: ترك الفاتحون الآثار في شمال افريقيا
2.
 - تخلص المنطقة من الوثنية
 - اعتناق السكان للدين الاسلامي
 - ازدهار الزراعة بادخال المزروعات الجديدة
 - تخلص المنطقة من الاحتلال البيزنطي
 - اصبحت المنطقة جسرا للتواصل مع اوروبا (فتح الاندلس)
3.
 - الناصرية: سنة 480 هـ - 1068م
 - اقلعة بني حماد: 398هـ - 1007 م
 - استرادن: 909 م
 - اشير: 324هـ- 936م



الجغرافيا:

1.

موارد طبيعية غير متجددة	موارد طبيعية متجددة
<ul style="list-style-type: none"> - الحديد - الذهب - النحاس - البترول - الفضة - الغاز - النفط - الفوسفات - الرخام - الفحم الحجري 	<ul style="list-style-type: none"> - الطاقة الشمسية - الرياح - الغابات - المياه - الفلين

2.

- الموارد الطبيعية مثل: الحديد -الفوسفات -.....الخ
- الموارد الطاقوية مثل: البترول - الغاز -.....الخ
- الموارد الفلاحية مثل : الثروة الحيوانية - الثروة الغابية -.....الخ

3.

التقيد بالمطلوب

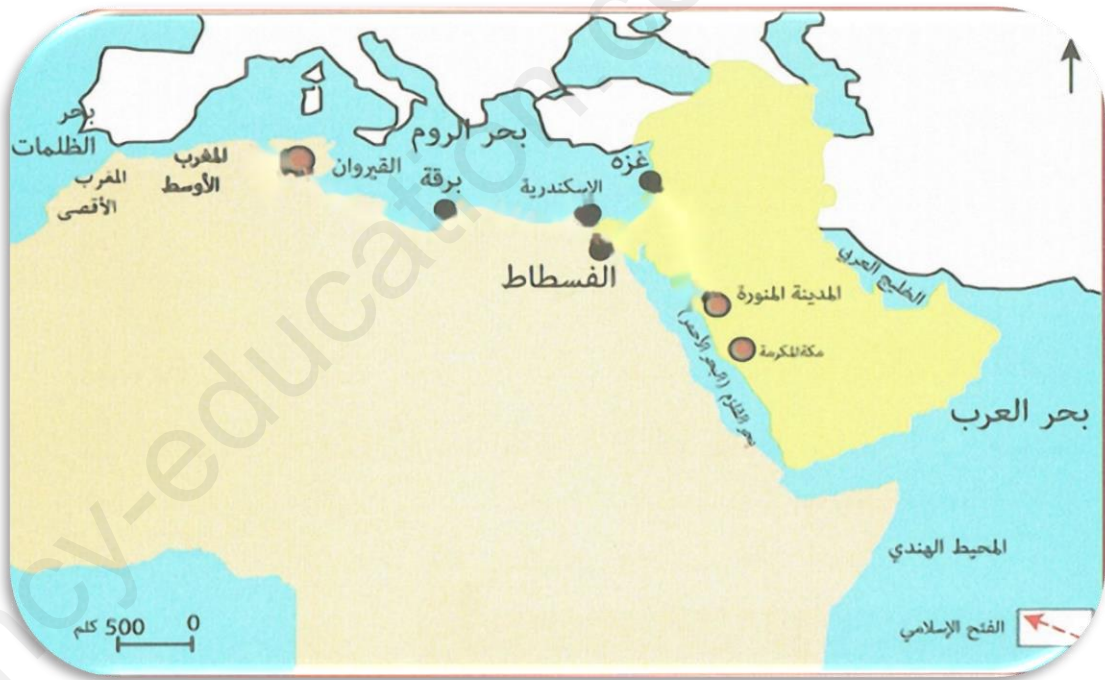
اختبار الفصل الثاني في مادة التاريخ

(1) اِرْبِطْ كُلَّ حَدَثٍ بِتَارِيخِهِ، ثُمَّ ارْسُمْ سُلَّمًا زَمَنِيًّا لِهَذِهِ الْأَحْدَاثِ.

فَتْحُ مَكَّةَ.	571 م
الْهَجْرَةُ إِلَى الْحَبَشَةِ.	624 م
غَزْوَةُ بَدْرَ.	630 م
مَوْلِدُ الرَّسُولِ ﷺ.	622 م
الْهَجْرَةُ إِلَى يَثْرِبَ.	615 م

(2) لِمَاذَا اهْتَمَّ الْفَاتِحُونَ فِي بِلَادِ الْمَغْرِبِ بِنَاءَ الْمَسَاجِدِ؟

(3) لَاحِظِ الْخَرِيطَةَ وَارْسُمْ عَلَيْهَا مَسَارَ الْفَاتِحِينَ مِنْ شِبْهِ الْجَزِيرَةِ الْعَرَبِيَّةِ إِلَى شَمَالِ إفْرِيقِيَا.



(4) أَلْفَنُ الْمِعْمَارِيِّ مِنْ أَهَمِّ مَظَاهِرِ التَّطَوُّرِ الْحَضَارِيِّ لِلشُّعُوبِ، لِذَلِكَ أَعْطَى الْفَاتِحُونَ أَهَمِّيَّةً كُبْرَى لِهَذَا الْفَنِّ الَّذِي ظَهَرَ فِي مَظْهَرَيْنِ اثْنَيْنِ فَمَاهُمَا؟ وَفِيمَ تَمَثَّلَ كُلُّ مَظْهَرٍ؟

اختبار الفصل الثاني في مادة الجغرافيا

(1) اكتب كلمة (صحيح) أو (خاطئ) أمام كل عبارة، وصحح العبارة الخاطئة إن وجدت.

- البترول من أنواع الموارد المعدنية .

.....
 • التعليم من العمل الإنتاجي اللامادي

- الثروة الغابية من الموارد التي تساهم في تطوير الفلاحة.

- الطاقة الشمسية من الموارد الطبيعية المتجددة.

- استغلال الموارد الطبيعية غير المتجددة بشكل غير عقلاني يؤدي إلى استمرارها .

(2) أكمل الناقص.

يُقصد بالموارد الطبيعية ما تُخزّنه الأرض من موارد وهي على نوعين هما المتجددة

مثل و الموارد مثل و وهذه الأخيرة

قابلة نتيجة لذا يجب المحافظة عليها من خلال

(3) اذكر أنواع الموارد الطبيعية في الجزائر وسمّ مثالين لكل نوع.

(4) للجزائر ثروات طبيعية فلاحية تزرع بها، اذكر أبرز الموارد التي تساهم في تطوير هذه الثروة الطبيعية الفلاحية.

(5) اكتب داخل الجدول عمليين للإنتاج المادي وعمليين للإنتاج اللامادي

العمل الإنتاجي اللامادي

العمل الإنتاجي المادي

اختبار الفصل الثاني في مادة التاريخ

التمرين الأول: أجب بصحيح أو خطأ مع تصحيح الخطأ.

- 1- أَهَمُّ نَشَاطٍ مَّارَسَهُ الْعَرَبُ فِي الْجَاهِلِيَّةِ هُوَ الصَّنَاعَةُ (.....)
- 2- توفي الرسول صلى الله عليه وسلم وعمره 62 سنة (.....)
- 3- شملت الفتوحات الإسلامية الجزيرة العربية فقط (.....)
- 4- مؤسس مدينة القيروان هو أبو مهاجر الدينار (.....)
- 5- الهجرة الأولى كانت في 622 هجري (.....)

التمرين الثاني: اربط كل تاريخ بحدثه

- | | |
|---------------------------|-------------------|
| * حجة الوداع | ➤ 622 ميلادي |
| * فتح مكة | ➤ 8 هجري |
| * الهجرة الثانية | ➤ 670 ميلادي |
| * تأسيس مدينة القيروان. | ➤ 10 هجري |
| * مواصلة الخلفاء للفتوحات | ➤ 632 هـ - 661 هـ |

التمرين الثالث: أكمل بما يناسب

- 1- كانت شمال افريقيا مستعمرة من طرف
- 2- من أشهر الحروب في الجاهلية حرب و
- 3- من أهم التغيرات التي أحدثها الإسلام و
- 4- تم بناء مدينة بجاية من طرف
- 5- ثاني مسجد في الإسلام هو

التمرين الرابع: أكمل ملأ الجدول.

غزوات الرسول (ص)	أسماء ثلاث فاتحين	أسماء ثلاث من الخلفاء الراشدين
1-	1-	1-
2-	2-	2-
3-	3-	3-



التلميذ :

إمضاء الولي :

العلامة : $\frac{\cdot}{10}$



للأستاذة شيراز عبد الرزاق

العلمة / سطيف

السنة 4 الرابعة

السؤال الأول : أكمل (3ن)

تعريف الحوار :

أهمية الحوار :

السؤال الثاني : أكمل مع الشرح (3ن)

أنواع العنف

السؤال الثالث : أكمل بما يناسب / (2ن)

التمييز العنصري : هو على أساس :

و يؤدي إلى

أنا لا أميز بين الأشخاص و أنبذ .

الوضعية الإدماجية : (2ن)

هل تصلح بين المتخاصمين ؟ ماهي العبارات التي تستعملها في ذلك ؟

- ماهي فائدة الصلح بين المتخاصمين ؟

الوضعية الإدماجية :

هَلْ تُصْلِحُ بَيْنَ الْمُتَخَصِّمِينَ ؟ مَا هِيَ الْعِبَارَاتُ الَّتِي تَسْتَغْمِلُهَا فِي ذَلِكَ ؟

- مَا هِيَ فَائِدَةُ الصُّلْحِ بَيْنَ الْمُتَخَاصِمِينَ ؟

التلميذ :

إمضاء الولي :

العلامة : $\frac{\cdot}{10}$



للأستاذة شيراز عبد الرزاق

العلمة / سطيف

السنة 4 الرابعة

السؤال الأول : أكمل (3ن)

الجوار: حديث يدور بين شخصين أو أكثر بهدف الوصول إلى نتيجة يتفق عليها الجميع أو تقبلها الأغلبية .

أهمية الجوار:

بالجوار يسود النظام و تنتشر المحبة و يمكننا العيش في مودة سلام .

السؤال الثاني : أكمل مع الشرح (3ن)

العنف نوعان : العنف اللفظي و العنف المادي

العنف اللفظي : و يتمثل في السب و الشتم و السخرية ...

العنف المادي : و يتمثل في إلحاق الأذى بالآخرين بأجسامهم أو ممتلكاتهم .

السؤال الثالث : أكمل بما يناسب / (2ن)

التمييز العنصري : هو عدم المساواة بين الأشخاص على أساس: **الجنس - الدين -**

اللون - اللغة - و يؤدي إلى العنف و تفكك المجتمع و انتشار الحقد و الكراهية

أنا لا أميز بين الأشخاص و أنبذ التمييز العنصري .

الوضعية الإدماجية : (2ن)

هل تصلح بين المتخاصمين ؟ ماهي العبارات التي تستعملها في ذلك ؟

- ماهي فائدة الصلح بين المتخاصمين ؟

هل تُصلحُ بينَ المتخاصمين ؟ ماهي العبارات التي تستعملها في ذلك ؟

- ماهي فائدة الصلح بين المتخاصمين ؟

تحدث الخلافات بين الناس بسبب غياب الحوار و النسيمة و تجاهل رأي الآخرين و التعصب للرأي الواحد وعدم الالتزام بآداب الحوار .

أساهم دائما في حل الخلافات التي تقع بين الأشخاص و أشجع على الحوار مستعملا عبارات تُلطف الجو و تُخفف من التوتر و أشجع أيضا نبذ العنف واتباع أسلوب التفاهم و حسن الإصغاء للمتحدث و نبذ التعصب .

الصلح بين المتخاصمين يعود بالفائدة على الجميع، فهو يعيد السلام والتوازن وغالبا يؤدي إلى تحسين العلاقات والاحترام المتبادل.

التلميذ :

إمضاء الولي :

العلامة : $\frac{\cdot}{10}$



للأستاذة شيراز عبد الرزاق

العلمة / سطيف

السنة 4 الرابعة

السؤال الأول : اكتب آداب الحوار وقواعده / (3ن)

,

,

,

,

السؤال الثاني : اذكر بعض المواضيع التي تطرح للحوار في القسم (2ن)

السؤال الثالث : اكمل بما يناسب / (2ن)

ماهي المؤسسات التربوية للمراحل الثلاثة؟

الوضعية الإدماجية : (3ن)

الحوار حديث يدور بين طرفين أو أكثر ، وضح كيف يتم داخل القسم

وماهي أهميته ؟

الوضعية الإدماجية :

الحوارُ حديثٌ يدورُ بينَ طرفَينِ أو أكثرَ ، وَضَحَ كَيْفَ يَتِمُّ دَاخِلَ الْقِسْمِ
وَمَا هِيَ أَهْمِيَّتُهُ ؟

التلميذ :

إمضاء الولي :

العلامة : $\frac{\cdot}{10}$



للأستاذة شيراز عبد الرزاق

العلمة / سطيف

السنة 4 الرابعة

السؤال الأول : اكتب آداب الحوار وقواعده / (3ن)

- استخداً الألفاظ الحسنة أثناء الحوار .
- عدم التعصب للرأي الواحد و تقبل آراء الآخرين
- حسن الإصغاء للمتحدث . - عدم مقاطعة المتحدث
- عدم رفع الصوت و تجنب العنف اللفظي عند الحوار

السؤال الثاني : اذكر بعض المواضيع التي تطرح للحوار في القسم (2ن)

المواضيع التي تطرح للحوار في القسم هي : تنظيم رحلة مدرسية ، حوار حول الواجبات المنزلية ، حوار حول لعبة رياضية وطريقة أدائها ، حوار حول طريقة إنجاز مشروع مدرسي .

السؤال الثالث : اكمل بما يناسب / (2ن)

المؤسسات التربوية : هي المكان الذي يتلقى فيه المتعلمون تعليمهم وهي متوفرة للجميع في بلادنا . أنواعها ثلاثة : الابتدائية - المتوسطة - الثانوية .

الوضعية الإدماجية : (3ن)

الحوار حديث يدور بين طرفين أو أكثر ، وضح كيف يتم داخل القسم وماهي أهميته ؟

الوضعية الإدماجية :

الحوارُ حديثٌ يدورُ بينَ طرفَينِ أو أكثرَ ، وَضَحَ كَيْفَ يَتِمُّ دَاخِلَ الْقِسْمِ
وماهي أهميته ؟

الحوار داخل القسم هو حديث يدور بين المعلمة والتلاميذ أو بين التلاميذ
فيما بينهم حول موضوع ما يتعلق بالدراسة وشؤونها . كالتحاور حول
طريقة إنجاز مشروع أو واجب مدرسي ...إلخ

أشاركُ في الحوارِ داخلَ القسمِ بكلِّ أدبٍ مَعَ زُملائي وَ مُعَلِّمي لِأَنِّي فَرَدٌ مِنْهُمْ ، وَلِأَنَّ لَهُ
أَهْمِيَّةً كَبِيرَةً فِي تَحْصِيلِي الدَّرَاسِي .

يساعدنا الحوار المفيد والمنظم على فهم المطلوب منا ويساعدنا في تنفيذه
كذلك يساعدنا في التحصيل العلمي بكل راحة بعيدا عن التعصب.

التلميذ :

إمضاء الولي :

العلامة : $\frac{\cdot}{10}$



للأستاذة شيراز عبد الرزاق

العلمة / سطيف

السنة 4 الرابعة

السؤال الأول : عرّف مائلي / (2ن)

المدرسة الابتدائية هي :

السؤال الثاني : أكمل / (2ن)

المؤسسات التربوية ثلاثة أنواع هي :

*

*

*

السؤال الثالث : أجب بـ : صح أو خطأ (3ن)

* يُستحسن عند الحوار التعصب للرأي الواحد .

* اتحاور مع زملائي في القسم لكن لا أقبّل رأيهم

* التمييز العنصري يؤدي إلى العنف لهذا أنبذه

الوضعية الإدماجية : (3ن)

يعاني الكثير من الناس في الكثير من دول العالم من التمييز العنصري

وهذا أدى إلى التباعد بين الشعوب وخلق الكراهية بينهم .

تحدث عن التمييز العنصري وأضراره على الفرد والمجتمع وكيفية محاربته

يُعَانِي الْكَثِيرُ مِنَ النَّاسِ فِي الْكَثِيرِ مِنْ دُولِ الْعَالَمِ مِنَ التَّمْيِيزِ الْعُنْصُرِيِّ
وَهَذَا أَدَّى إِلَى التَّبَاعُدِ بَيْنَ الشُّعُوبِ وَخَلَقَ الْكَرَاهِيَّةَ بَيْنَهُمْ .

تَحَدَّثْ عَنِ التَّمْيِيزِ الْعُنْصُرِيِّ وَأَضْرَارِهِ عَلَى الْفَرْدِ وَالْمَجْتَمَعِ وَكَيْفِيَةِ مُحَارَبَتِهِ

يُعَانِي الْكَثِيرُ مِنَ النَّاسِ فِي الْكَثِيرِ مِنْ دُولِ الْعَالَمِ مِنَ التَّمْيِيزِ الْعُنْصُرِيِّ وَهَذَا أَدَّى إِلَى التَّبَاعُدِ بَيْنَ الشُّعُوبِ وَخَلَقَ الْكَرَاهِيَّةَ بَيْنَهُمْ .

تَحَدَّثْ عَنْ التَّمْيِيزِ الْعُنْصُرِيِّ وَأَضْرَارِهِ عَلَى الْفَرْدِ وَالْمَجْتَمَعِ وَكَيْفِيَةِ مُحَارَبَتِهِ

التمييز العنصري هو التمييز أو الاختلاف وعدم المساواة في المعاملة بين الأشخاص على أساس العرق أو اللون أو الدين أو الجنس أو الجنسية أو أي سبب آخر يمكن أن يتم التمييز العنصري في المعاملة أو الإساءة أو الإهانة التمييز العنصري يسبب ضرراً كبيراً على المستوى الفردي والجماعي. على المستوى الفردي، يمكن أن يسبب التمييز العنصري الاضطرابات النفسية، من الناحية الجماعية، يمكن أن يؤدي التمييز العنصري إلى التفرقة الاجتماعية والاقتصادية والصراعات .

لمكافحة التمييز العنصري، يجب على الأفراد والمجتمعات والحكومات اتخاذ إجراءات فعالة لتوعية والتثقيف بمدى سوء هذه الظاهرة

وتطبيق القوانين: يجب على الحكومات والمؤسسات تطبيق القوانين التي

تحظر التمييز العنصري وتعاقب المخالفين.

الموقع الأول لتحضير الفروض والاختبارات في الجزائر

<https://www.dzexams.com>

https://www.dzexams.com/ar/0ap	القسم التحضيري
https://www.dzexams.com/ar/1ap	السنة الأولى ابتدائي
https://www.dzexams.com/ar/2ap	السنة الثانية ابتدائي
https://www.dzexams.com/ar/3ap	السنة الثالثة ابتدائي
https://www.dzexams.com/ar/4ap	السنة الرابعة ابتدائي
https://www.dzexams.com/ar/5ap	السنة الخامسة ابتدائي
https://www.dzexams.com/ar/bep	شهادة التعليم الابتدائي
https://www.dzexams.com/ar/1am	السنة الأولى متوسط
https://www.dzexams.com/ar/2am	السنة الثانية متوسط
https://www.dzexams.com/ar/3am	السنة الثالثة متوسط
https://www.dzexams.com/ar/4am	السنة الرابعة متوسط
https://www.dzexams.com/ar/bem	شهادة التعليم المتوسط
https://www.dzexams.com/ar/1as	السنة الأولى ثانوي
https://www.dzexams.com/ar/2as	السنة الثانية ثانوي
https://www.dzexams.com/ar/3as	السنة الثالثة ثانوي
https://www.dzexams.com/ar/bac	شهادة البكالوريا

اختبار الفصل الثاني في التربية المدنية

3 ن

السؤال الأول :

(1) عرّف الجَوَارَ

(2) للحوار آدابٌ كثيرة . أذكر أربعًا منها .

3 ن

السؤال الثاني :

صنّف السلوكات التالية حسب الجدول :

تَخْرِيبُ مُمْتَلَكاتِ الْغَيْرِ - السَّبُّ - الضَّرْبُ بِالْعَصَا - السُّخْرِيَّة - الشَّتْم - الْقَتْل

عُنْفٌ لَفْظِيٌّ	عُنْفٌ مَادِّي

3 ن

السؤال الثالث :

أكمل بما يناسب من الكلمات

أنا تلميذ صالح أسأهم دائماً في حلّ بين الناس و أنصحهم بنبذ
 و اتّباع أساليب وإستعمال
 والإصغاء و نبذ

1 ن

السؤال الرابع :

اشرح الحديث المقابل

في سطرٍ واحدٍ .



الأستاذ محمد
 ينمى لكم النجاح

الموقع الأول لتحضير الفروض والاختبارات في الجزائر

<https://www.dzexams.com>

https://www.dzexams.com/ar/0ap	القسم التحضيري
https://www.dzexams.com/ar/1ap	السنة الأولى ابتدائي
https://www.dzexams.com/ar/2ap	السنة الثانية ابتدائي
https://www.dzexams.com/ar/3ap	السنة الثالثة ابتدائي
https://www.dzexams.com/ar/4ap	السنة الرابعة ابتدائي
https://www.dzexams.com/ar/5ap	السنة الخامسة ابتدائي
https://www.dzexams.com/ar/bep	شهادة التعليم الابتدائي
https://www.dzexams.com/ar/1am	السنة الأولى متوسط
https://www.dzexams.com/ar/2am	السنة الثانية متوسط
https://www.dzexams.com/ar/3am	السنة الثالثة متوسط
https://www.dzexams.com/ar/4am	السنة الرابعة متوسط
https://www.dzexams.com/ar/bem	شهادة التعليم المتوسط
https://www.dzexams.com/ar/1as	السنة الأولى ثانوي
https://www.dzexams.com/ar/2as	السنة الثانية ثانوي
https://www.dzexams.com/ar/3as	السنة الثالثة ثانوي
https://www.dzexams.com/ar/bac	شهادة البكالوريا

اختبار الفصل الثاني في مادة: التربية المدنية

النشاط الأول (2ن) : أجب بـ "صحيح" أو "خطأ" :

• أثناء الحوار، أَسْتَخْدِمُ الغُفَّ والألفاظ السيئة.

• يُسَمَحُ للتلاميذ بالإجابة الجماعية على الأسئلة.

• ضرورة الابتعاد عن التعصب لرأي من الآراء .

• لا أشارك زملائي ومعلمي في الحوار داخل القسم.

النشاط الثاني (3ن) : أصنّف في الجدول ما يلي :

الضرب - السخرية - الشتم - السرقة - تكسير أملاك الغير - الفظاظ .

عنف لفظي	عنف مادي
.....
.....

النشاط الثالث (2ن) : أربط بما يناسب :

• تفضيل العربي على الأجنبي

• التمييز العنصري حسب الجنس

• تفضيل المسلم على غيره

• التمييز العنصري حسب اللون

• تفضيل الذكور على الإناث

• التمييز العنصري حسب الدين

• تفضيل البيض على السود

• التمييز العنصري حسب اللغة

النشاط الرابع (3ن) : "الحوار دليل على الحضارة و الرقي" بناء على ذلك أكمل :

الحوار هو

.....

ومن آداب الحوار : و

..... و

الموقع الأول لتحضير الفروض والاختبارات في الجزائر

<https://www.dzexams.com>

https://www.dzexams.com/ar/0ap	القسم التحضيري
https://www.dzexams.com/ar/1ap	السنة الأولى ابتدائي
https://www.dzexams.com/ar/2ap	السنة الثانية ابتدائي
https://www.dzexams.com/ar/3ap	السنة الثالثة ابتدائي
https://www.dzexams.com/ar/4ap	السنة الرابعة ابتدائي
https://www.dzexams.com/ar/5ap	السنة الخامسة ابتدائي
https://www.dzexams.com/ar/bep	شهادة التعليم الابتدائي
https://www.dzexams.com/ar/1am	السنة الأولى متوسط
https://www.dzexams.com/ar/2am	السنة الثانية متوسط
https://www.dzexams.com/ar/3am	السنة الثالثة متوسط
https://www.dzexams.com/ar/4am	السنة الرابعة متوسط
https://www.dzexams.com/ar/bem	شهادة التعليم المتوسط
https://www.dzexams.com/ar/1as	السنة الأولى ثانوي
https://www.dzexams.com/ar/2as	السنة الثانية ثانوي
https://www.dzexams.com/ar/3as	السنة الثالثة ثانوي
https://www.dzexams.com/ar/bac	شهادة البكالوريا

﴿ اختبار الفصل الثاني في مادة التربية المدنية ﴾

العلامة: / 10

إسم ولقب التلميذ:

التمرين الأول: (02 ن)أضع صحيح أمام العبارة التي تدل على آداب الحوار و بخاطئ عكس ذلك

- مقاطعة المتحدث
- حسن الإصغاء للمتحدث
- رفع الصوت والأيدي
- استخدام الألفاظ الحسنة أثناء المناقشة

التمرين الثاني: (03 ن)ضع الكلمات التالية في الفراغ المناسب:

الحقد والكراهية ، الدين ، تفضيل ، المجتمع ، عدم المساواة ، العنف

- التمييز العنصري هو شخص على آخر ، أو بين الأشخاص على أساس الجنس ، ، اللون ، اللغة ، ويؤدي إلى والتفكك بين أفراد وانتشار

التمرين الثالث: (03 ن)أملأ الجدول بثلاث أمثلة عن الممتلكات العامة والخاصة

ممتلكات خاصة	ممتلكات عامة

التمرين الرابع: (02 ن)أربط كل مرفق بالنشاط الذي يمارس فيه

- | | | | | |
|--------------------|---|---|---------------------------|---|
| القسم | * | * | المطالعة وقراءة الكتب. | * |
| المكتبة المدرسية | * | * | البحث والاكتشاف. | * |
| قاعة الإعلام الآلي | * | * | الراحة والألعاب المختلفة. | * |
| الساحة | * | * | تلقي الدروس والمعارف. | * |

الموقع الأول لتحضير الفروض والاختبارات في الجزائر

<https://www.dzexams.com>

https://www.dzexams.com/ar/0ap	القسم التحضيري
https://www.dzexams.com/ar/1ap	السنة الأولى ابتدائي
https://www.dzexams.com/ar/2ap	السنة الثانية ابتدائي
https://www.dzexams.com/ar/3ap	السنة الثالثة ابتدائي
https://www.dzexams.com/ar/4ap	السنة الرابعة ابتدائي
https://www.dzexams.com/ar/5ap	السنة الخامسة ابتدائي
https://www.dzexams.com/ar/bep	شهادة التعليم الابتدائي
https://www.dzexams.com/ar/1am	السنة الأولى متوسط
https://www.dzexams.com/ar/2am	السنة الثانية متوسط
https://www.dzexams.com/ar/3am	السنة الثالثة متوسط
https://www.dzexams.com/ar/4am	السنة الرابعة متوسط
https://www.dzexams.com/ar/bem	شهادة التعليم المتوسط
https://www.dzexams.com/ar/1as	السنة الأولى ثانوي
https://www.dzexams.com/ar/2as	السنة الثانية ثانوي
https://www.dzexams.com/ar/3as	السنة الثالثة ثانوي
https://www.dzexams.com/ar/bac	شهادة البكالوريا

النشاط الأول: أجب بصحيح أو خطأ

- التمييز العنصري سلوك حسن ينشر المحبة بين الناس.....
- أنا تلميذ مسلم لا أميز بين أفراد المجتمع
- أدرس في الابتدائية ثلاث سنوات
- يُسير المتوسطة المدير فقط

التمرين الثاني: ضع كل جملة في الخانة المناسبة

- هي المرحلة الثالثة من التعليم – أجتاز شهادة البكالوريا – يسيرها المدير- تتكون من أربع سنوات تعليمية- أدرس فيها خمس سنوات- أجتاز شهادة التعليم المتوسط- أختار تخصص معين أدرسه- أدرس اللغة الإنجليزية أول مرة- أدرس ثلاث سنوات- أجتاز فيها شهادة نهاية مرحلة التعليم الابتدائي.

الابتدائية	المتوسطة	الثانوية
-	-	-
-	-	-
-	-	-
-	-	-
-	-	-
-	-	-
-	-	-

التمرين الثالث: أكتبُ امام كل عبارة ملكية عامة أو ملكية خاصة

- المُستشفى - حديقة عمومية - منزل
- محفظة و أدوات مدرسية..... - عيادة الطبيب - الجامعة.....
- الثانوية..... - المدرسة - مزرعة..... - دراجة.....

الوضعية الإدماجية: تحدث عن مدرستك في فقرة قصيرة (الاسم، الموقع، عدد الأقسام، المعلمين، المطعم، دورة المياه،

الساحة، أين تدرس؟.....) و ما هو واجبك نحوها؟

.....

.....

الموقع الأول لتحضير الفروض والاختبارات في الجزائر

<https://www.dzexams.com>

https://www.dzexams.com/ar/0ap	القسم التحضيري
https://www.dzexams.com/ar/1ap	السنة الأولى ابتدائي
https://www.dzexams.com/ar/2ap	السنة الثانية ابتدائي
https://www.dzexams.com/ar/3ap	السنة الثالثة ابتدائي
https://www.dzexams.com/ar/4ap	السنة الرابعة ابتدائي
https://www.dzexams.com/ar/5ap	السنة الخامسة ابتدائي
https://www.dzexams.com/ar/bep	شهادة التعليم الابتدائي
https://www.dzexams.com/ar/1am	السنة الأولى متوسط
https://www.dzexams.com/ar/2am	السنة الثانية متوسط
https://www.dzexams.com/ar/3am	السنة الثالثة متوسط
https://www.dzexams.com/ar/4am	السنة الرابعة متوسط
https://www.dzexams.com/ar/bem	شهادة التعليم المتوسط
https://www.dzexams.com/ar/1as	السنة الأولى ثانوي
https://www.dzexams.com/ar/2as	السنة الثانية ثانوي
https://www.dzexams.com/ar/3as	السنة الثالثة ثانوي
https://www.dzexams.com/ar/bac	شهادة البكالوريا



المستوى: الرابع ابتدائي (4AP) جوان 2021

اختبار الفصل الثاني في مادة التربية المدنية

الاسم اللقب القسم

التمرين الأول: 3ن

ضع صحيح أمام العبارة الصحيحة وخطأ أمام العبارة الخاطئة:

- أستعمل العنف اللفظي في المناقشة.....
- مقاطعة المتحدث من آداب الحوار.....
- التمييز العنصري هو تفضيل شخص عن الآخر.....
- السب والشتم مجرد كلام لا يؤدي غيرنا.....
- التشاجر والتخاصم عادة سيئة أنبذها في علاقاتي مع الآخرين.....
- العنف المادي هو الذي يلحق الضرر بالآخرين في أجسامهم وأرواحهم.....

التمرين الثاني: 2 ن

صنف نوع العنف حسب الجدول التالي :

الشتم ، الضرب ، السخرية ، السرقة ، السب ، تكسير أدوات غيرنا ، التحريض ،
تدمير المنشآت

العنف المادي	العنف اللفظي
.....
.....
.....
.....

التمرين الثالث: 3ن

أكمل الفراغات بما يناسب:

المدرسة الابتدائية هي التعليمية لل.....
الأولى من، وهي مرحلة و.....
التعليم الابتدائي هو المستوى، ويتكوّن من
سنوات دراسية
وتختتم هذه المرحلة ب..... نهاية مرحلة
.....

التمرين الرابع: 2ن

للحوار أهمية كبيرة في التواصل بين الناس دون تمييز.

1/ عرف الحوار.

.....
.....
.....

2/ أذكر آداب الحوار.

.....
.....

التصحيح النموذجي وسلم التنقيط

التمرين الأول: 3ن

ضع صحيح أمام العبارة الصحيحة وخطأ أمام العبارة الخاطئة:

- أستعمل العنف اللفظي في المناقشة خطأ 0.5
- مقاطعة المتحدث من آداب الحوار خطأ 0.5
- التمييز العنصري هو تفضيل شخص عن الآخر صحيح 0.5
- السب والشتم مجرد كلام لا يؤدي غيرنا خطأ 0.5
- التشاجر والتخاصم عادة سيئة أنبذها في علاقاتي مع الآخرين صحيح 0.5
- العنف المادي هو الذي يلحق الضرر بالآخرين في أجسامهم وأرواحهم صحيح 0.5

التمرين الثاني: 2 ن

صنّف نوع العنف حسب الجدول التالي :

الشتم ، الضرب ، السخرية ، السرقة ، السب ، تكسير أدوات غيرنا ، التحريض ، تدمير المنشآت

العنف اللفظي	العنف المادي
الشتم 0.25	الضرب 0.25
السب 0.25	السرقة 0.25
السخرية 0.25	تكسير أدوات غيرنا 0.25
التحريض 0.25	تدمير المنشآت 0.25

التمرين الثالث: 3ن

أكمل الفراغات بما يناسب:

المدرسة الابتدائية هي المؤسسة 0.25 التعليمية المخصصة 0.25 للمرحلة 0.25 الأولى من التعليم 0.25، وهي مرحلة إلزامية 0.25 ومجانية 0.25

التّعليم الابتدائي هو المستوى التّعليمي 0.25 الأوّل 0.25، ويتكوّن من خمس 0.25 سنوات دراسيّة.

وتختتم هذه المرحلة بشهادة 0.25 نهاية مرحلة التّعليم 0.25 الابتدائي 0.25.

التمرين الرابع 2ن:

1/ تعريف الحوار:

الحوار حديث يدور بين شخصين أو أكثر بهدف الوصول إلى نتيجة يتفق عليها الجميع أو تقبلها الأغلبية. 1

2/ آداب الحوار:

استخدام الألفاظ الحسنة. 0.5

تجنب مقاطعة المتحدّث. 0.5

الموقع الأول لتحضير الفروض والاختبارات في الجزائر

<https://www.dzexams.com>

https://www.dzexams.com/ar/0ap	القسم التحضيري
https://www.dzexams.com/ar/1ap	السنة الأولى ابتدائي
https://www.dzexams.com/ar/2ap	السنة الثانية ابتدائي
https://www.dzexams.com/ar/3ap	السنة الثالثة ابتدائي
https://www.dzexams.com/ar/4ap	السنة الرابعة ابتدائي
https://www.dzexams.com/ar/5ap	السنة الخامسة ابتدائي
https://www.dzexams.com/ar/bep	شهادة التعليم الابتدائي
https://www.dzexams.com/ar/1am	السنة الأولى متوسط
https://www.dzexams.com/ar/2am	السنة الثانية متوسط
https://www.dzexams.com/ar/3am	السنة الثالثة متوسط
https://www.dzexams.com/ar/4am	السنة الرابعة متوسط
https://www.dzexams.com/ar/bem	شهادة التعليم المتوسط
https://www.dzexams.com/ar/1as	السنة الأولى ثانوي
https://www.dzexams.com/ar/2as	السنة الثانية ثانوي
https://www.dzexams.com/ar/3as	السنة الثالثة ثانوي
https://www.dzexams.com/ar/bac	شهادة البكالوريا

التاريخ: 2021/2020

المدة: 1 سا

المادة: التربية المدنية

المستوى: الرابعة ابتدائي

اختبار الفصل الثاني

الاسم واللقب:

التمرين الأول:



عمّ تعبّر هذه المشاهد؟

ما هي نتائج هذه التصرفات؟

Ecole Erradja wa Tafaouk
ÉCOLE PRIVÉE

التمرين الثاني:

اقرأ كل عبارة مما يلي ثم ضع بعدها "صحيح" "خاطئ".

- لا يلتزم المتحاورون بالآداب عند الحديث

- الحوار هدفه الوصول إلى نتيجة ترضي الجميع

- حتى أقنع الآخرين أفرض فكري عليهم

- أصغي للمتحدث وأحترمه مهما كان سنّه

- أتجادل مع زملائي في القسم لتعم الفائدة

التَّمرينُ الثالثُ:



- هذه الصور هي عبارة عن ممتلكات خاصة وعامة صنفها في الجدول:

ممتلكات عامة	ممتلكات خاصة
.....--
.....--
.....--
.....--

ما الفرق بينهما؟

.....
.....

الْوَضْعِيَّةُ الإدماجية:

أتمم الفقرة بما يناسب.

أنا تلميذ(ة) بمدرسة أتابع دروسي بقسم

مدرسة "الرجاء والتفوق" الخاصة

Ecole Erradja wa Tafaouk

ÉCOLE PRIVÉE

..... وهو واحد من مستويات التعليم

الذي يبدأ بمرحلة وينتهي بـ

لأننتقل بعدها إلى مرحلة التعليم والمتكون من

مستويات، ويتميز التعليم في هذه المرحلة بوجود أستاذة في مواد

تعليمية أخرى، كما ينتهي هذا المستوى بـ ولكل مستوى مؤسسة خاصة به

يتوفر فيها خاصة.

التاريخ: 2021/2020
المدة: 1 سا

المادة: التربية المدنية
المستوى: الرابعة ابتدائي

تصحيح اختبار الفصل الثاني

الاسم واللقب:

التَّمرينُ الأوَّلُ:



عمّ تعبّر هذه المشاهد؟

- العنف المادي واللفظي.

ما هي نتائج هذه التصرفات؟

- الحاق الضرر بالآخرين في أجسامهم وأرواحهم وممتلكاتهم.

التَّمرينُ الثاني:

اقرأ كل عبارة مما يلي ثم ضع بعدها "صحيح" "خاطئ".

خاطئ

- لا يلتزم المتحاورون بالآداب عند الحديث

صحيح

- الحوار هدفه الوصول إلى نتيجة ترضي الجميع

خاطئ

- حتى أقنع الآخرين أفرض فكري عليهم

صحيح

- أصغي للمتحدث واحترمه مهما كان سنّه

صحيح

- أتجادل مع زملائي في القسم لتعم الفائدة

التَّمرينُ الثالثُ:



- هذه الصور هي عبارة عن ممتلكات خاصة وعامة صنفها في الجدول:

ممتلكات خاصة	ممتلكات عامة
- دراجة. - خاتم.	- مستشفى. - مزرعة.

ما الفرق بينهما؟

- الممتلكات الخاصة هي: ما يملكه فرد أو عدد قليل من الأفراد مثل دراجة.
- الممتلكات العامة هي: ما تملكه الدولة كالمدارس والمستشفيات والمصانع والمؤسسات المختلفة وتجهيزاتها وينتفع بها جميع المواطنين.

الْوَضْعِيَّةُ الإدماجية:

أتمم الفقرة بما يناسب.

أنا تلميذ(ة) بمدرسة الرجاء **والتفوق** أتابع دروسي بقسم **الرابعة** وهو واحد من مستويات التعليم **الابتدائي** الذي يبدأ بمرحلة الأولى من التعليم وينتهي **بشهادة نهاية مرحلة التعليم** لأنقل بعدها إلى مرحلة التعليم **المتوسط** والمتكون من **أربعة** مستويات، ويتميز التعليم في هذه المرحلة بوجود **أستاذة متخصصين** في مواد تعليمية أخرى ، كما ينتهي هذا المستوى **بشهادة التعليم المتوسط** ولكل مستوى مؤسسة خاصة به يتوفر فيها **مرافق خاصة**.

الموقع الأول لتحضير الفروض والاختبارات في الجزائر

<https://www.dzexams.com>

https://www.dzexams.com/ar/0ap	القسم التحضيري
https://www.dzexams.com/ar/1ap	السنة الأولى ابتدائي
https://www.dzexams.com/ar/2ap	السنة الثانية ابتدائي
https://www.dzexams.com/ar/3ap	السنة الثالثة ابتدائي
https://www.dzexams.com/ar/4ap	السنة الرابعة ابتدائي
https://www.dzexams.com/ar/5ap	السنة الخامسة ابتدائي
https://www.dzexams.com/ar/bep	شهادة التعليم الابتدائي
https://www.dzexams.com/ar/1am	السنة الأولى متوسط
https://www.dzexams.com/ar/2am	السنة الثانية متوسط
https://www.dzexams.com/ar/3am	السنة الثالثة متوسط
https://www.dzexams.com/ar/4am	السنة الرابعة متوسط
https://www.dzexams.com/ar/bem	شهادة التعليم المتوسط
https://www.dzexams.com/ar/1as	السنة الأولى ثانوي
https://www.dzexams.com/ar/2as	السنة الثانية ثانوي
https://www.dzexams.com/ar/3as	السنة الثالثة ثانوي
https://www.dzexams.com/ar/bac	شهادة البكالوريا

الاسم و اللقب :

الجمهورية الجزائرية الديمقراطية الشعبية
وزارة التربية الوطنية

قناة الأستاذ أقدوش فيصل

الموسم الدراسي 2021/2020

مدرسة بلفروم الحاج

المدة : ساعة و نصف

اختبار الفصل الثاني في مادة التربية المدنية

المستوى: السنة الرابعة ابتدائي

العلامة

10

التمرين الأول (2.5ن): ضع " صحيح " أو " خطأ " أمام كل عبارة :

- 1- من آداب الجوار مقاطعة المتحدث
- 2- مرحلة التعليم الابتدائي إلزامية و ليست مجانية
- 3- نختتم مرحلة التعليم المتوسط بشهادة البكالوريا
- 4- الطاولة التي أجلس عليها في القسم هي ملكية خاصة بي
- 5- مدرستي ملكية عامة من واجبي المحافظة عليها

التمرين الثاني (3ن): 1- تَنَوُّعُ الممتلكات بين عامة و خاصة ، اشرح الفرق بين بينهما :

- الممتلكات الخاصة :
- الممتلكات العامة :

2- صنف الممتلكات في الجدول التالي: - المستشفيات - خزائن القسم - دراجة - المدرسة - سيارة الأب - حديقة عامة - عيادة خاصة - مسجد - طريق - ساحة الحي .

الملكية العامة	الملكية الخاصة
.....
.....
.....

التمرين الثالث (1.5ن): املأ الفراغات بالكلمات التالية: - تفضيل - المساواة - الجنس - العنف - التفكك - الحقد

التمييز العنصري هو : تفضيل شخص على آخر أو عدم بين الأشخاص على أساس : الدين ، اللون ، اللغة ، ، و يؤدي إلى و بين أفراد المجتمع و انتشار و الكراهية

التمرين الرابع (2.5ن): المؤسسات التعليمية هي المكان المخصص لاكتساب العلوم و المعارف و هي متوفرة للجميع في بلادنا بمراحلها الثلاث ، من خلال ما درست اكمل الجدول التالي:

المرحلة التعليمية	سنوات التمدرس	الشهادة	مرفقان لكل مرحلة	مسؤولان لكل مرحلة
.....
.....
.....

الموقع الأول لتحضير الفروض والاختبارات في الجزائر

<https://www.dzexams.com>

https://www.dzexams.com/ar/0ap	القسم التحضيري
https://www.dzexams.com/ar/1ap	السنة الأولى ابتدائي
https://www.dzexams.com/ar/2ap	السنة الثانية ابتدائي
https://www.dzexams.com/ar/3ap	السنة الثالثة ابتدائي
https://www.dzexams.com/ar/4ap	السنة الرابعة ابتدائي
https://www.dzexams.com/ar/5ap	السنة الخامسة ابتدائي
https://www.dzexams.com/ar/bep	شهادة التعليم الابتدائي
https://www.dzexams.com/ar/1am	السنة الأولى متوسط
https://www.dzexams.com/ar/2am	السنة الثانية متوسط
https://www.dzexams.com/ar/3am	السنة الثالثة متوسط
https://www.dzexams.com/ar/4am	السنة الرابعة متوسط
https://www.dzexams.com/ar/bem	شهادة التعليم المتوسط
https://www.dzexams.com/ar/1as	السنة الأولى ثانوي
https://www.dzexams.com/ar/2as	السنة الثانية ثانوي
https://www.dzexams.com/ar/3as	السنة الثالثة ثانوي
https://www.dzexams.com/ar/bac	شهادة البكالوريا

3. التربية المدنية :

التمرين الأول : أجب — "صحيح" أو "خطأ" اما كل عبارة مما يأتي

- من آداب الحوار حسن الإصغاء إلى المتحدث
- أساهم في حل المشكلات بإستعمال العنف اللفظي
- التمييز العنصري يؤدي إلى التفكك بين أفراد المجتمع
- التمييز العنصري هو المساواة بين الأشخاص

التمرين الثاني : أجب عن ما يلي

أ. عرف الحوار؟



صفحة الرفيق للتعليم

ب. ما هي آداب الحوار؟

التمرين الثالث: صنف السلوكيات التالية في الجدول

السب - الضرب بالعضا - السخرية - إستعمال السلاح - الشتم - تخريب ممتلكات الغير

العنف اللفظي	العنف المادي

الموقع الأول لتحضير الفروض والاختبارات في الجزائر

<https://www.dzexams.com>

https://www.dzexams.com/ar/0ap	القسم التحضيري
https://www.dzexams.com/ar/1ap	السنة الأولى ابتدائي
https://www.dzexams.com/ar/2ap	السنة الثانية ابتدائي
https://www.dzexams.com/ar/3ap	السنة الثالثة ابتدائي
https://www.dzexams.com/ar/4ap	السنة الرابعة ابتدائي
https://www.dzexams.com/ar/5ap	السنة الخامسة ابتدائي
https://www.dzexams.com/ar/bep	شهادة التعليم الابتدائي
https://www.dzexams.com/ar/1am	السنة الأولى متوسط
https://www.dzexams.com/ar/2am	السنة الثانية متوسط
https://www.dzexams.com/ar/3am	السنة الثالثة متوسط
https://www.dzexams.com/ar/4am	السنة الرابعة متوسط
https://www.dzexams.com/ar/bem	شهادة التعليم المتوسط
https://www.dzexams.com/ar/1as	السنة الأولى ثانوي
https://www.dzexams.com/ar/2as	السنة الثانية ثانوي
https://www.dzexams.com/ar/3as	السنة الثالثة ثانوي
https://www.dzexams.com/ar/bac	شهادة البكالوريا

التاريخ: 2021/2020
المدة: 1 سا

المادة: التربية المدنية
المستوى: الرابعة ابتدائي

اختبار الفصل الثاني

الاسم واللقب:

التمرين الأول:



عمّ تعبّر هذه المشاهد؟

.....
.....
.....

ما هي نتائج هذه التصرفات؟

.....
.....
.....

التمرين الثاني:

اقرأ كل عبارة مما يلي ثم ضع بعدها " صحيح " " خاطئ ".

.....

- لا يلتزم المتحاورون بالآداب عند الحديث

.....

- الحوار هدفه الوصول إلى نتيجة ترضي الجميع

.....

- حتى أقنع الآخرين أفرض فكري عليهم

.....

- أصغي للمتحدث وأحترمه مهما كان سنّه

.....

- أتحدّث مع زملائي في القسم لتعم الفائدة

التَّمرينُ الثالثُ:



- هذه الصور هي عبارة عن ممتلكات خاصة وعامة صنفها في الجدول:

ممتلكات عامة	ممتلكات خاصة
.....--
.....--
.....--
.....--

ما الفرق بينهما؟

.....
.....

الوَضْعِيَّةُ الإدماجية:

أتمم الفقرة بما يناسب.

أنا تلميذ(ة) بمدرسة أتابع دروسي بقسم

..... وهو واحد من مستويات التعليم

الذي يبدأ بمرحلة وينتهي بـ

لأننتقل بعدها إلى مرحلة التعليم والمكون من

مستويات، ويتميز التعليم في هذه المرحلة بوجود أستاذة في مواد

تعليمية أخرى ، كما ينتهي هذا المستوى بـ ولكل مستوى مؤسسة خاصة به

يتوفر فيها خاصة .

التاريخ: 2021/2020
المدة: 1 سا

المادة: التربية المدنية
المستوى: الرابعة ابتدائي

تصحيح اختبار الفصل الثاني

الاسم واللقب:

التمرين الأول:



عمّ تعبّر هذه المشاهد؟

- العنف المادي واللفظي.

ما هي نتائج هذه التصرفات؟

- إلحاق الضرر بالآخرين في أجسامهم وأرواحهم وممتلكاتهم.

التمرين الثاني:

اقرأ كل عبارة مما يلي ثم ضع بعدها "صحيح" "خاطئ".

خاطئ

- لا يلتزم المتحاورون بالآداب عند الحديث

صحيح

- الحوار هدفه الوصول إلى نتيجة ترضي الجميع

خاطئ

- حتى أقنع الآخرين أفرض فكري عليهم

صحيح

- أصغي للمتحدث واحترمه مهما كان سنّه

صحيح

- أتجادل مع زملائي في القسم لتعم الفائدة

التَّمرينُ الثالثُ:



- هذه الصور هي عبارة عن ممتلكات خاصة وعامة صنفها في الجدول:

ممتلكات خاصة	ممتلكات عامة
- دراجة. - خاتم.	- مستشفى. - مزرعة.

ما الفرق بينهما؟

- الممتلكات الخاصة هي: ما يملكه فرد أو عدد قليل من الأفراد مثل دراجة.
- الممتلكات العامة هي: ما تملكه الدولة كالمدارس والمستشفيات والمصانع والمؤسسات المختلفة وتجهيزاتها وينتفع بها جميع المواطنين.

الْوَضْعِيَّةُ الإدماجية:

أتمم الفقرة بما يناسب.

أنا تلميذ(ة) بمدرسة الرجاء **والتفوق** أتابع دروسي بقسم **الرابعة** وهو واحد من مستويات التعليم **الابتدائي** الذي يبدأ بمرحلة الأولى من التعليم وينتهي **بشهادة نهاية مرحلة التعليم** لأنتقل بعدها إلى مرحلة التعليم **المتوسط** والمتكون من **أربعة** مستويات، ويتميز التعليم في هذه المرحلة بوجود **أستاذة متخصصين** في مواد تعليمية أخرى ، كما ينتهي هذا المستوى **بشهادة التعليم المتوسط** ولكل مستوى مؤسسة خاصة به يتوفر فيها **مرافق خاصة** .

الموقع الأول لتحضير الفروض والاختبارات في الجزائر

<https://www.dzexams.com>

https://www.dzexams.com/ar/0ap	القسم التحضيري
https://www.dzexams.com/ar/1ap	السنة الأولى ابتدائي
https://www.dzexams.com/ar/2ap	السنة الثانية ابتدائي
https://www.dzexams.com/ar/3ap	السنة الثالثة ابتدائي
https://www.dzexams.com/ar/4ap	السنة الرابعة ابتدائي
https://www.dzexams.com/ar/5ap	السنة الخامسة ابتدائي
https://www.dzexams.com/ar/bep	شهادة التعليم الابتدائي
https://www.dzexams.com/ar/1am	السنة الأولى متوسط
https://www.dzexams.com/ar/2am	السنة الثانية متوسط
https://www.dzexams.com/ar/3am	السنة الثالثة متوسط
https://www.dzexams.com/ar/4am	السنة الرابعة متوسط
https://www.dzexams.com/ar/bem	شهادة التعليم المتوسط
https://www.dzexams.com/ar/1as	السنة الأولى ثانوي
https://www.dzexams.com/ar/2as	السنة الثانية ثانوي
https://www.dzexams.com/ar/3as	السنة الثالثة ثانوي
https://www.dzexams.com/ar/bac	شهادة البكالوريا

اختبار الفصل الثاني في مادة التربية المدنية

التمرين الأول :

أجب بـ صحيح / خطأ :

- من آداب الحوار حسن الإصغاء الى المتحدث
- أساهم في حل الخلافات باستعمال العنف اللفظي
- التمييز العنصري يؤدي الى التفكك بين أفراد المجتمع
- التمييز العنصري هو المساواة بين الأشخاص

التمرين الثاني :

1/ عرف الحوار ؟

.....

.....

2/ ما هي آداب الحوار ؟

.....

.....

.....

التمرين الثالث :

صنف السلوكات التالية في الجدول :

السب – الضرب بالعصا – السخرية – استعمال السلاح – الشتم – تخريب ممتلكات الغير

العنف اللفظي	العنف المادي
.....
.....
.....

الموقع الأول لتحضير الفروض والاختبارات في الجزائر

<https://www.dzexams.com>

https://www.dzexams.com/ar/0ap	القسم التحضيري
https://www.dzexams.com/ar/1ap	السنة الأولى ابتدائي
https://www.dzexams.com/ar/2ap	السنة الثانية ابتدائي
https://www.dzexams.com/ar/3ap	السنة الثالثة ابتدائي
https://www.dzexams.com/ar/4ap	السنة الرابعة ابتدائي
https://www.dzexams.com/ar/5ap	السنة الخامسة ابتدائي
https://www.dzexams.com/ar/bep	شهادة التعليم الابتدائي
https://www.dzexams.com/ar/1am	السنة الأولى متوسط
https://www.dzexams.com/ar/2am	السنة الثانية متوسط
https://www.dzexams.com/ar/3am	السنة الثالثة متوسط
https://www.dzexams.com/ar/4am	السنة الرابعة متوسط
https://www.dzexams.com/ar/bem	شهادة التعليم المتوسط
https://www.dzexams.com/ar/1as	السنة الأولى ثانوي
https://www.dzexams.com/ar/2as	السنة الثانية ثانوي
https://www.dzexams.com/ar/3as	السنة الثالثة ثانوي
https://www.dzexams.com/ar/bac	شهادة البكالوريا

الاختبار الثلاثي الثاني في التربية المدنية

التمرين الأول (02 ن)

أضع (نعم) أو (لا) أمام العبارات التالية :

- الحوار حديث يدور بين شخصين أو أكثر بهدف الوصول إلى نتيجة يتفق عليها الجميع.....
- نشر المحبة و التفاهم من فوائد الحوار.....
- التمييز العنصري سلوك مقبول
- حيّاة البرنس من وبر الجمال وصوف الغنم هو تراث مادي.....

التمرين الثاني : (4ن)

أصنّف حسب الجدول العبارات التالية :

- قول كلام لا يليق بالآخرين ويهين كرامتهم . / - الاعتداء على بيوت الناس عند غيابهم . / - سرقة ممتلكات الغير . /
- حرق و تدمير المنشآت . / - إتهام الناس بدون دليل . / ممارسة العنف واستعمال الأدوات القاتلة .
- شتم الأصدقاء ووصفهم بالكلمات القبيحة . / - عرقلة الناس بمختلف الوسائل .

العنف المادي	العنف اللفضي
.....
.....
.....
.....

التمرين الثالث : (2ن) استعمل الربط بين كلّ عبارتين متناسبتين

- التمييز العنصري حسب اللغة	- تفضيل المسلم على غيره ولو كان ظالماً .
- التمييز العنصري حسب الدين	- تفضيل العرب على غير العرب .
- التمييز العنصري حسب الجنس	- تفضيل أصحاب البشرة البيضاء على أصحاب البشرة السوداء .
- التمييز العنصري حسب اللون	- تفضيل الذكور على الاناث

الوضعية الإدماجية : (2ن)

- الخصام سلوك سيّء يعمل على هدم العلاقات الاجتماعية ونشر الفرقة والكراهية بين أفراد المجتمع الواحد .
- اكتب بضعة أسطر تبين فيها كيف تصلح بين اثنين من زملائك تخاصما ؟

.....

.....

.....

توقيع الولي

الملاحظة

اسم ولقب التلميذ العلامة :

الموقع الأول لتحضير الفروض والاختبارات في الجزائر

<https://www.dzexams.com>

https://www.dzexams.com/ar/0ap	القسم التحضيري
https://www.dzexams.com/ar/1ap	السنة الأولى ابتدائي
https://www.dzexams.com/ar/2ap	السنة الثانية ابتدائي
https://www.dzexams.com/ar/3ap	السنة الثالثة ابتدائي
https://www.dzexams.com/ar/4ap	السنة الرابعة ابتدائي
https://www.dzexams.com/ar/5ap	السنة الخامسة ابتدائي
https://www.dzexams.com/ar/bep	شهادة التعليم الابتدائي
https://www.dzexams.com/ar/1am	السنة الأولى متوسط
https://www.dzexams.com/ar/2am	السنة الثانية متوسط
https://www.dzexams.com/ar/3am	السنة الثالثة متوسط
https://www.dzexams.com/ar/4am	السنة الرابعة متوسط
https://www.dzexams.com/ar/bem	شهادة التعليم المتوسط
https://www.dzexams.com/ar/1as	السنة الأولى ثانوي
https://www.dzexams.com/ar/2as	السنة الثانية ثانوي
https://www.dzexams.com/ar/3as	السنة الثالثة ثانوي
https://www.dzexams.com/ar/bac	شهادة البكالوريا

اختبار الثلاثي الثاني في مادة التربية المدنية

التمرين الأول:

-عرف الحوار.

الحوار هو.....

-ما هي آدابه؟

آدابه: 1.

2.

3.

-للغف نوعان، اذكرها مع التمثيل.

الغف مثل و.....

الغف مثل و.....

التمرين الثاني: املأ الفراغ بـ"الحقد -المساواة- اللغة- العنصري- اللون- شخص- الكراهية".

التمييز..... هو تفضيل على آخر وعدم بينهم، ويكون على أساس..... أو الدين أو..... أو الجنس.

يؤدي التمييز العنصري إلى الغف وانتشار و.....

الموقع الأول لتحضير الفروض والاختبارات في الجزائر

<https://www.dzexams.com>

https://www.dzexams.com/ar/0ap	القسم التحضيري
https://www.dzexams.com/ar/1ap	السنة الأولى ابتدائي
https://www.dzexams.com/ar/2ap	السنة الثانية ابتدائي
https://www.dzexams.com/ar/3ap	السنة الثالثة ابتدائي
https://www.dzexams.com/ar/4ap	السنة الرابعة ابتدائي
https://www.dzexams.com/ar/5ap	السنة الخامسة ابتدائي
https://www.dzexams.com/ar/bep	شهادة التعليم الابتدائي
https://www.dzexams.com/ar/1am	السنة الأولى متوسط
https://www.dzexams.com/ar/2am	السنة الثانية متوسط
https://www.dzexams.com/ar/3am	السنة الثالثة متوسط
https://www.dzexams.com/ar/4am	السنة الرابعة متوسط
https://www.dzexams.com/ar/bem	شهادة التعليم المتوسط
https://www.dzexams.com/ar/1as	السنة الأولى ثانوي
https://www.dzexams.com/ar/2as	السنة الثانية ثانوي
https://www.dzexams.com/ar/3as	السنة الثالثة ثانوي
https://www.dzexams.com/ar/bac	شهادة البكالوريا