

النشاط 4

لَا حِظَّ الرِّزْنَامَةِ ، وَأَكْمِلِ الْفَرَاغَ بِمَا يُنَاسِبُ .

فيفري											
الثلاثاء			الأربعاء			الخميس			الجمعة		
			1	2	3	4					
5	6	7	8	9	10	11					
12	13	14	15	16	17	18					
19	20	21	22	23	24	25					
26	27	28									

- أَحِطْ كُلَّ يَوْمٍ الْخَمِيسَ مِنْ هَذَا الشَّهْرِ .
- أَكْتُبْ إِسْمَ هَذَا الشَّهْرِ : .....
- يُوَافِقُ 20 فِيْفْرِ يَوْمَ .....

النشاط 5

2 - اشْتَرَى أَحْمَدُ قِصَّةً بِهَا 39 صَفْحَةً ،  
قَرَأَ مِنْهَا 82 صَفْحَةً .

- مَا هُوَ عَدَدُ الصَّفَحَاتِ الَّتِي لَمْ يَقْرَأْهَا بَعْدُ ؟

الأجوبة	الحل	العمليات
.....	.....	.....
.....	.....	.....
.....	.....	.....

3 - طُولُ سَمِيرٍ 98 سَنْتِيْمِترًا ، وَطُولُ  
أَخِيهِ 82 سَنْتِيْمِترًا .

- أَحْسِبِ الْفَارِقَ بَيْنَ طُولَيْهِمَا ؟

الأجوبة	الحل	العمليات
.....	.....	.....
.....	.....	.....
.....	.....	.....

النشاط 1

أَكْتُبِ الْأَعْدَادَ بِالْحُرُوفِ وَبِالْأَرْقَامِ .

605 : .....

924 : .....

310 : .....

سَبْعُ مِئَةٍ وَوَاحِدٌ وَأَرْبَعُونَ :

سَبْعُ مِئَةٍ وَسِتَّةٌ عِشْرُونَ :

النشاط 2

قَارِنْ بِاسْتِعْمَالِ الرَّمْزَيْنِ : < ، >

$$200+40+4 \quad . \quad 421$$

$$661 \quad . \quad 600+1$$

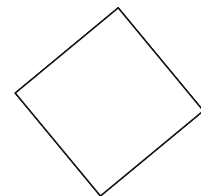
$$500+0+7 \quad . \quad 701$$

$$703 \quad . \quad 300+70$$

$$800+30+4 \quad . \quad 843$$

النشاط 3

أَلَا حِظَّ الشَّكْلِ ، وَ أَكْمِلِ الْفَرَاغَ .



عَدَدُ الْأَضْلَاعِ : .....

عَدَدُ الزُّوَايَا الْقَائِمَةِ : .....

عَدَدُ الزُّوُوسِ : .....

النشاط 4

لاحظ الرزنامة ، وأكمل الفراغ بما يناسب .

الجمعة				الخميس				الأربعاء				الثلاثاء				الاثنين			
				1	2	3	4												
5	6	7	8	9	10	11													
12	13	14	15	16	17	18													
19	20	21	22	23	24	25													
26	27	28																	

- أحط كل يوم الخميس من هذا الشهر .
- أكتب اسم هذا الشهر : .....
- يوافق 20 فيفري يوم .....

النشاط 5

- 2 - اشترى أحمد قصة بها 39 صفحة ، قرأ منها 82 صفحة .
- ما هو عدد الصفحات التي لم يقرأها بعد ؟

العمليات	الحل	الأجوبة
.....	.....	.....
.....	.....	.....
.....	.....	.....

- 3 - طول سمير 98 سنتيمترًا ، وطول أخيه 82 سنتيمترًا .
- أحسب الفارق بين طوليهما ؟

العمليات	الحل	الأجوبة
.....	.....	.....
.....	.....	.....
.....	.....	.....

النشاط 1

أكتب الأعداد بالحروف وبالأرقام .

605 : .....

924 : .....

310 : .....

سبع مئة وواحد وأربعون : .....

سبع مئة وستة عشر : .....

النشاط 2

قارن باستعمال الرمزين : < ، >

$$200+40+4 \quad . \quad 421$$

$$661 \quad . \quad 600+1$$

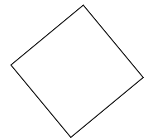
$$500+0+7 \quad . \quad 701$$

$$703 \quad . \quad 300+70$$

$$800+30+4 \quad . \quad 843$$

النشاط 3

ألاحظ الشكل ، وأكمل الفراغ .



عدد الأضلاع : .....

عدد الزوايا القائمة : .....

عدد الرؤوس : .....

النشاط 1

أكتب الأعداد بالحروف وبالأرقام .

605 : .....

924 : .....

310 : .....

سبع مئة وواحد وأربعون : .....

سبع مئة وستة عشر : .....

النشاط 2

قارن باستعمال الرمزين : < ، >

$$200+40+4 \quad . \quad 421$$

$$661 \quad . \quad 600+1$$

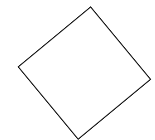
$$500+0+7 \quad . \quad 701$$

$$703 \quad . \quad 300+70$$

$$800+30+4 \quad . \quad 843$$

النشاط 3

ألاحظ الشكل ، وأكمل الفراغ .



عدد الأضلاع : .....

عدد الزوايا القائمة : .....

عدد الرؤوس : .....

النشاط 4

لاحظ الرزنامة ، وأكمل الفراغ بما يناسب .

الجمعة				الخميس				الأربعاء				الثلاثاء				الاثنين			
				1	2	3	4												
5	6	7	8	9	10	11													
12	13	14	15	16	17	18													
19	20	21	22	23	24	25													
26	27	28																	

- أحط كل يوم الخميس من هذا الشهر .
- أكتب اسم هذا الشهر : .....
- يوافق 20 فيفري يوم .....

النشاط 5

- 2 - اشترى أحمد قصة بها 39 صفحة ، قرأ منها 82 صفحة .
- ما هو عدد الصفحات التي لم يقرأها بعد ؟

العمليات	الحل	الأجوبة
.....	.....	.....
.....	.....	.....
.....	.....	.....

- 3 - طول سمير 98 سنتيمترًا ، وطول أخيه 82 سنتيمترًا .
- أحسب الفارق بين طوليهما ؟

العمليات	الحل	الأجوبة
.....	.....	.....
.....	.....	.....
.....	.....	.....