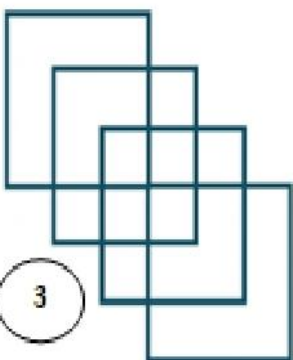


| المراحل | الوضعيات التعليمية والنشاط المقترح |
|---|---|
| قواعد اللعبة | <p>احترام الزمن المخصص للعبة .</p> <p>يتم بناء اللعبة بمراقبة الأستاذ .</p> <p>يتوجب على اللاعب التدقيق في الصورة و تحليلها .</p> |
| خطوات اللعبة | <p>تقديم بطاقة للمتعلمين</p> <p>لاحظ جيدا الأشكال .</p> <p>جد عدد المثلثات</p> <p>الموجودة في الشكلين .</p> <p>ترك وقت للتفكير في المطلوب منهم و انجازه</p> |
| التعليمة | <p>لاحظ الأشكال المعروضة و اكتشف عدد الأشكال الهندسية المطلوبة في كل مرة .</p> |
| التوسع في المفهوم | <p>يتم تكييف اللعبة بطرح نموذج مشابه أكثر صعوبة .</p> <p>لاحظ جيدا الأشكال .</p> <p>جد عدد المستطيلات</p> <p>الموجودة في الشكل.</p> <p>عرض الأعمال و المقارنة فيما بين المتعلمين .</p> <p>التصحيح الجماعي ثم الفردي .</p> |
| تطوير مجموعة واسعة من المهارات الذهنية و البصرية و الهندسية . |  <p>ابحث على عدد المستطيلات في هذا الشكل.</p> |



2



1

جد عدد المثلثات في كل من الشكلين 1 و 2

عدد المثلثات هو :



2



1

جد عدد المثلثات في كل من الشكلين 1 و 2

عدد المثلثات هو :



2



1

جد عدد المثلثات في كل من الشكلين 1 و 2

عدد المثلثات هو :




2



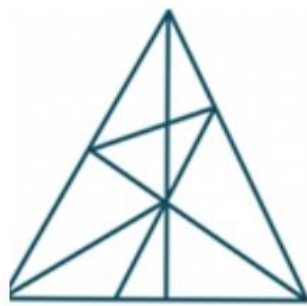
1

جد عدد المثلثات في كل من الشكلين 1 و 2

عدد المثلثات هو :



2



1

جد عدد المثلثات في كل من الشكلين 1 و 2

عدد المثلثات هو :



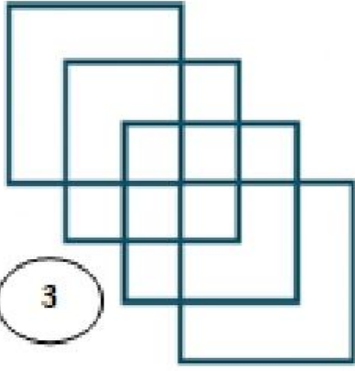
2



1

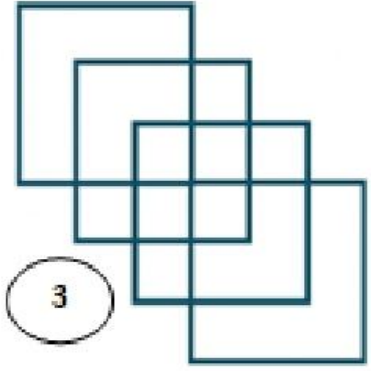
جد عدد المثلثات في كل من الشكلين 1 و 2

عدد المثلثات هو :



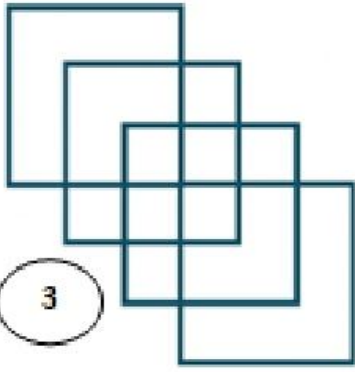
ابحث على عدد المستطيلات في هذا الشكل.

عدد المستطيلات هو :



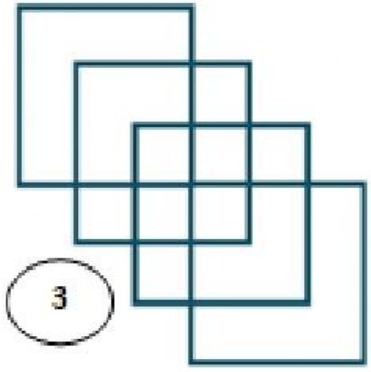
ابحث على عدد المستطيلات في هذا الشكل.

عدد المستطيلات هو :



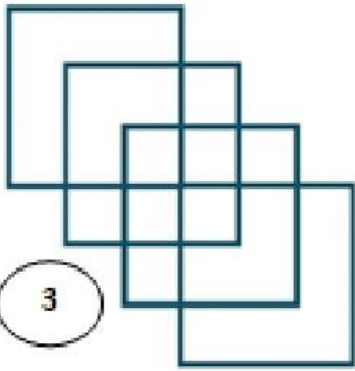
ابحث على عدد المستطيلات في هذا الشكل.

عدد المستطيلات هو :



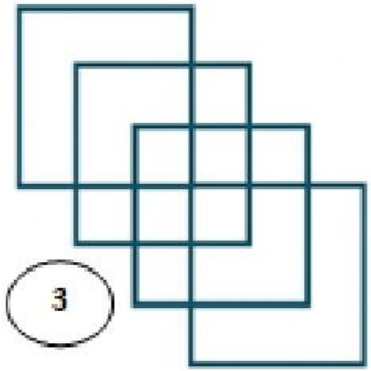
ابحث على عدد المستطيلات في هذا الشكل.

عدد المستطيلات هو :




ابحث على عدد المستطيلات في هذا الشكل.

عدد المستطيلات هو :



ابحث على عدد المستطيلات في هذا الشكل.

عدد المستطيلات هو :

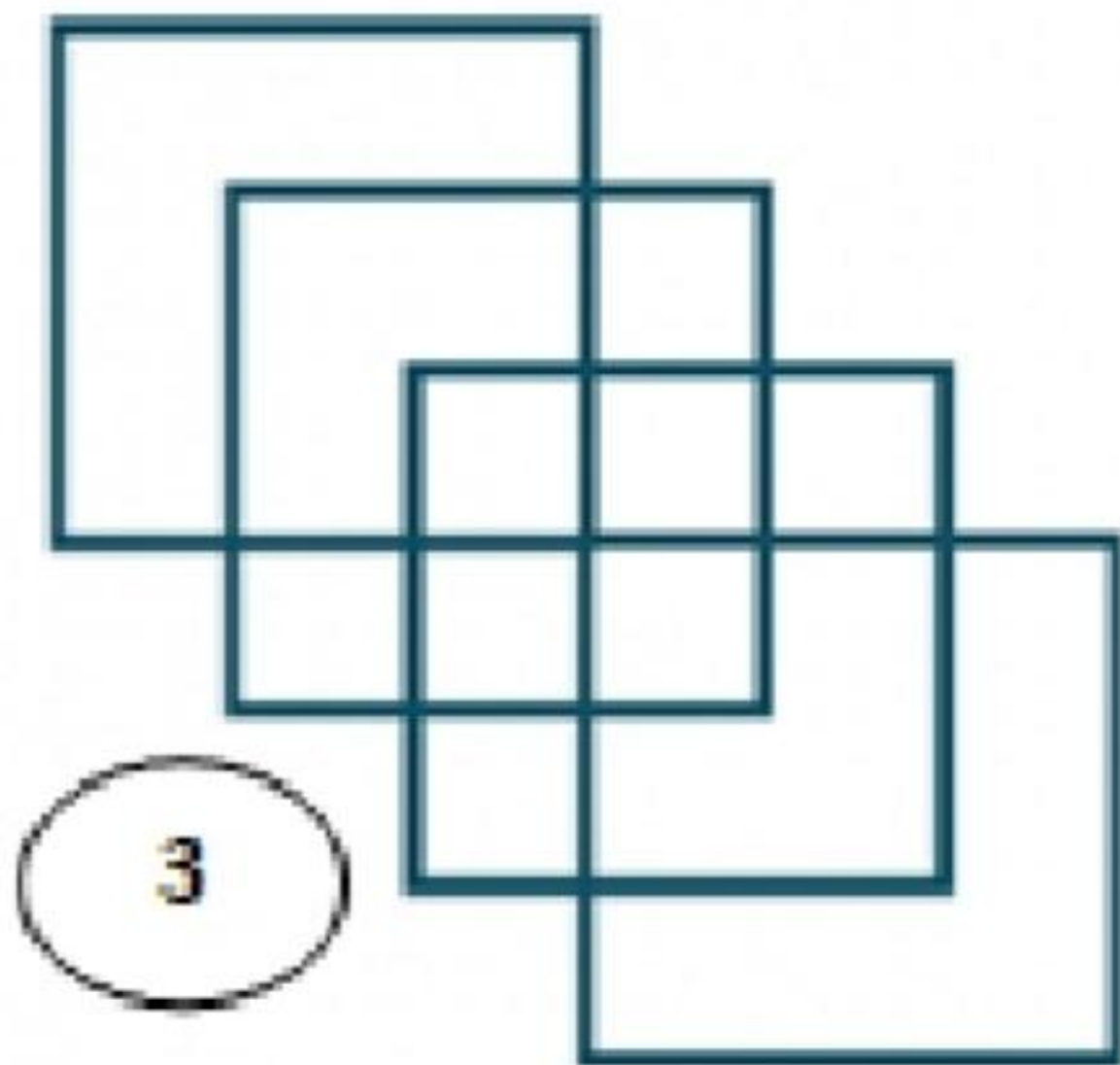


2



1

جد عدد المثلثات في كل من الشكلين 1 و 2



ابحث على عدد المستطيلات في هذا الشكل.

عدد المربعات في هذا الشكل



15

عدد المثلثات في كل من الشكلين



44



25

اللعبة
19