

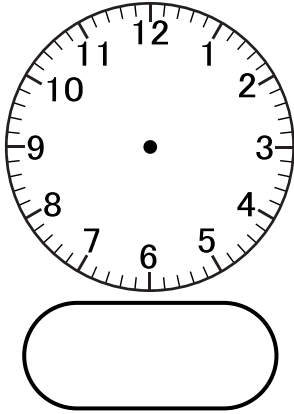
تقويم شهر جانفي في ميدان المقادير و القياس

1

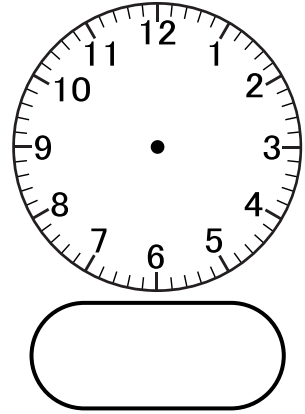
ذَهَبَ عِمَادٌ لِمُشَاهَدَةِ مُبَارَاةٍ فِي كُرَةِ الْقَدَمِ مِنَ الْمَلْعَبِ .
بَدَأَتِ الْمُبَارَاةُ عَلَى **السَّاعَةِ السَّادِسَةِ مَسَاءً** وَانْتَهَتْ عَلَى **السَّاعَةِ الثَّامِنَةِ** .

1. اُكْتُبْ سَاعَةَ بَدَايَةِ وَنِهَايَةِ الْمُبَارَاةِ وَارْسُمِ عَقْرَبِي السَّاعَةِ فِي كُلِّ حَالَةٍ .

نِهَايَةُ الْمُبَارَاةِ



بَدَايَةُ الْمُبَارَاةِ



قَبْلَ أَنْ يَدْخُلَ عِمَادٌ لِمُشَاهَدَةِ الْمُبَارَاةِ ، اشْتَرَى تَذْكَرَةً سِعْرِهَا **320 دج** .
2. أَخْطِ الْقِطْعَ النَّقْدِيَّةَ الَّتِي تُشَكِّلُ ثَمَنَ التَّذْكَرَةِ .



- عِنْدَمَا عَادَ عِمَادٌ لِلْمَنْزِلِ قَالَ لِأَبِيهِ أَنَّ طَوْلَ مَلْعَبِ كُرَةِ الْقَدَمِ **100 سنتمتر** .

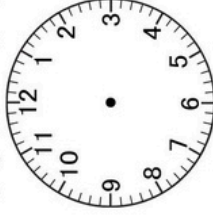
3. صَحِّحْ قَوْلَ عِمَادٍ : طَوْلَ مَلْعَبِ كُرَةِ الْقَدَمِ 100

تقويم شهر جانفي في ميدان المقادير و القياس

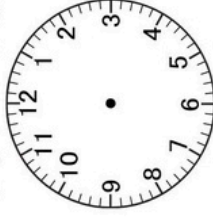
1

ذَهَبَ عِمَادٌ لِمُشَاهَدَةِ مُبَارَاةٍ فِي كُرَةِ الْقَدَمِ مِنَ الْمَلْعَبِ .
 بَدَأَتِ الْمُبَارَاةُ عَلَى السَّاعَةِ السَّادِسَةِ مَسَاءً وَانْتَهَتْ عَلَى السَّاعَةِ الثَّامِنَةِ .
 1. أَكْتُبْ سَاعَةَ بَدَايَةِ وَنِهَايَةِ الْمُبَارَاةِ وَارْزُمِ عَقْرَبِي السَّاعَةِ
 فِي كُلِّ حَالَةٍ .

بداية المباراة



نهاية المباراة



قَبْلَ أَنْ يَدْخُلَ عِمَادٌ لِمُشَاهَدَةِ الْمُبَارَاةِ ، اشْتَرَى تَذْكَرَةً بِعَظْمِهَا 320 دَج .
 2. أَخِطِ الْقِطْعَ النَّقْدِيَّةَ الَّتِي تُشَكِّلُ ثَمَنَ التَّذْكَرَةِ .



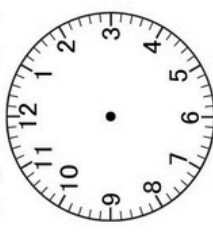
- عِنْدَمَا عَادَ عِمَادٌ لِلْمَنْزِلِ قَالَ لِأَبِيهِ أَنَّ طَوْلَ مَلْعَبِ كُرَةِ الْقَدَمِ 100 سَنِمْتَر .
 3. صَحِّحْ قَوْلَ عِمَادَ : طَوْلَ مَلْعَبِ كُرَةِ الْقَدَمِ 100 100

تقويم شهر جانفي في ميدان المقادير و القياس

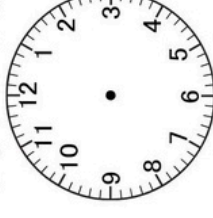
1

ذَهَبَ عِمَادٌ لِمُشَاهَدَةِ مُبَارَاةٍ فِي كُرَةِ الْقَدَمِ مِنَ الْمَلْعَبِ .
 بَدَأَتِ الْمُبَارَاةُ عَلَى السَّاعَةِ السَّادِسَةِ مَسَاءً وَانْتَهَتْ عَلَى السَّاعَةِ الثَّامِنَةِ .
 1. أَكْتُبْ سَاعَةَ بَدَايَةِ وَنِهَايَةِ الْمُبَارَاةِ وَارْزُمِ عَقْرَبِي السَّاعَةِ
 فِي كُلِّ حَالَةٍ .

بداية المباراة



نهاية المباراة



قَبْلَ أَنْ يَدْخُلَ عِمَادٌ لِمُشَاهَدَةِ الْمُبَارَاةِ ، اشْتَرَى تَذْكَرَةً بِعَظْمِهَا 320 دَج .
 2. أَخِطِ الْقِطْعَ النَّقْدِيَّةَ الَّتِي تُشَكِّلُ ثَمَنَ التَّذْكَرَةِ .



- عِنْدَمَا عَادَ عِمَادٌ لِلْمَنْزِلِ قَالَ لِأَبِيهِ أَنَّ طَوْلَ مَلْعَبِ كُرَةِ الْقَدَمِ 100 سَنِمْتَر .
 3. صَحِّحْ قَوْلَ عِمَادَ : طَوْلَ مَلْعَبِ كُرَةِ الْقَدَمِ 100 100