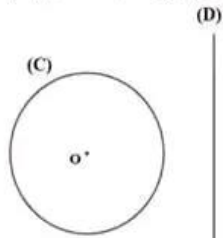
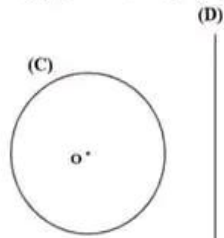


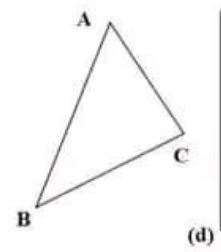
• انشئ الدائرة (C') نظيرة الدائرة (C) بالنسبة للمستقيم (D):



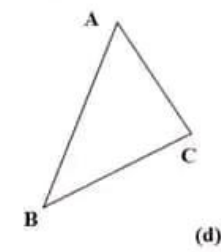
• انشئ الدائرة (C') نظيرة الدائرة (C) بالنسبة للمستقيم (D):



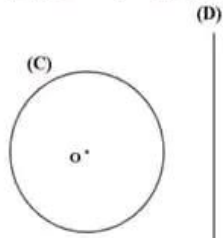
• انشئ المثلث A'B'C' نظير المثلث ABC بالنسبة للمستقيم (D):



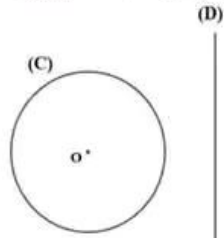
• انشئ المثلث A'B'C' نظير المثلث ABC بالنسبة للمستقيم (D):



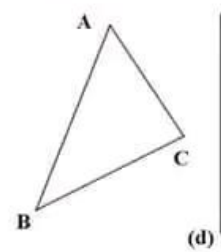
• انشئ الدائرة (C') نظيرة الدائرة (C) بالنسبة للمستقيم (D):



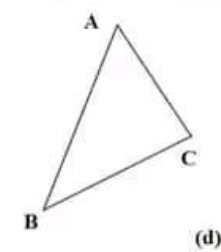
• انشئ الدائرة (C') نظيرة الدائرة (C) بالنسبة للمستقيم (D):



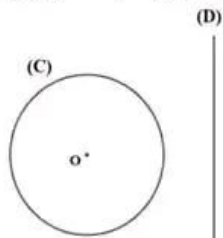
• انشئ المثلث A'B'C' نظير المثلث ABC بالنسبة للمستقيم (D):



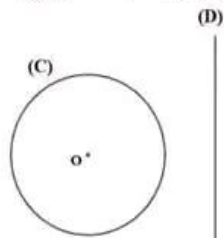
• انشئ المثلث A'B'C' نظير المثلث ABC بالنسبة للمستقيم (D):



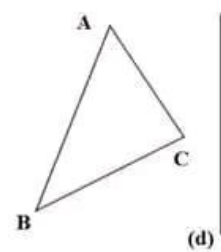
• انشئ الدائرة (C') نظيرة الدائرة (C) بالنسبة للمستقيم (D):



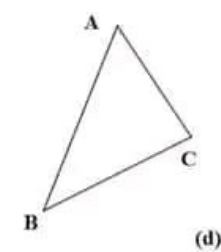
• انشئ الدائرة (C') نظيرة الدائرة (C) بالنسبة للمستقيم (D):



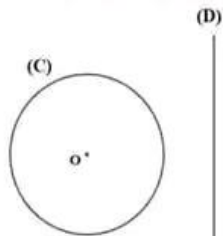
• انشئ المثلث A'B'C' نظير المثلث ABC بالنسبة للمستقيم (D):



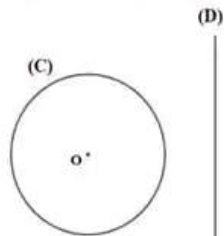
• انشئ المثلث A'B'C' نظير المثلث ABC بالنسبة للمستقيم (D):



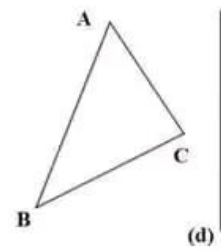
• انشئ الدائرة (C') نظيرة الدائرة (C) بالنسبة للمستقيم (D):



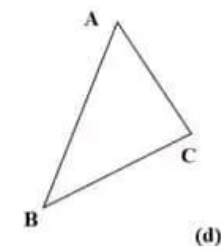
• انشئ الدائرة (C') نظيرة الدائرة (C) بالنسبة للمستقيم (D):

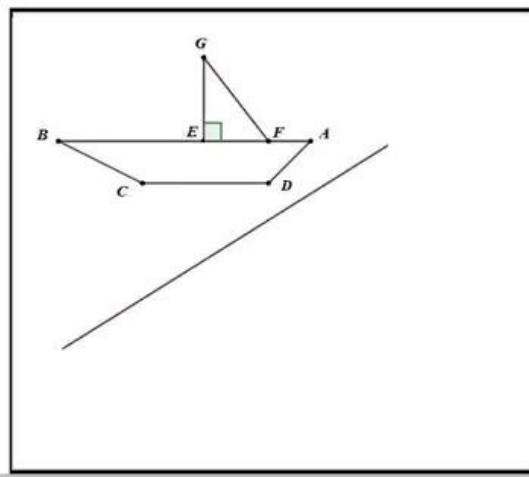
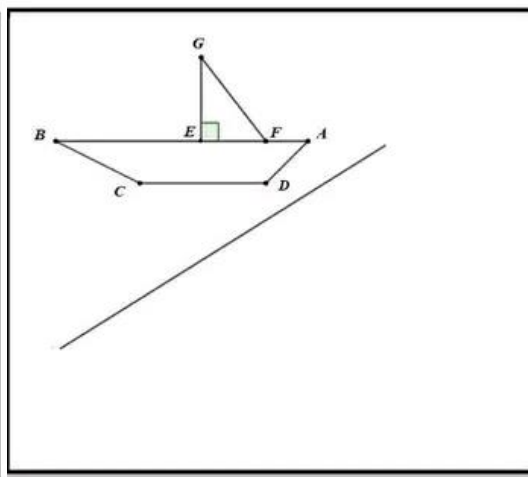
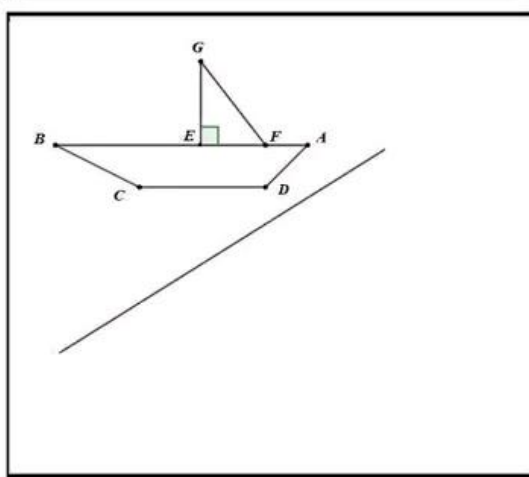
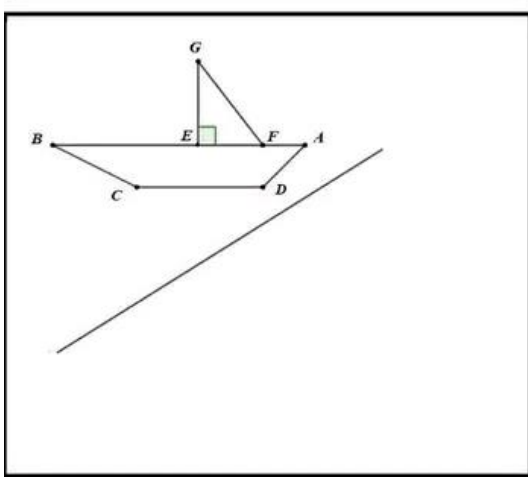
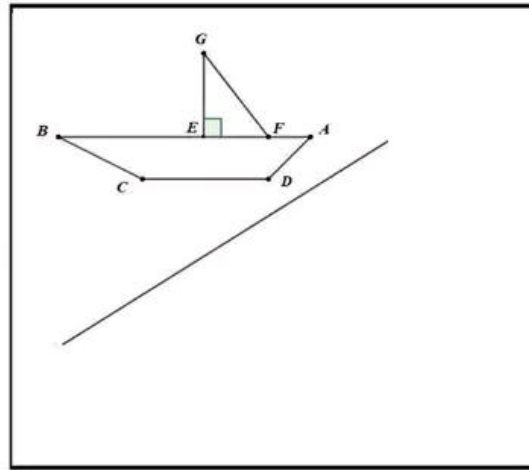
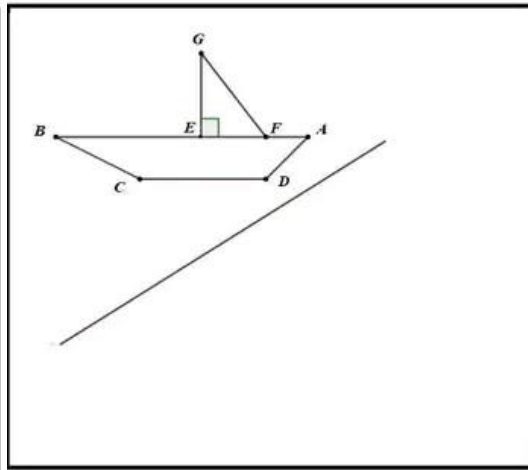
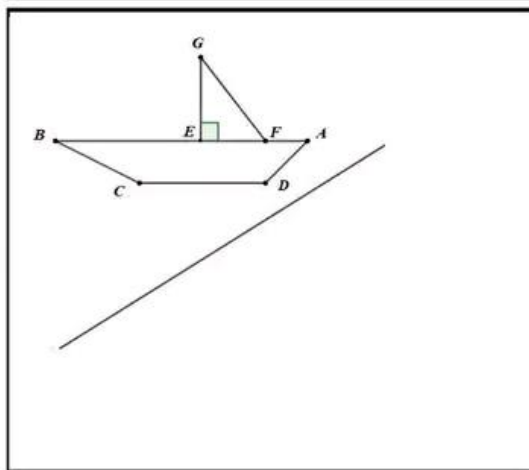
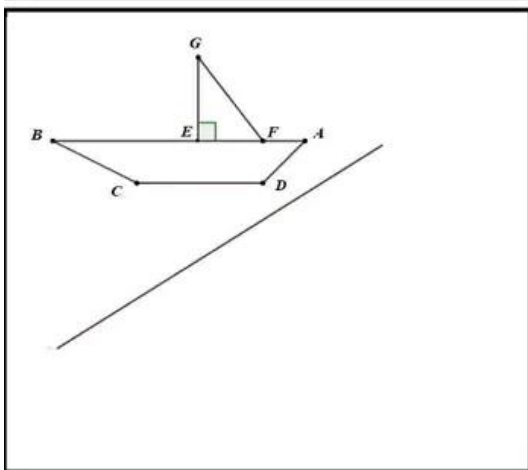
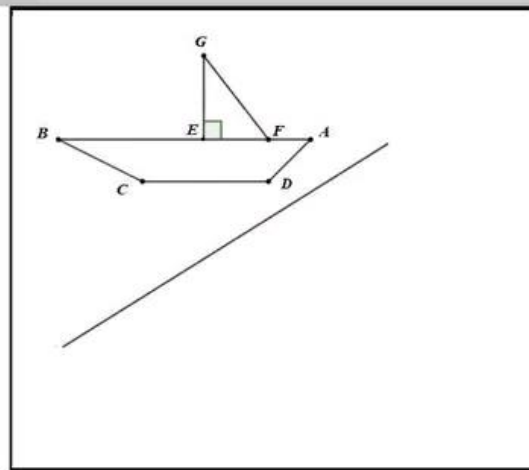
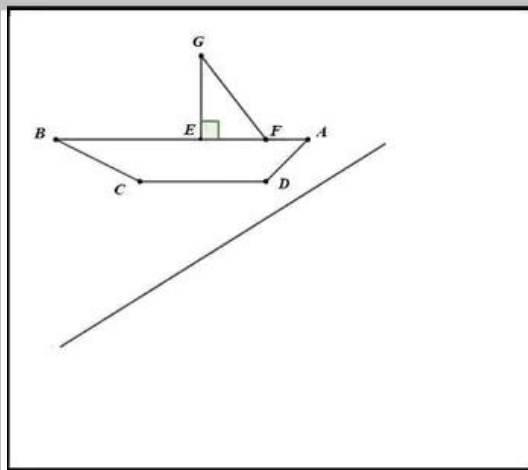
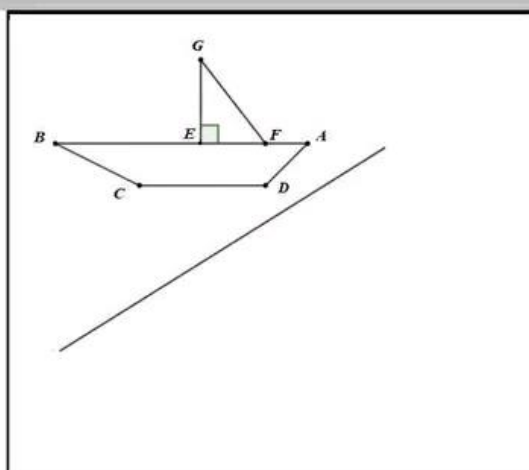
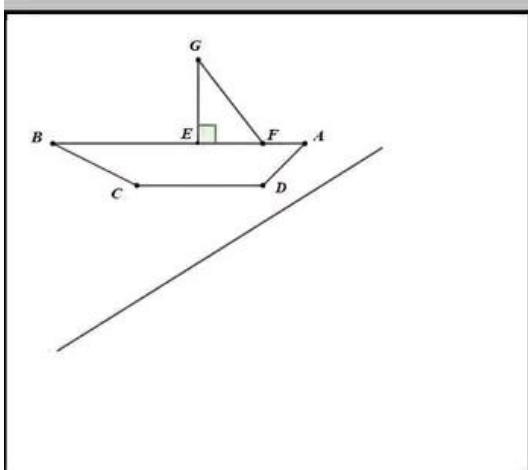


• انشئ المثلث A'B'C' نظير المثلث ABC بالنسبة للمستقيم (D):

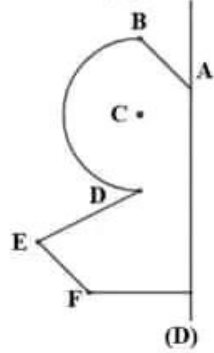


• انشئ المثلث A'B'C' نظير المثلث ABC بالنسبة للمستقيم (D):

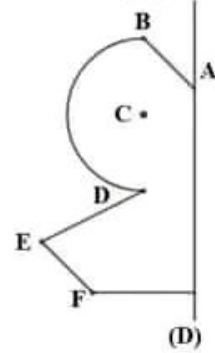




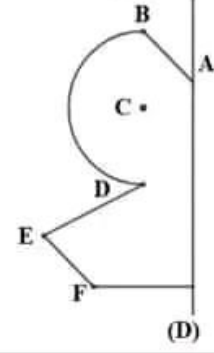
• انشى النقط A', B', C', D', E', F' نظائر النقط A, B, C, D, E, F على الترتيب بالنسبة للمستقيم (D) :



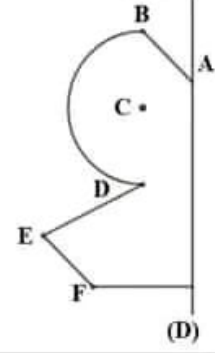
• انشىء النقط A', B', C', D', E' و F' نظائر النقط A, B, C, D, E, F على الترتيب بالنسبة للمستقيم (D) :



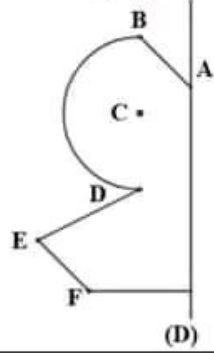
• انشئ النقط A^*, B^*, C^*, D^*, E^* و F نظائر النقط A, B, C, D, E و F على الترتيب بالنسبة للمستقيم (D) :



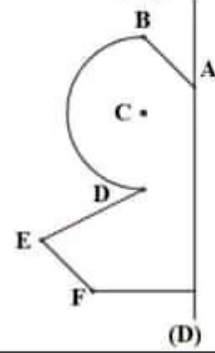
• انشئ النقط A', B', C', D', E' و F' نظائر النقط A, B, C, D, E, F على الترتيب بالنسبة للمستقيم (D) :



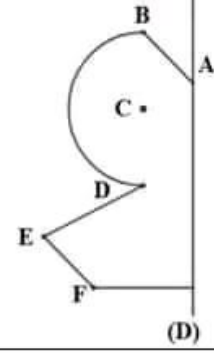
• انشىء النقط A', B', C', D', E' و F' نظائر النقط A, B, C, D, E و F على الترتيب بالنسبة للمستقيم (D) :



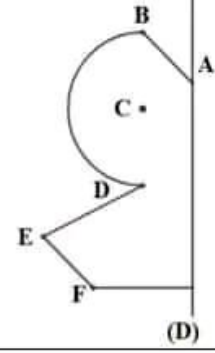
• انشى النقط A^*, B^*, C^*, D^*, E^* و F نظائر النقط A, B, C, D, E على الترتيب بالنسبة للمستقيم (D) :



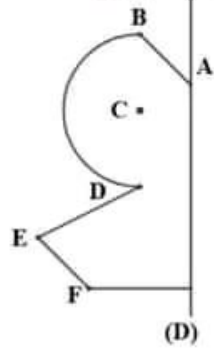
• انشى النقط $A^*, B^*, C^*, D^*, E^*, F^*$ نظائر النقط A, B, C, D, E, F على الترتيب بالنسبة للمستقيم (D):



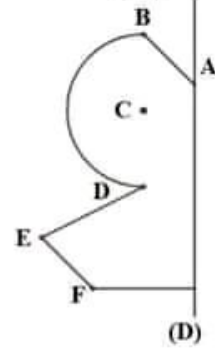
• انشى النقط A^*, B^*, C^*, D^*, E^* و F نظائر النقط A, B, C, D, E و F على الترتيب بالنسبة للمستقيم (D) :



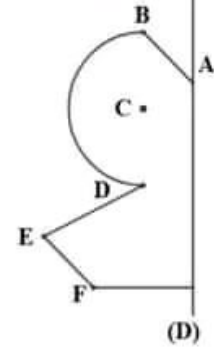
• انشئ النقط 'A'، 'B'، 'C'، 'D'، 'E' و 'F' نظائر النقط 'A'، 'B'، 'C'، 'D'، 'E' و 'F' على الترتيب بالنسبة للمستقيم (D):



• انشىء النقط A', B', C', D', E', F' نظائر النقط A, B, C, D, E, F على الترتيب بالنسبة للمستقيم (D) :



• انشئ النقط A', B', C', D', E', F' نظائر النقط A, B, C, D, E, F على الترتيب بالنسبة للمستقيم (D) :



• انشئ النقط A', B', C', D', E' و F' نظائر النقط A, B, C, D, E, F على الترتيب بالنسبة للمستقيم (D) :

