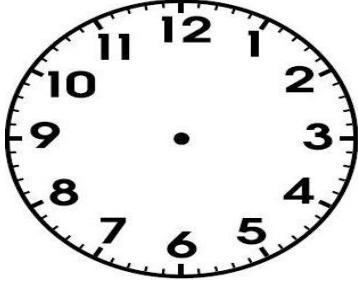
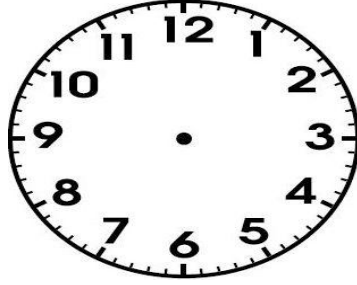


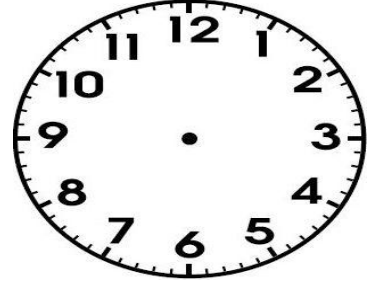
النشاط 1: اقرأ الوقت وارسم عقارب الساعة:



10 :00



05 :30



09 :00



النشاط 2: اكتب الوقت الذي تشير إليه الساعة.



:



:



:



:

النشاط 3: اكتب التوقيت في المساء:

09:30

10:00

08:15

05:30

04:00

صباحًا

:

:

:15

:

:

مساءً

+12