

1 أكتب التوقيت الذي تُشيرُ إليه السَّاعةُ في كُلِّ حالةٍ .

صَبَاحًا



مَسَاءً



صَبَاحًا



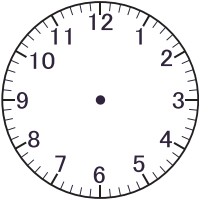
مَسَاءً

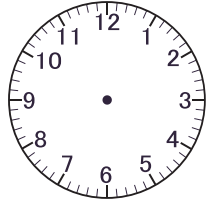



صَبَاحًا

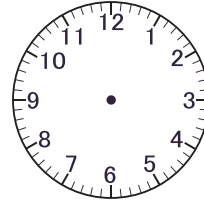



2 أرسم عقربي السَّاعةِ في كُلِّ حالةٍ .



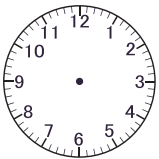








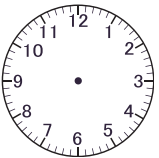
3 في نهائياتِ كأسِ العالمِ الَّتِي أُقيمتُ في قَطْر سَنَةِ 2022 لُعِبَتْ أَرْبَعُ مُبارياتٍ في يَوْمٍ واحدٍ .
- أرسمُ عقاربَ السَّاعةِ أو أكتبُ التَّوقيتَ الَّذِي تُشيرُ لَهُ السَّاعةُ حَسَبَ كُلِّ مُباراةٍ .



المُباراة الأولى



المُباراة الثَّانِيَّةُ



المُباراة الثَّالِثَةُ



المُباراة الرَّابِعَةُ

11: 00	المُباراة الأولى
..... :	المُباراة الثَّانِيَّةُ
17:00	المُباراة الثَّالِثَةُ
..... :	المُباراة الرَّابِعَةُ

1 اكتب التوقيت الذي تشير إليه الساعة في كل حالة .

صباحًا



مساءً



صباحًا



مساءً



صباحًا



2 اكتب عثري الساعة في كل حالة .











3 في نهايات كأس العالم التي أقيمت في قطر سنة 2022 لعبت أربع مباريات في يوم واحد .

- اكتب عقارب الساعة أو اكتب التوقيت الذي تشير له الساعة حسب كل مباراة .

المباراة الأولى



11:00	المباراة الأولى
-------	-----------------

المباراة الثانية



..... :	المباراة الثانية
---------------	------------------

المباراة الثالثة



17:00	المباراة الثالثة
-------	------------------

المباراة الرابعة



..... :	المباراة الرابعة
---------------	------------------

الأستاذ زين الدين

1 اكتب التوقيت الذي تشير إليه الساعة في كل حالة .

صباحًا



مساءً



صباحًا



مساءً



2 اكتب عثري الساعة في كل حالة .









3 في نهايات كأس العالم التي أقيمت في قطر سنة 2022 لعبت أربع مباريات في يوم واحد .

- اكتب عقارب الساعة أو اكتب التوقيت الذي تشير له الساعة حسب كل مباراة .

المباراة الأولى



11:00	المباراة الأولى
-------	-----------------

المباراة الثانية



..... :	المباراة الثانية
---------------	------------------

المباراة الثالثة



17:00	المباراة الثالثة
-------	------------------

المباراة الرابعة



..... :	المباراة الرابعة
---------------	------------------

الأستاذ زين الدين