

تقويم الفصل الثاني في مادة الرياضيات

اللقب :

الإسم :



التمرين الأول : أكمل الفراغات

رقم احاده 6 ، رقم عشراته 8 و رقم مئاته 2 هو العدد ←

رقم احاده 1 ، رقم عشراته 3 و رقم مئاته 9 هو العدد ←

730 ← رقم احاده ... ، رقم عشراته ... و رقم مئاته ...

462 ← رقم احاده ... ، رقم عشراته ... و رقم مئاته ...

التمرين الثاني : أحسب عموديا

$$65 + 12$$

$$32 + 8$$

$$26 + 45$$

+

+

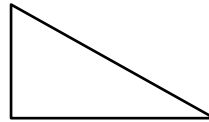



+

=

=

=

التمرين الثالث : ارسم باللون الأحمر في كل شكل من الأشكال التالية الزوايا القائمة



الوضعية الإدماجية :

ذهب كل من علاء و سامر الى معرض الكتاب

إشترى علاء 9 كتب و اشترى سامر 12 كتاباً

↪ أحسب إجمالي عدد الكتب ؟



الأجوبة

الحل

العمليات

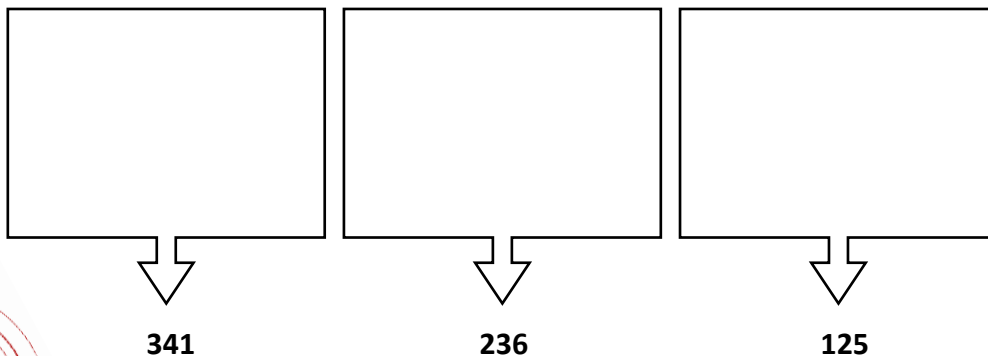
والله ولي التوفيق

تقويم الفصل الثاني في مادة الرياضيات

اللقب :

الإسم :

التمرين الأول : ارسم التمثيلات المناسبة لكل عدد التالية



341

236

125



التمرين الثاني : إملء الجدول التالي

38	64	25	12	العدد
.....	46	29	نصفه
.....	184	116	ضعفه

التمرين الثالث : أفكك مايلي

$$236 = + + \quad ; \quad 112 = + +$$

$$619 = + + \quad ; \quad 407 = + +$$

التمرين الرابع : حوط ثمن لعبة التنس بالأزرق و ثمن المقلاة بالوردي



310 دج

255 دج

الوضعية الإدماجية :

اشترت سلوى 32 حبة حلوى أعطت لصديقتها

سعاد 12 حبة من الحلوى

كم حبة حلوى بقيت لدى سلوى ؟



والله ولي التوفيق

الأجوبة

الحل

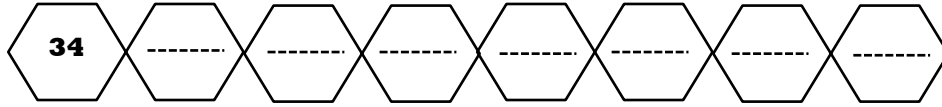
العمليات

تقويم الفصل الثاني في مادة الرياضيات

اللقب :

الإسم :

التمرين الأول : أكمل الشريط العددي



التمرين الثاني : أكمل حسب المثال

العدد	تمثيله	التفكيك	الكتابة بالحروف
245		$245 = 200 + 40 + 5$	مئتان وخمسة وأربعون
126			
334			

التمرين الثالث : قارن بين الأعداد التالية



159 . 365

125 . 251

635 . 236

857 . 654

923 . 258

741 . 789

التمرين الثاني : أحسب عموديا

$$51 - 4$$

$$32 - 16$$

$$45 - 22$$

-

=

-

=

-

=