
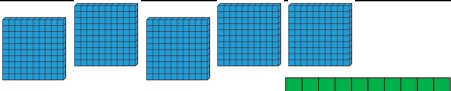


أكمل الفراغ بما يناسب .

العدد	كتابتته بالحروف	تمثيله	تفكيكه
165	$165=100+60+5$
297
.....	ثلاث مئة وواحد	
.....	$682=600+80+2$
919
.....	
.....	ثمان مئة وسبعون

أحط القطع النقدية التي تمثل ثمن كل لعبة .



526 ديناراً



180 ديناراً



570 ديناراً



لاحظ الجدول ، ثم أجيب

				الفواكه
950 ديناراً	579 ديناراً	320 ديناراً	764 ديناراً	أسعارها

* يسعر الأناناس هو



* يسعر الكرز هو

* يسعر الفراولة هو

* يسعر الكيوي هو

النشاط 1

أكمل الفراغ بما يناسب .

العدد	كتابتة بالحروف	تمثيله	تفكيكه
165	-----	-----	$165=100+60+5$
297	-----	-----	-----
-----	ثلاث مئة وواحد		-----
-----	-----	-----	$682=600+80+2$
919	-----	-----	-----
-----	-----		-----
-----	ثمان مئة وسبعون	-----	-----

النشاط 2

أحط القطع النقدية التي تمثل ثمن كل لعبة .



النشاط 3



لاحظ الجدول ، ثم أجب

الفواكه	الأسعارها
	950 دينار
	579 دينار
	320 دينار
	764 دينار

* يسعر الكرز هو
 * يسعر الأناناس هو
 * يسعر الكيوي هو
 * يسعر الفراولة هو

النشاط 1

أكمل الفراغ بما يناسب .

العدد	كتابتة بالحروف	تمثيله	تفكيكه
165	-----	-----	$165=100+60+5$
297	-----	-----	-----
-----	ثلاث مئة وواحد		-----
-----	-----	-----	$682=600+80+2$
919	-----	-----	-----
-----	-----		-----
-----	ثمان مئة وسبعون	-----	-----

النشاط 2

أحط القطع النقدية التي تمثل ثمن كل لعبة .



النشاط 3

لاحظ الجدول ، ثم أجب

الفواكه	الأسعارها
	950 دينار
	579 دينار
	320 دينار
	764 دينار

* يسعر الكرز هو
 * يسعر الأناناس هو
 * يسعر الكيوي هو
 * يسعر الفراولة هو