


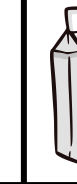


| محفظة | ممحاة | دفتر | قلم | كتاب | المنتجات   |
|-------|-------|------|-----|------|------------|
| 200   | 10    | 50   | 20  | 150  | السعر (دج) |

أجب عن الأسئلة التالية :

- ما هو سعر جميع المنتجات ؟
- إذا كان لديك 300 دينار جزائري ماذا يمكنك أن تشتري ؟
- ما الفرق بين سعر الكتاب و الدفتر ؟

تمرين 2: لاحظ الجدول ثم أجب عما يلي :

| الأغراض    |  |  |  |  |
|------------|-------------------------------------------------------------------------------------|-------------------------------------------------------------------------------------|-------------------------------------------------------------------------------------|-------------------------------------------------------------------------------------|
| السعر (دج) | 45                                                                                  | 100                                                                                 | 90                                                                                  | 150                                                                                 |

- ما هو سعر قارورة الماء ؟ 
- ما هو سعر قطعة الحلوى ؟ 
- ما هو سعر علبة الحليب ؟ 
- ما هو سعر الشوكولاتة ؟ 

• ما هو سعر جميع الأغراض ؟  $\square + \square + \square + \square = \square$



← ثمن جميع الأغراض هو .....

تمرين 3: لاحظ الجدول ثم أجب عما يلي :

| العدد الإجمالي | عدد الإناث | عدد الذكور | القسم   |
|----------------|------------|------------|---------|
| 25             | 10         | 15         | السنة 2 |
| 30             | 18         | 12         | السنة 4 |
| 25             | 15         | 20         | السنة 5 |

- ما هو عدد تلاميذ السنة الثانية ابتدائي ؟
- أي قسم يحتوي على أكبر عدد من الإناث ؟
- كم يزيد عدد الذكور عن عدد الإناث في قسم السنة الرابعة ابتدائي ؟
- رتب الأقسام حسب العدد الإجمالي من الأقل إلى الأكثر ؟

تمرين 3: إليك جدول فصول السنة.

| الفصول | عدد الأيام المشمسة  | عدد الأيام الممطرة  |
|--------|--------------------------------------------------------------------------------------------------------|--------------------------------------------------------------------------------------------------------|
| الشتاء | 60                                                                                                     | 30                                                                                                     |
| الخريف | 20                                                                                                     | 40                                                                                                     |
| الربيع | 10                                                                                                     | 50                                                                                                     |
| الصيف  | 5                                                                                                      | 70                                                                                                     |

- كم عدد الأيام المشمسة في فصل الصيف ؟
- أي فصل يحتوي على أكثر عدد من الأيام الممطرة ؟
- كم عدد الأيام الممطرة في فصلي الشتاء و الخريف ؟
- رتب الفصول حسب عدد الأيام المشمسة من الأكثر إلى الأقل ؟

إلى الأقل ؟






## تمرين 1: إليك الجدول الآتي :

| محفظة | ممحاة | دفتر | قلم | كتاب | المنتجات   |
|-------|-------|------|-----|------|------------|
| 200   | 10    | 50   | 20  | 150  | السعر (دج) |

أجب عن الأسئلة التالية :

- ما هو سعر جميع المنتجات ؟
- إذا كان لديك 300 دينار جزائري ماذا يمكنك أن تشتري ؟
- ما الفرق بين سعر الكتاب و الدفتر ؟

## تمرين 2: لاحظ الجدول ثم أجب عما يلي :

| الأغراض                                                                              | العدد | السعر (دج) |
|--------------------------------------------------------------------------------------|-------|------------|
|   | 45    | 45         |
|   | 100   | 100        |
|   | 90    | 90         |
|  | 150   | 150        |

$$\square + \square + \square + \square = \square$$

← ثمن جميع الأغراض هو .....

## تمرين 3: لاحظ الجدول ثم أجب عما يلي :

| القسم   | العدد | العدد الإجمالي |
|---------|-------|----------------|
| السنة 2 | 15    | 25             |
| السنة 4 | 12    | 30             |
| السنة 5 | 20    | 25             |

← ما هو عدد تلاميذ السنة الثانية ابتدائي ؟

## تمرين 3: إليك جدول فصول السنة.

| الفصول | عدد الأيام الممطرة | عدد الأيام المشمسة |
|--------|--------------------|--------------------|
| الشتاء | 30                 | 60                 |
| الخريف | 40                 | 20                 |
| الربيع | 50                 | 10                 |
| الصيف  | 70                 | 5                  |

- كم عدد الأيام المشمسة في فصل الصيف ؟
- أي فصل يحتوي على أكثر عدد من الأيام الممطرة ؟
- كم عدد الأيام الممطرة في فصلي الشتاء و الخريف ؟
- رتب الفصول حسب عدد الأيام المشمسة من الأكثر إلى الأقل ؟

## تمرين 1: إليك الجدول الآتي :

| محفظة | ممحاة | دفتر | قلم | كتاب | المنتجات   |
|-------|-------|------|-----|------|------------|
| 200   | 10    | 50   | 20  | 150  | السعر (دج) |

أجب عن الأسئلة التالية :

- ما هو سعر جميع المنتجات ؟
- إذا كان لديك 300 دينار جزائري ماذا يمكنك أن تشتري ؟
- ما الفرق بين سعر الكتاب و الدفتر ؟

## تمرين 2: لاحظ الجدول ثم أجب عما يلي :

| الأغراض                                                                            | العدد | السعر (دج) |
|------------------------------------------------------------------------------------|-------|------------|
|   | 45    | 45         |
|   | 100   | 100        |
|   | 90    | 90         |
|  | 150   | 150        |

$$\square + \square + \square + \square = \square$$

← ثمن جميع الأغراض هو .....

## تمرين 3: لاحظ الجدول ثم أجب عما يلي :

| القسم   | العدد | العدد الإجمالي |
|---------|-------|----------------|
| السنة 2 | 15    | 25             |
| السنة 4 | 12    | 30             |
| السنة 5 | 20    | 25             |

← ما هو عدد تلاميذ السنة الثانية ابتدائي ؟

## تمرين 3: إليك جدول فصول السنة.

| الفصول | عدد الأيام الممطرة | عدد الأيام المشمسة |
|--------|--------------------|--------------------|
| الشتاء | 30                 | 60                 |
| الخريف | 40                 | 20                 |
| الربيع | 50                 | 10                 |
| الصيف  | 70                 | 5                  |

- كم عدد الأيام المشمسة في فصل الصيف ؟
- أي فصل يحتوي على أكثر عدد من الأيام الممطرة ؟
- كم عدد الأيام الممطرة في فصلي الشتاء و الخريف ؟
- رتب الفصول حسب عدد الأيام المشمسة من الأكثر إلى الأقل ؟



