





الثمن (دج)	المشتريات
10	
30	
10	
25	
5	

اقرأ الجدول ثم
أكمل الحساب:

 محمد


 + + =


  ثمن مشتريات محمد هو:



 هند

 + =




 خولة


 + + =



 

الثمن (دج)	المشتريات
10	
30	
10	
25	
5	

اقرأ الجدول ثم
أكمل الحساب:

 محمد


 + + =


  ثمن مشتريات محمد هو:



 هند

 + =




 خولة


 + + =



 

الثمن (دج)	المشتريات
10	
30	
10	
25	
5	

اقرأ الجدول ثم
أكمل الحساب:

 محمد


 + + =


  ثمن مشتريات محمد هو:



 هند

 + =




 خولة


 + + =



 

الثمن (دج)	المشتريات
10	
30	
10	
25	
5	

اقرأ الجدول ثم
أكمل الحساب:

 محمد


 + + =


  ثمن مشتريات محمد هو:



 هند

 + =



 خولة

 + + =

اقْرَأِ الْجَدْوَلَ ثُمَّ اكْمِلْ مَلءَ الْبِطَاقَاتِ

الْأَشْيَاءُ	الثَّمَنُ (دج)
الْفُلْفُلُ	170
البَطِيخُ	75
الجَزْرُ	40
البطاطا	100
الخسُّ	120




اقْرَأِ الْجَدْوَلَ ثُمَّ اكْمِلْ مَلءَ الْبِطَاقَاتِ

الْأَشْيَاءُ	الثَّمَنُ (دج)
الْفُلْفُلُ	170
البَطِيخُ	75
الجَزْرُ	40
البطاطا	100
الخسُّ	120




اقْرَأِ الْجَدْوَلَ ثُمَّ اكْمِلْ مَلءَ الْبِطَاقَاتِ

الْأَشْيَاءُ	الثَّمَنُ (دج)
الْفُلْفُلُ	170
البَطِيخُ	75
الجَزْرُ	40
البطاطا	100
الخسُّ	120



اقْرَأِ الْجَدْوَلَ ثُمَّ اكْمِلْ مَلءَ الْبِطَاقَاتِ

الْأَشْيَاءُ	الثَّمَنُ (دج)
الْفُلْفُلُ	170
البَطِيخُ	75
الجَزْرُ	40
البطاطا	100
الخسُّ	120



أقرأ الجدول ثم أجيب:

الأغراض	الثمن (دج)
	100
	150
	110
	550

- ثمن البرغر.....
- ثمن فخذ الدجاج.....
- ثمن قطعة الحلوى.....
- ثمن علبة الطماطم.....

الأغراض	الثمن (دج)
	100
	150
	110
	550

- ثمن البرغر.....
- ثمن فخذ الدجاج.....
- ثمن قطعة الحلوى.....
- ثمن علبة الطماطم.....

أقرأ الجدول ثم أجيب:

الأغراض	الثمن (دج)
	100
	150
	110
	550

- ثمن البرغر.....
- ثمن فخذ الدجاج.....
- ثمن قطعة الحلوى.....
- ثمن علبة الطماطم.....

أقرأ الجدول ثم أجيب:

الأغراض	الثمن (دج)
	100
	150
	110
	550

- ثمن البرغر.....
- ثمن فخذ الدجاج.....
- ثمن قطعة الحلوى.....
- ثمن علبة الطماطم.....



$$\square + \square + \square = \square$$



..... ثَمَنُ مُشْتَرِيَاتِ مُحَمَّدٍ هُوَ:



$$\square + \square = \square$$




$$\square + \square + \square = \square$$

التَّمَنُّ (دج)

المُشْتَرِيَاتُ

10



30



10



25



5



الثَّمَنُ (دج)

الأغراضُ

100



150



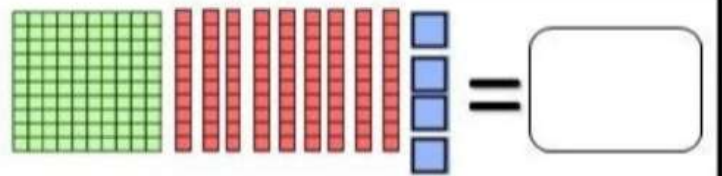
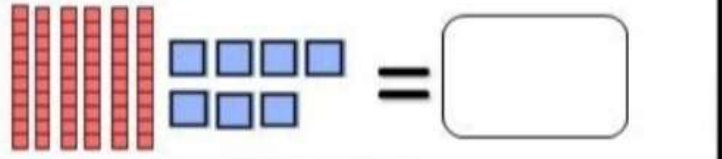
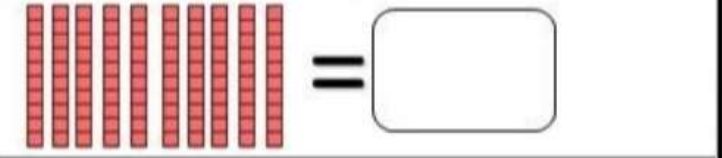
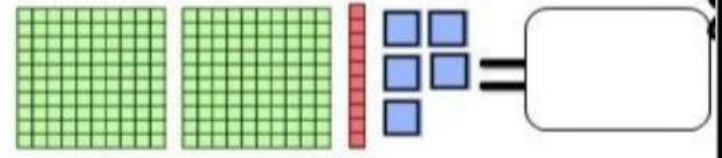

110



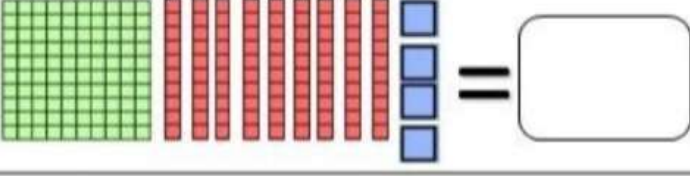
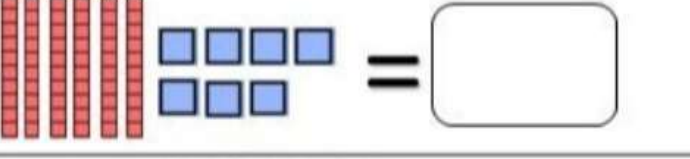
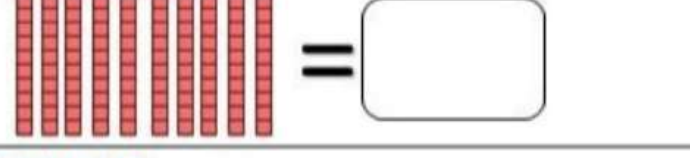
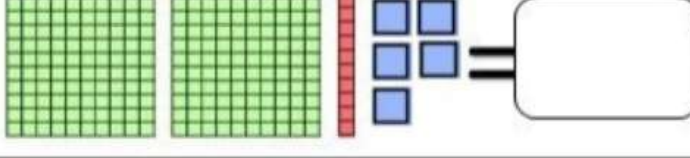

550



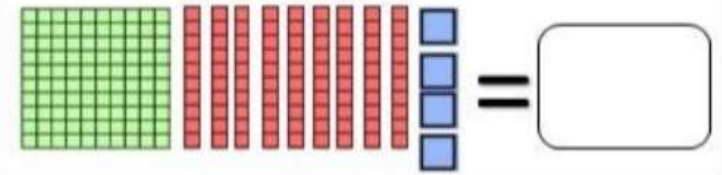
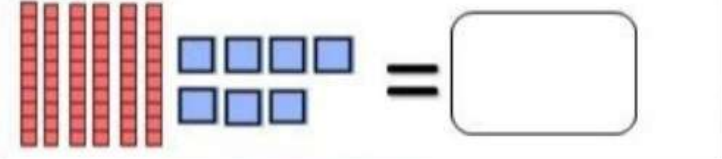
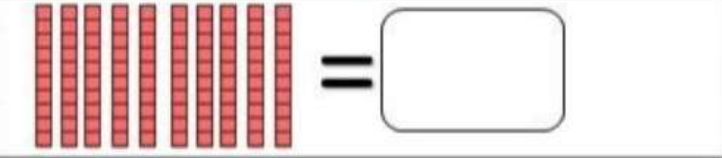
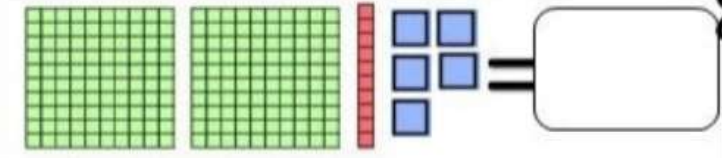

أكتبُ العَدَدَ الَّذِي يُنَاسِبُ كُلَّ تَمَثِيلٍ:



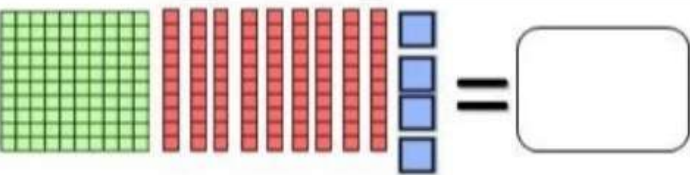
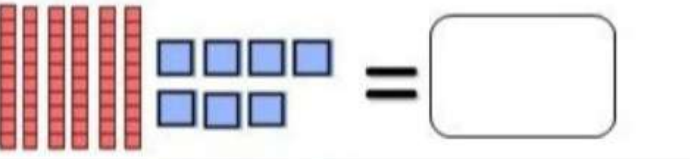
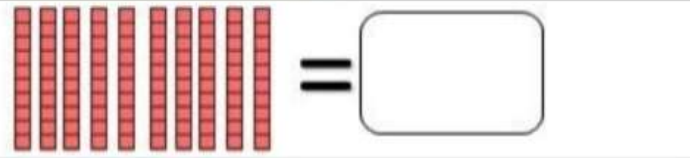
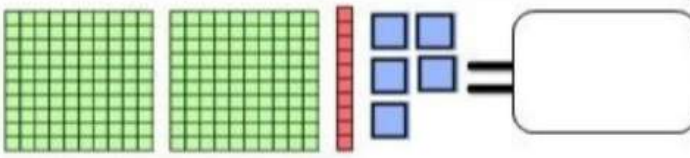

أكتبُ العَدَدَ الَّذِي يُنَاسِبُ كُلَّ تَمَثِيلٍ:



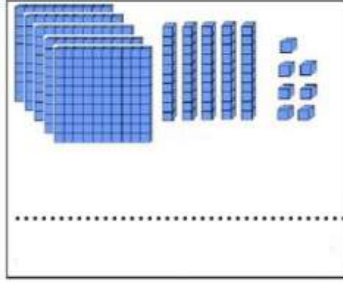
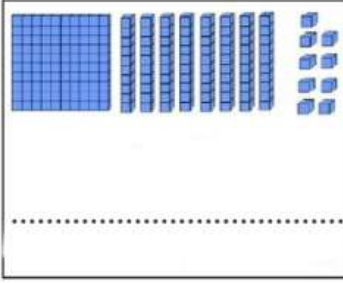
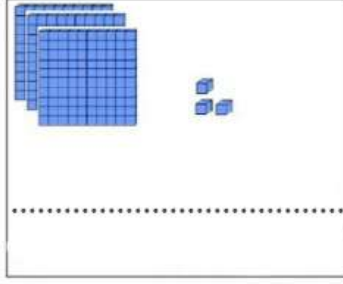
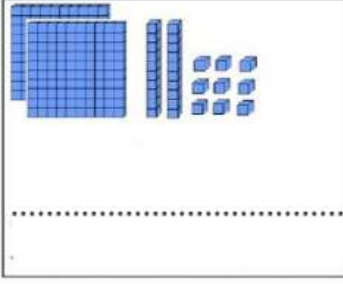
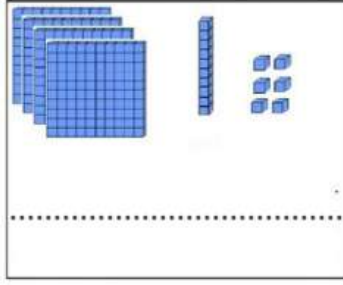
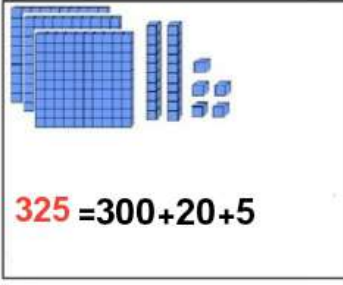
أكتبُ العَدَدَ الَّذِي يُنَاسِبُ كُلَّ تَمَثِيلٍ:



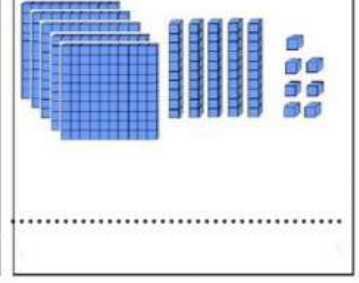
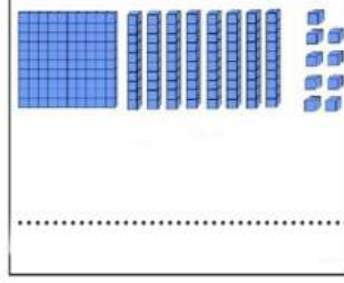
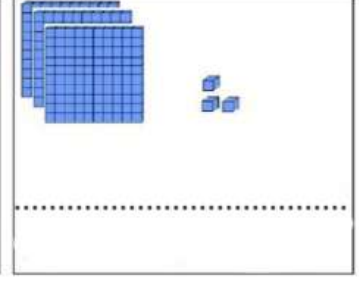
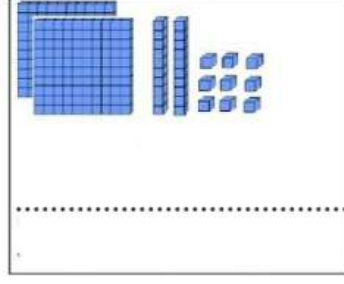
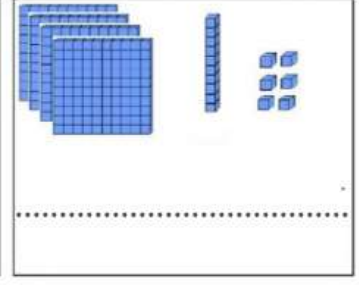
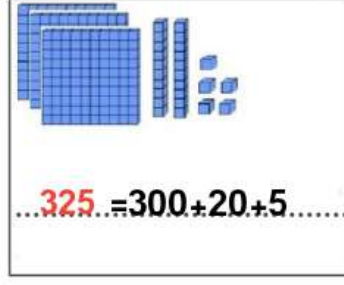
أكتبُ العَدَدَ الَّذِي يُنَاسِبُ كُلَّ تَمَثِيلٍ:



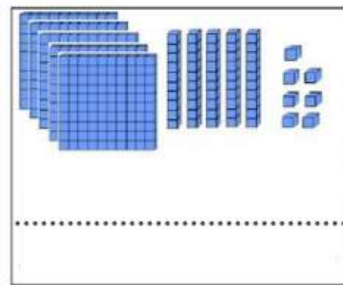
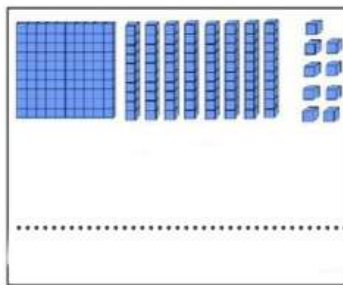
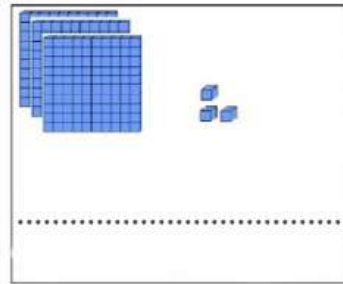
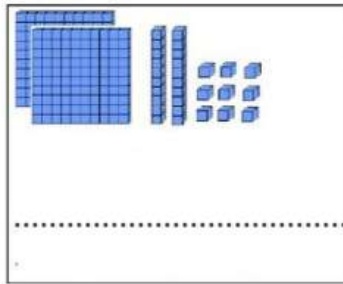
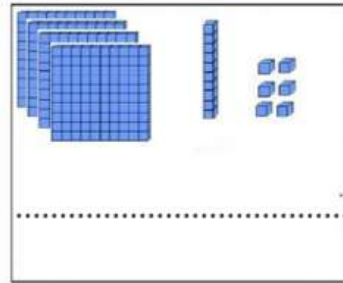
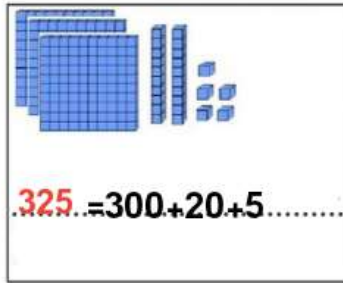
أكتب العدد الذي يناسب كل تمثيل:



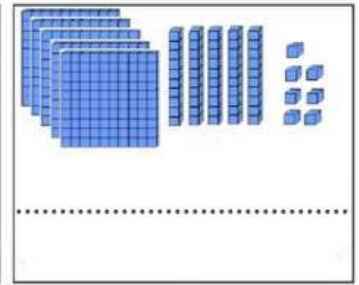
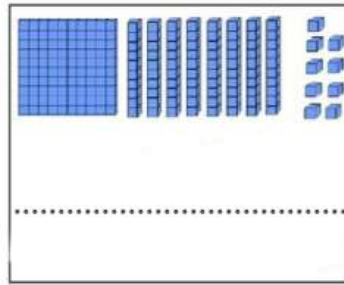
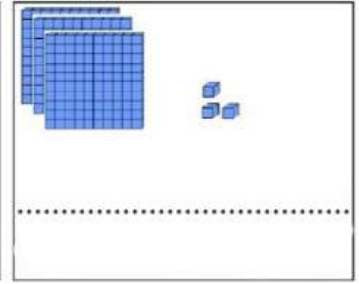
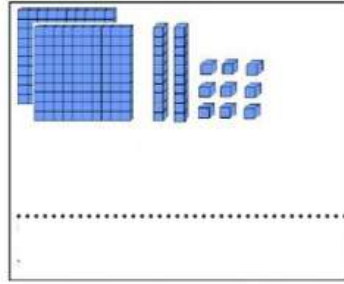
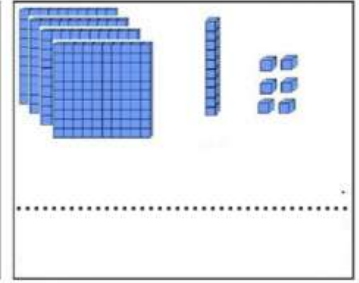
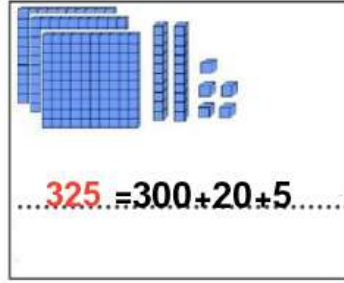
أكتب العدد الذي يناسب كل تمثيل:



أكتب العدد الذي يناسب كل تمثيل:



أكتب العدد الذي يناسب كل تمثيل:



أرْبِطُ العَدَدَ بِتَفْكِيقِهِ:

$400 + 50 + 3 = 847$

847

$600 + 80 + 1 = 795$

795

$800 + 40 + 7 = 376$

376

$200 + 60 + 4 = 453$

453

$500 + 10 + 2 = 129$

129

$700 + 90 + 5 = 512$

512

$100 + 20 + 9 = 681$

681

$300 + 70 + 6 = 938$

938

$900 + 30 + 8 = 264$

264

أرْبِطُ العَدَدَ بِتَفْكِيقِهِ:

$400 + 50 + 3 = 847$

847

$600 + 80 + 1 = 795$

795

$800 + 40 + 7 = 376$

376

$200 + 60 + 4 = 453$

453

$500 + 10 + 2 = 129$

129

$700 + 90 + 5 = 512$

512

$100 + 20 + 9 = 681$

681

$300 + 70 + 6 = 938$

938

$900 + 30 + 8 = 264$

264

أرْبِطُ العَدَدَ بِتَفْكِيقِهِ:

$400 + 50 + 3 = 847$

847

$600 + 80 + 1 = 795$

795

$800 + 40 + 7 = 376$

376

$200 + 60 + 4 = 453$

453

$500 + 10 + 2 = 129$

129

$700 + 90 + 5 = 512$

512

$100 + 20 + 9 = 681$

681

$300 + 70 + 6 = 938$

938

$900 + 30 + 8 = 264$

264

أرْبِطُ العَدَدَ بِتَفْكِيقِهِ:

$400 + 50 + 3 = 847$

847

$600 + 80 + 1 = 795$

795

$800 + 40 + 7 = 376$

376

$200 + 60 + 4 = 453$

453

$500 + 10 + 2 = 129$

129

$700 + 90 + 5 = 512$

512

$100 + 20 + 9 = 681$

681









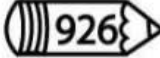


$300 + 70 + 6 = 938$

938

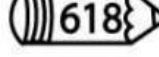
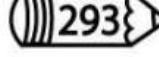

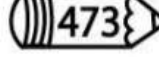




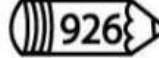


$900 + 30 + 8 = 264$

264






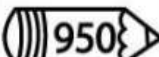
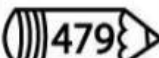
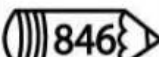

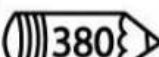

أفكك الأعداد كما في المثال:

 618	600	+	10	+	8
 293		○		○	
 892		○		○	
 473		○		○	
 666		○		○	
 950		○		○	
 479		○		○	
 846		○		○	
 926		○		○	
 380		○		○	
 699		○		○	


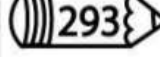

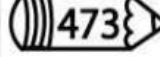







أفكك الأعداد كما في المثال:

 618	600	+	10	+	8
 293		○		○	
 892		○		○	
 473		○		○	
 666		○		○	
 950		○		○	
 479		○		○	
 846		○		○	
 926		○		○	
 380		○		○	
 699		○		○	

أفكك الأعداد كما في المثال:

 618	600	+	10	+	8
 293		○		○	
 892		○		○	
 473		○		○	
 666		○		○	
 950		○		○	
 479		○		○	
 846		○		○	
 926		○		○	
 380		○		○	
 699		○		○	

أفكك الأعداد كما في المثال:

 618	600	+	10	+	8
 293		○		○	
 892		○		○	
 473		○		○	
 666		○		○	
 950		○		○	
 479		○		○	
 846		○		○	
 926		○		○	
 380		○		○	
 699		○		○	

أفككُ الأعداد كما في المثال:

$$423 = 400 + 20 + 3$$

$$568 = \dots + \dots + \dots$$

$$379 = \dots + \dots + \dots$$

$$495 = \dots + \dots + \dots$$

$$374 = \dots + \dots + \dots$$

$$592 = \dots + \dots + \dots$$

$$671 = \dots + \dots + \dots$$

أفككُ الأعداد كما في المثال:

$$423 = 400 + 20 + 3$$

$$568 = \dots + \dots + \dots$$

$$379 = \dots + \dots + \dots$$

$$495 = \dots + \dots + \dots$$

$$374 = \dots + \dots + \dots$$

$$592 = \dots + \dots + \dots$$

$$671 = \dots + \dots + \dots$$

أفككُ الأعداد كما في المثال:

$$423 = 400 + 20 + 3$$

$$568 = \dots + \dots + \dots$$

$$379 = \dots + \dots + \dots$$

$$495 = \dots + \dots + \dots$$

$$374 = \dots + \dots + \dots$$

$$592 = \dots + \dots + \dots$$

$$671 = \dots + \dots + \dots$$

أفككُ الأعداد كما في المثال:

$$423 = 400 + 20 + 3$$

$$568 = \dots + \dots + \dots$$

$$379 = \dots + \dots + \dots$$


$$495 = \dots + \dots + \dots$$

$$374 = \dots + \dots + \dots$$

$$592 = \dots + \dots + \dots$$

$$671 = \dots + \dots + \dots$$


اَكْتُبْ عَدَدَ الدَّنَائِيرِ:



اَكْتُبْ عَدَدَ الدَّنَائِيرِ:



اَكْتُبْ عَدَدَ الدَّنَائِيرِ:



اَعُدُّ الدَّنَائِيرَ ثُمَّ اَكْتُبْ ثَمَنَ الْأَشْيَاءِ:



اكتب عدد الدرايم:



اكتب عدد الدرايم:



اكتب عدد الدرايم:



اكتب عدد الدرايم:



أَحْسِبُ الْمَبْلَغَ وَأَكْتُبُهُ:



$$300+20+5 = 350$$

دينار جزائري



دينار جزائري



دينار جزائري



$$300+20+5 = 350$$

دينار جزائري



دينار جزائري



دينار جزائري

أَحْسِبُ الْمَبْلَغَ وَأَكْتُبُهُ:



دينار جزائري



دينار جزائري



دينار جزائري



دينار جزائري



دينار جزائري



دينار جزائري

أَحْسِبُ الْمَبْلَغَ وَأَكْتُبُهُ:



$$300+20+5 = 350$$

دينار جزائري



دينار جزائري



دينار جزائري



$$300+20+5 = 350$$

دينار جزائري



دينار جزائري



دينار جزائري

أَحْسِبُ الْمَبْلَغَ وَأَكْتُبُهُ:



دينار جزائري



دينار جزائري



دينار جزائري



دينار جزائري



دينار جزائري



دينار جزائري