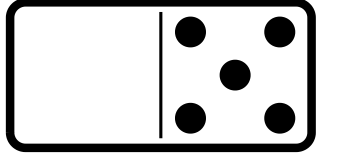
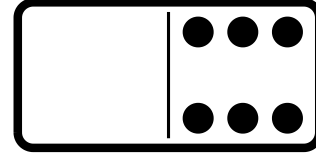
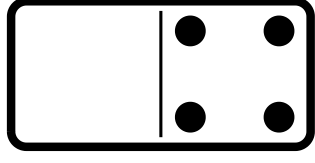
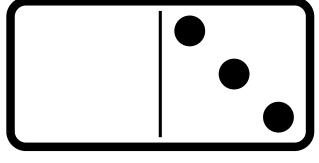


# ضعف العدد و نصف العدد

أكمل رسم الدومينو ثم جد الضعف .



ضعف 5 هو ..... ضعف 6 هو ..... ضعف 4 هو ..... ضعف 3 هو .....

أحسب ضعف العدد .

$$15 + 15 = \dots\dots\dots$$

$$10 + 10 = \dots\dots\dots$$

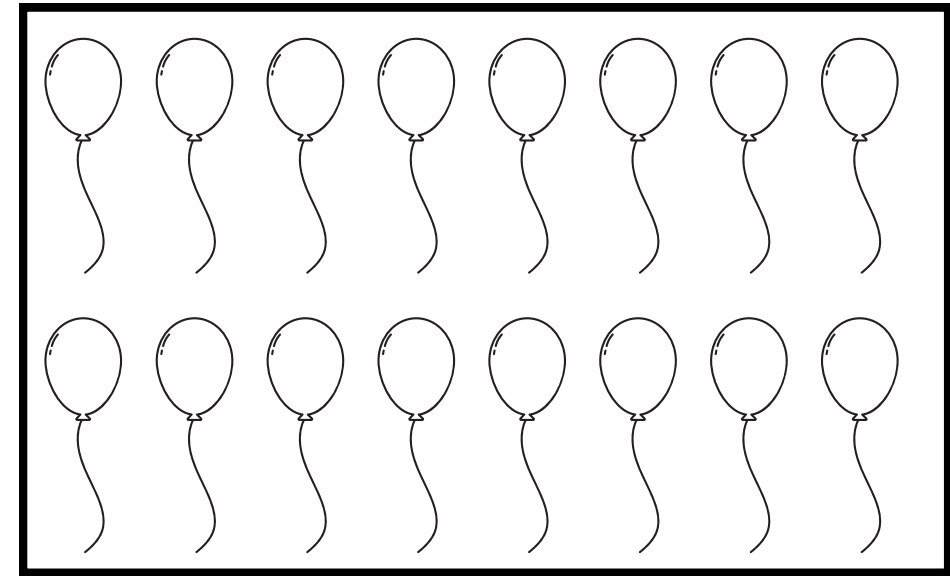
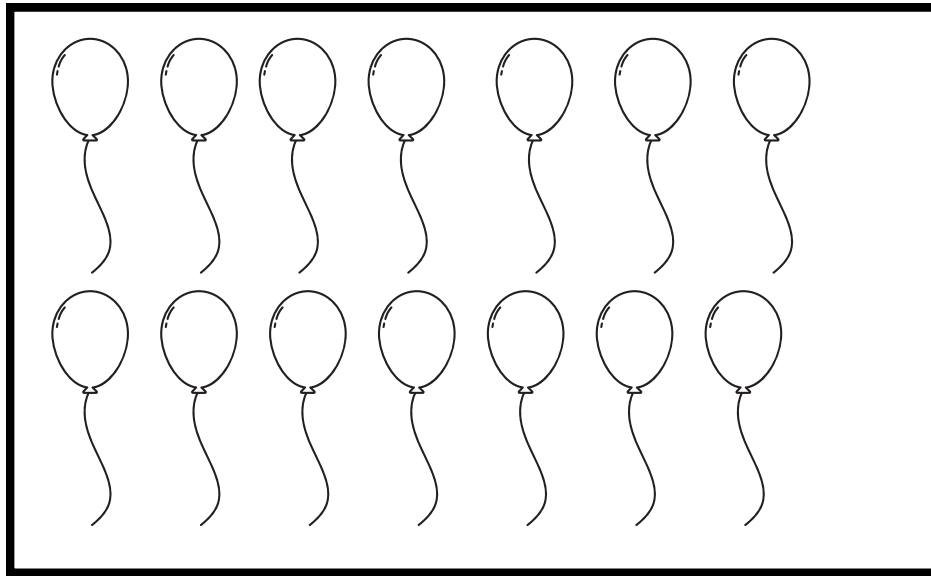
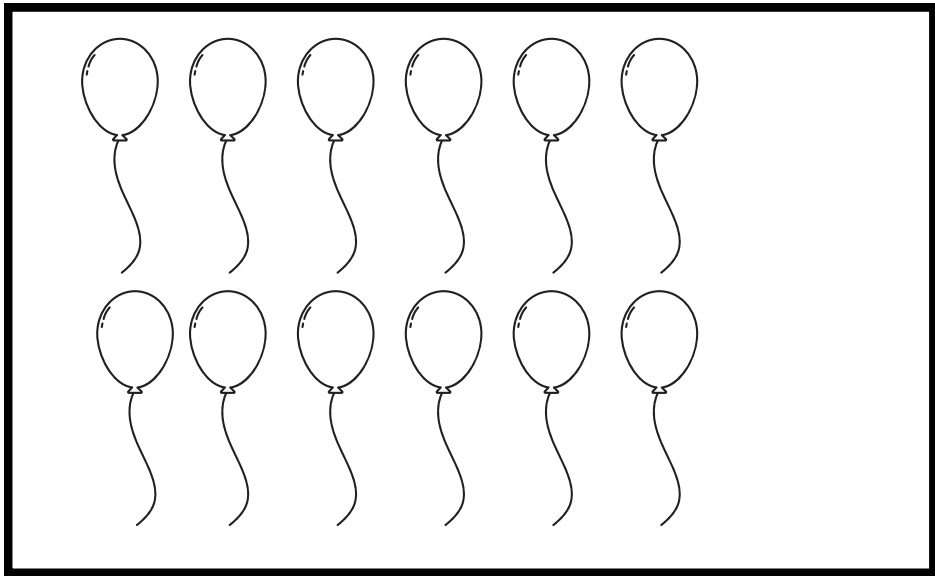
$$25 + 25 = \dots\dots\dots$$

ضعف 15 هو .....

ضعف 10 هو .....

ضعف 25 هو .....

لوّن نصف البالونات بالأحمر و النصف الآخر بالأخضر ثم أكمل الفراغ






نصف 12 هو .....

نصف 14 هو .....

نصف 16 هو .....

أوجد نصف كل عدد



$$40 = \dots\dots + \dots\dots$$

$$60 = \dots\dots + \dots\dots$$

$$100 = \dots\dots + \dots\dots$$

نصف 40 هو .....

نصف 60 هو .....

نصف 100 هو .....

أكمل الجدول .

$$18 + 18 = 36$$

$$16 + 16 = 32$$

$$22 + 22 = 44$$

العدد	18	8	16	22
نصفه				
ضعفه				

الأستاذ زين الدين