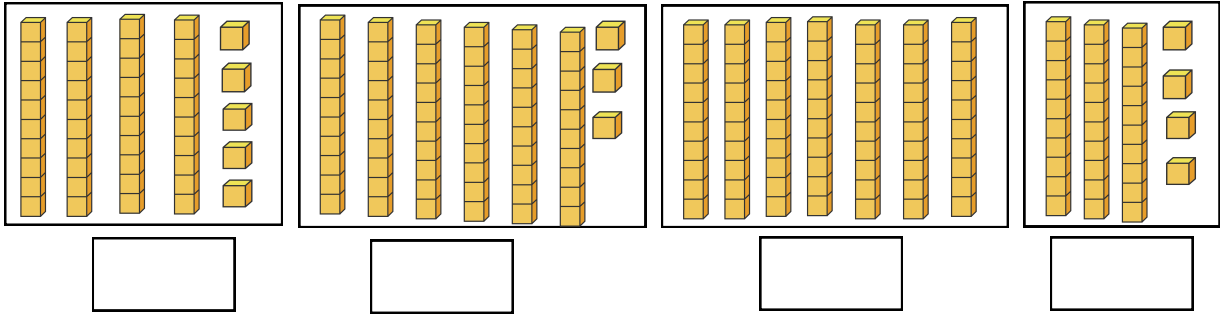


التمرين 1: اكتب الأعداد المُمثَّلة بالقطع والأعمدةالتمرين 2: اكتب العدد بالأرقام أو بالحروف ثم أفككه

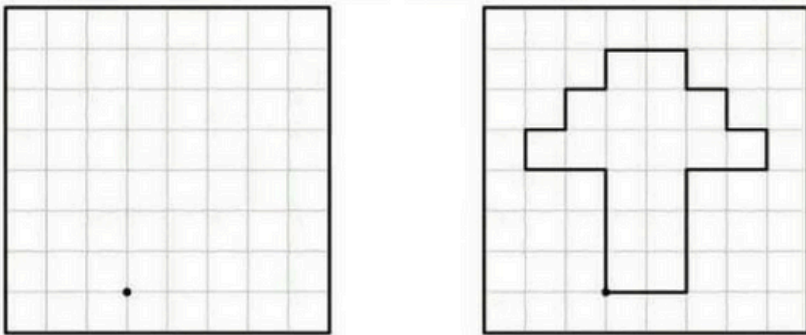
70+5	.	خَمْسَةٌ وَسَبْعُونَ
.....	32

التمرين 3: أرّتب الأعداد الآتية من الأكبر للأصغر مع وضع الرمز المناسب

25 - 34 - 98 - 43 - 89 - 11

التمرين 5:


أكمل رسم الشكل على المَرصوفة

التمرين 4:

أرسم 3 نقط في استقامة واحدة مع النقطتين الحمراء.

الوضعية الإدماجية

أطلقت الحافلة من المحطة وعلى متنها 38 راكبا، في المحطة الموالية نزل منهم 15 راكبا. كم راكبا بقي في الحافلة؟



الوضعية

بِمُنَاسَبَةِ الْعِيدِ فَتَحَ أَحْمَدُ وَأُخْتُهُ مَرِيَمُ حَصَالَتَهُمَا لِشِرَاءِ بِالُونَاتٍ وَ حَلَوِيَّاتٍ وَدُمِيَّةٍ.
وَجَدَتْ مَرِيَمُ 46 دِينَارًا وَوَجَدَ أَحْمَدُ 53 دِينَارًا .

التّمرين 1: أكمل الجدول.

العَدَدُ:	الكِتَابَةُ بِالْحُرُوفِ	التَّمثِيلُ بِالْقِطْعِ وَالْأَعْمِدَةِ
46		
53		

السَّعْرُ	السَّلْعُ
22	البالونات
54	الحلويات
36	الدُمِيَّةُ

ذَهَبَ الْأَخْوَانُ لِلْمَتَجَرِّ فَوَجَدَا الْأَسْعَارَ الْآتِيَةَ
أَكْمِلُ :

ثَمَنُ الْحَلَوِيَّاتِ هُوَ :

ثَمَنُ الْبَالُونَاتِ هُوَ :

ثَمَنُ الدَّمِيَّةِ هُوَ :

رَتِّبْ أَثْمَانَ السَّلْعِ مِنَ الْأَصْغَرِ إِلَى الْأَكْبَرِ

أَكْمِلْ كُلَّ عَدَدٍ إِلَى الْعَشْرَةِ الْمُوَالِيَةِ

$$22 + \dots = 30$$

$$54 + \dots = 60$$

$$36 + \dots = 40$$

التّمرين 2: وَجَدَ الْأَخْوَانُ فِي الْمَتَجَرِّ دُمِي لَوْنٍ أَرْبَعِ دُمِي عَلَى اسْتِقَامَةٍ وَاحِدَةٍ.التّمرين 03 :

أَضَعْ (يَمِين - يَسَار - وَرَاء) فِي الْمَكَانِ الْمُنَاسِبِ .

السيارة الدُّبُّ .

الدُّبُّ الدُمِيَّةُ .

الأرنب الدِّيناصور .

