

النشاط الأول : أكتب الأعداد بالأرقام أو الحروف :



تسعون

88



خمسة و سبعون












64

98 - 16 - 81 - 27 - 9 - 65 - 53 - 47

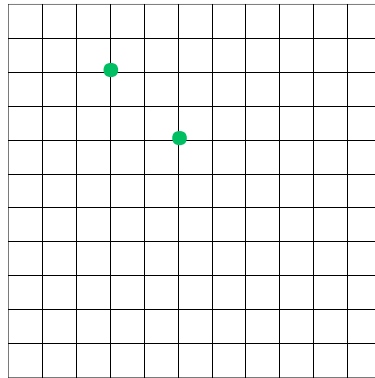
رتب الأعداد التالية تصاعدياً



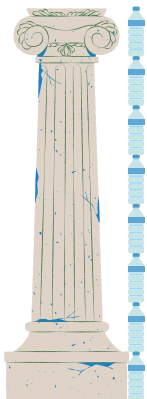
النشاط الثاني : لاحظ تقاطع السطر و العمود ثم أكمل التلوين .

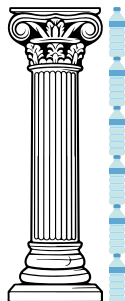
النشاط الثالث : أرسم ثلاث نُقْطٍ على استقامية مع النقطتين الخضراوين .




النشاط الرابع : أحسب طول كل عمود باستخدام القارورة كوحدة قياس .




قارورة.....



قارورة.....



قارورة.....



قارورة.....

بمناسبة عيد الشجرة ، شارك تلاميذ قسم السنة الثانية في حملة تشجير . غرس الذكور 50 شجرة ، أما الإناث فغرسن 33 شجرة .

ما هو عدد الشجيرات التي غرسها التلاميذ ؟

..... =

.	.
.	.
<hr/>	
.	.

عدد الشجيرات التي غرسها التلاميذ شجرة