

السنة الثانية ابتدائي

ابتدائية .....

الاسم واللقب: .....

الموسم الدراسي: 2025/2024م.

اختبار الفصل الأول في مادة الرياضيات

التمرين الأول:

1- أكمل الحساب:

العدد	اكتبه بالحروف	فككه	مثله بالوحدات والعشرات
23	.....	23=.....+.....	

2- قارن باستعمال أحد الرمزين < أو >:

9 ..... 12

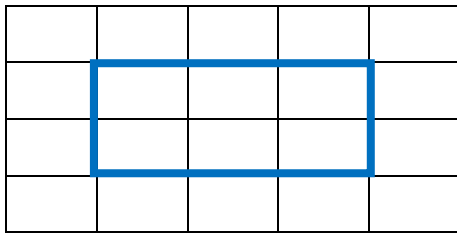
75 ..... 57

56 ..... 76

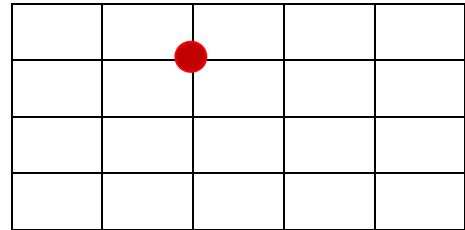
التمرين الثاني:

التمرين الثاني:

- طول الشكل الأزرق هو: ..... وحدات.

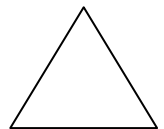



علم على المرسوفة 3 نقط في استقامية مع النقطة الحمراء:



التمرين الرابع: لون الأشكال حسب الجدول:

	x		x	
		x		
				x



التمرين الخامس: يملك أحمد 9 كرات وريح 5 كرات أخرى.

- كم كرة أصبحت عند أحمد؟

أصبح عند أحمد ..... كرة.

..... = ..... ..