

الاسم واللقب:

.....

العلامة:

....  
10


## اختبار الفصل الأول في مادة التربية الفنية

مدرسة عزوز بوعروج  
الصف الثالث ابتدائي


الموسم الدراسي  
2017/2016

3- رسم منظر طبيعي (7 ن)

1- لون كل شكل من الأشكال التالية  
بلون من الألوان الحارة (1.5 ن)



2- لون كل شكل من الأشكال التالية  
بلون من الألوان الباردة (1.5 ن)



## اختبار الفصل الأول في التربية التشكيلية

2016

س 3 ابتدائي

2015

الجزء الأول

أربط بسهم بين اللون ونوعه

❖ أخضر

❖ أصفر

❖ أزرق

❖ أحمر

❖ رمادي

❖ بني

حار

بارد

الجزء الثاني

أرسم منظرا شتويا موظفا الألوان الباردة

بالتوفيق

الجمهورية الجزائرية الديمقراطية الشعبية  
وزارة التربية الوطنية

مدرسة ابن سينا بزاوية كنتة بلدية : زاوية كنتة


(اختبار الفصل الأول لمستوى الثالثة ابتدائي)

في مادة التربية الفنية

المدة

د

السؤال الأول :



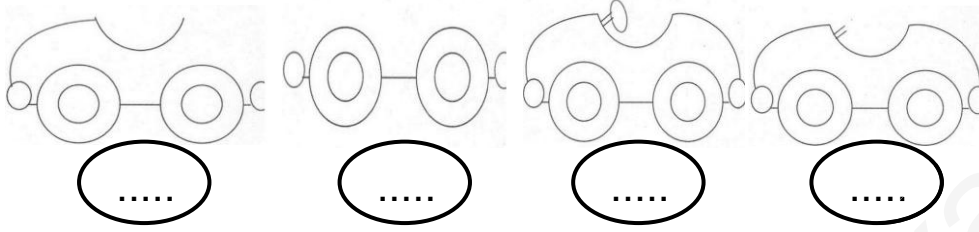
بالتوفيق

1/1

انتهى

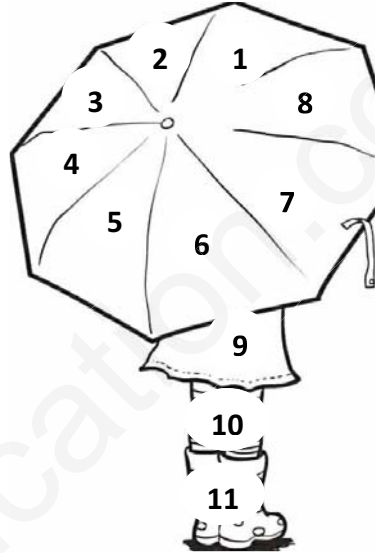
### اختبار الفصل الأول في الرسم

التّمرين الأول (2 ن): رَتِّبْ بالأرقام (1- 2- 3- 4) مَرَا حِلَ رَسْمِ السَّيَّارَةِ :

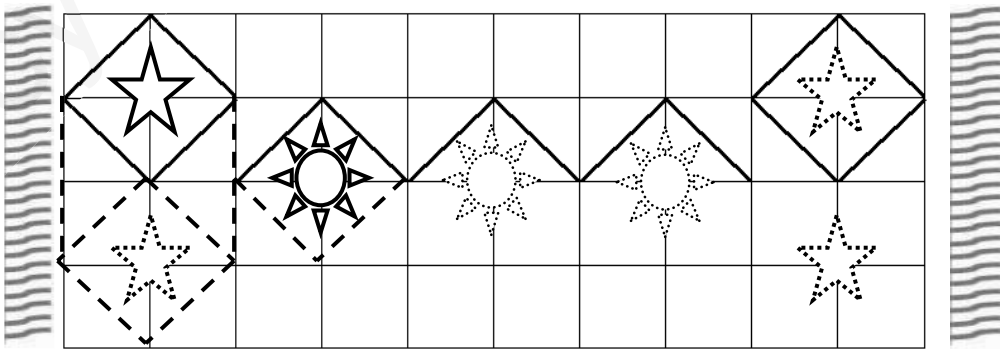


التّمرين الثاني (3.5 ن): لَوِّنْ حَسَبَ الأرقام:

(1 3): أصفر – (2 4): أحمر – (5 7): أخضر – (6 8): أزرق – 9: وردي – 10: بُني – 11: أسود



التّمرين الثالث (4.5 ن): اكْمِلْ زَخْرَفَةَ البَسَاطِ ثُمَّ لَوِّنْ النُّجُومَ بالأحمر وَ الشَّمْسَ بالأصفر:




امضاء الولي

## الفصل الاول فى التربية الفنية

**السؤال الأول :** اذكر ثلاثة ألوان حارة و ثلاثة ألوان باردة (3ن) و (1ن على المشاريع)

### السؤال الثاني : ألون نفس النتيجة بنفس اللون (6ن)

30=برتقالي ، 1000=أصفر ، 750=أحمر ، 50=بنفسجي ، 16=أخضر ، 25=أزرق



العام الدراسي: 2018/2017  
المتعلم:

الملاحظة:

## اختبار الثلاثي الأول في مادة التربية التشكيلية

مدرسة: بودالي حدة - تيارت.  
قسم: السنة الثالثة فوج: "ب".



\*بالتوفيق\*



## إختبار الفصل الأول فى التربية التشكيلية


1 اربط بسهم بين اللون ونوعه

عائلة الأزرق عائلة الأحمر عائلة البنفسجي عائلة الأصفر عائلة الأخضر عائلة البرتقالي

الألوان الحارة


الألوان الباردة

3 / لون اضواء اشارة المرور :



5 / : اذكر الفصل والعناصر للمشكلة للصورة

4 / سمي الحيوانات الموجودة في الصورة



## امتحان الفصل الأول

المدة : ساعة ونصف

ديسمبر 2017

اختبار مادة : التربية التشكيلية


(1) أَلَوْنُ :

(04 ن)



(2) - أَلَوْنُ :

(06 ن)



Coloring &amp; Activity Pages by: www.HonkingDonkey.com

