

الاسم واللقب :

تقويم في الرياضيات (ميدان المقادير والقياس)

السنة الثالثة -

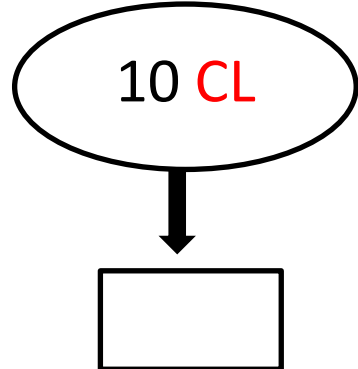
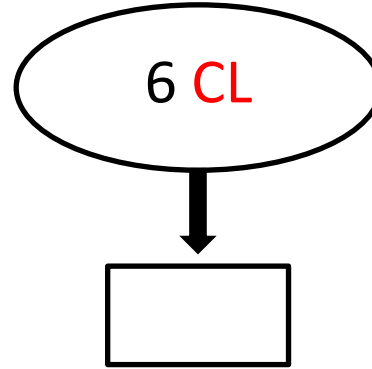
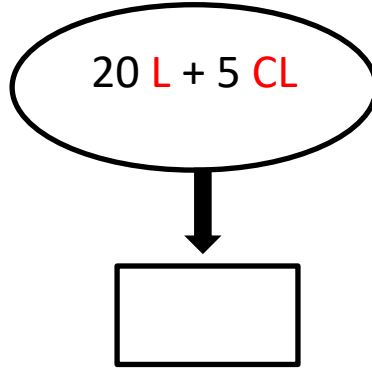
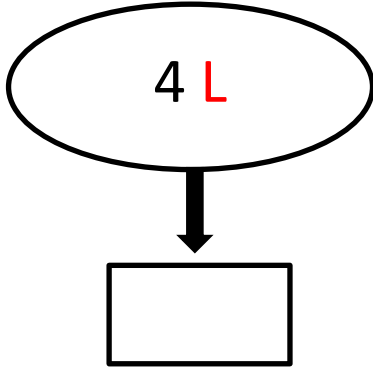
التمرين الأول: أحوّل السّاعات التّاليّة :

$$3 \text{ L} = \dots\dots\dots \text{ cL}.$$


$$50 \text{ cl} + 50 \text{ cl} = \dots\dots\dots \text{ cL}$$

$$400 \text{ cL} = \dots\dots\dots \text{ L}$$

التمرين الثاني : رتب بالأرقام السّاعات من الأكبر الى الأصغر



التمرين الثالث: ألَوِّنْ الأدوات الّتي يُمكن استعمالها لقياس الأطوال:



التمرين الرابع باستعمال مسطّرتك عَيِّن المَسَار الأقصر لوصول العُصفُور لِعُشِّهِ



طول المسلك الأزرق هو : cm

طول المسلك الأخضر هو : cm

أقصر مسلك هو :

بالتوفيق يا ابنائي