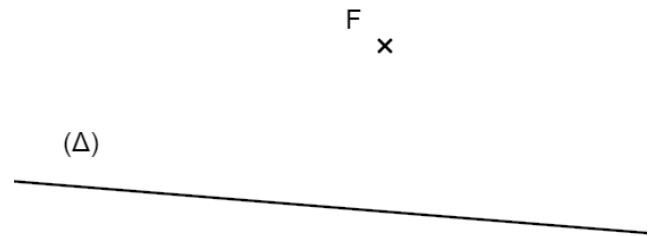
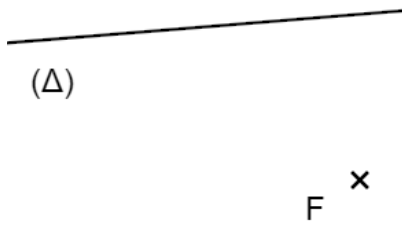
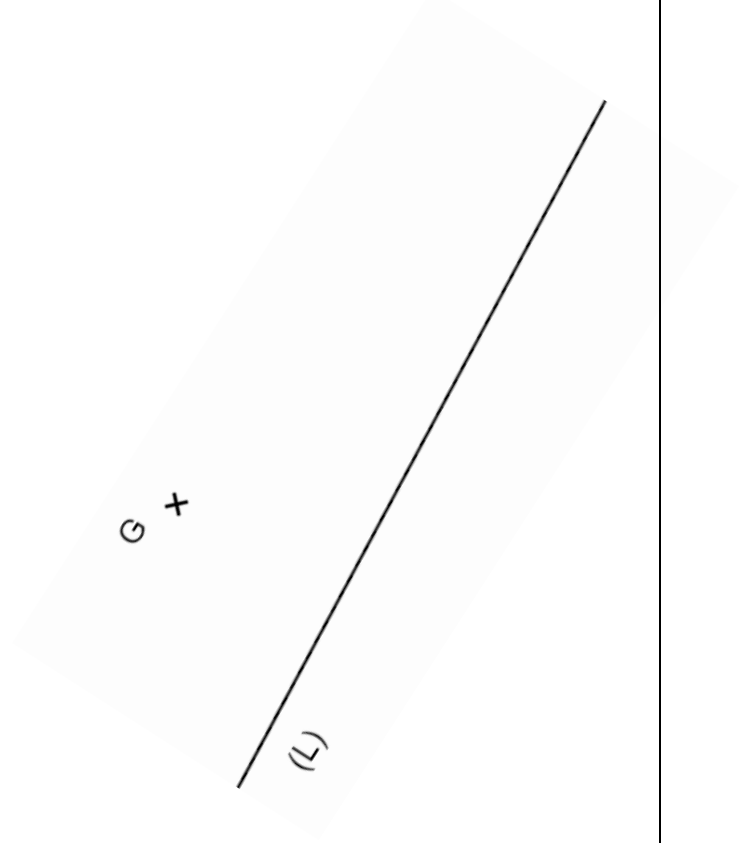
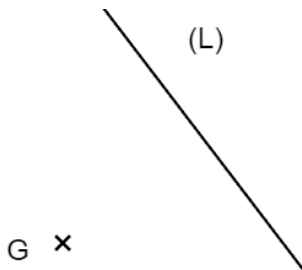



أنشئ المستقيم  $(d_1)$  الذي يشمل النقطة  $F$  ويعامد المستقيم  $(\Delta)$



أنشئ المستقيم  $(d_2)$  الذي يشمل النقطة  $G$  ويوازي المستقيم  $(L)$



أنشئ المستقيم  $(T)$  محور القطعة  $[AB]$



أنشئ نصف المستقيم  $[OM)$  منصف الزاوية  $\widehat{xOy}$

