

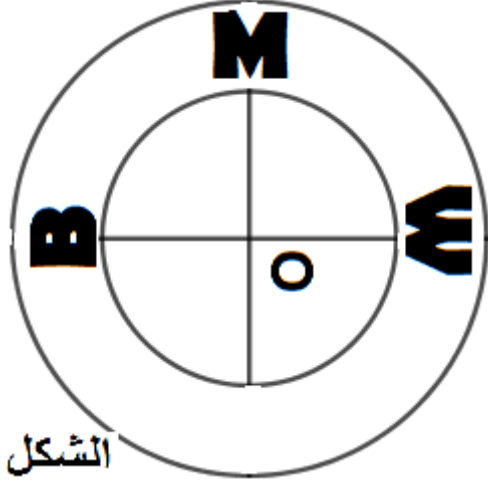
هيك محمد سيارة لشركة بي إم دبليو وهي شركة ألمانية لصناعة السيارات شعارها موضح في الصورة .تستهلك هذه السيارة من الوقود 5,298 عند الذهاب بها إلى الجامعة وفي طريق العودة يسلك محمد طريق مغاير حيث تستهلك السيارة 7 L

### الجزء 1

- 1 - ما هي كمية البنزين المستهلكة (ذهابا وإيابا )
- 2 - حدد وقت انطلاق محمد من المنزل إذا علمت انه يصل إلى الجامعة على الساعة السابعة وخمسة واربعون دقيقة حيث يستغرق حوالي خمسون دقيقة واربعون ثانية

### الجزء 2

- 1 - في الشكل ما نوع المثلث OBM
- 2 - أنشئ مثلثا للقوس  $\widehat{OB}$  و للمثلث OBM الموجودين في الشكل



الصورة

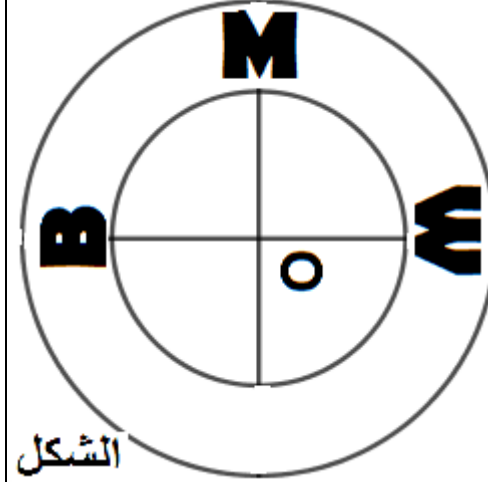
هيك محمد سيارة لشركة بي إم دبليو وهي شركة ألمانية لصناعة السيارات شعارها موضح في الصورة .تستهلك هذه السيارة من الوقود 5,298 عند الذهاب بها إلى الجامعة وفي طريق العودة يسلك محمد طريق مغاير حيث تستهلك السيارة 7 L

### الجزء 1

- 3 - ما هي كمية البنزين المستهلكة (ذهابا وإيابا )
- 4 - حدد وقت انطلاق محمد من المنزل إذا علمت انه يصل إلى الجامعة على الساعة السابعة وخمسة واربعون دقيقة حيث يستغرق حوالي خمسون دقيقة واربعون ثانية

### الجزء 2

- 3 - في الشكل ما نوع المثلث OBM
- 4 - أنشئ مثلثا للقوس  $\widehat{OB}$  و للمثلث OBM الموجودين في الشكل



الصورة

هيك محمد سيارة لشركة بي إم دبليو وهي شركة ألمانية لصناعة السيارات شعارها موضح في الصورة .تستهلك هذه السيارة من الوقود 5,298 عند الذهاب بها إلى الجامعة وفي طريق العودة يسلك محمد طريق مغاير حيث تستهلك السيارة 7 L

### الجزء 1

- 5 - ما هي كمية البنزين المستهلكة (ذهابا وإيابا )
- 6 - حدد وقت انطلاق محمد من المنزل إذا علمت انه يصل إلى الجامعة على الساعة السابعة وخمسة واربعون دقيقة حيث يستغرق حوالي خمسون دقيقة واربعون ثانية

### الجزء 2

- 5 - في الشكل ما نوع المثلث OBM
- 6 - أنشئ مثلثا للقوس  $\widehat{OB}$  و للمثلث OBM الموجودين في الشكل



الصورة

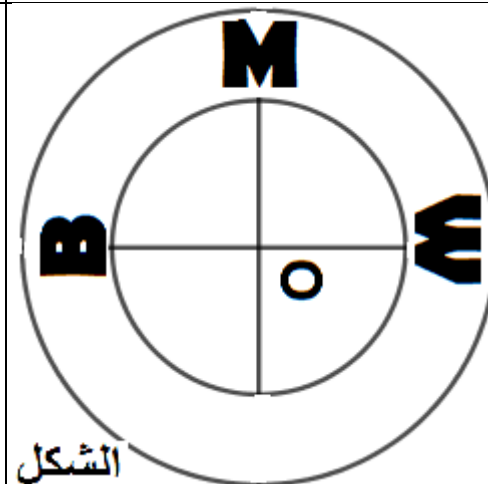
هيك محمد سيارة لشركة بي إم دبليو وهي شركة ألمانية لصناعة السيارات شعارها موضح في الصورة .تستهلك هذه السيارة من الوقود 5,298 عند الذهاب بها إلى الجامعة وفي طريق العودة يسلك محمد طريق مغاير حيث تستهلك السيارة 7 L

### الجزء 1

- 7 - ما هي كمية البنزين المستهلكة (ذهابا وإيابا )
- 8 - حدد وقت انطلاق محمد من المنزل إذا علمت انه يصل إلى الجامعة على الساعة السابعة وخمسة واربعون دقيقة حيث يستغرق حوالي خمسون دقيقة واربعون ثانية

### الجزء 2

- 7 - في الشكل ما نوع المثلث OBM
- 8 - أنشئ مثلثا للقوس  $\widehat{OB}$  و للمثلث OBM الموجودين في الشكل



الصورة