


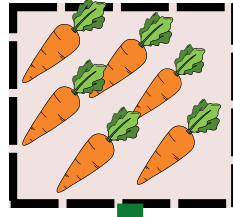


الاعداد من 6 الى 9

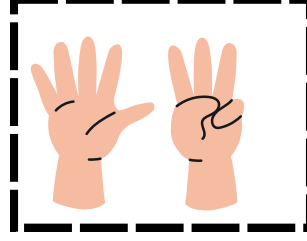
الرياضيات



الوضعية 1: جمع الفلاح وزوجته محصول الخضر والفواكه ساعدهم في الحساب



الوضعية 2: أربط كل بطاقة بالعدد المناسب







8

7

9

6

الوضعية 3: حوِّط بقدر العدد المكتوب



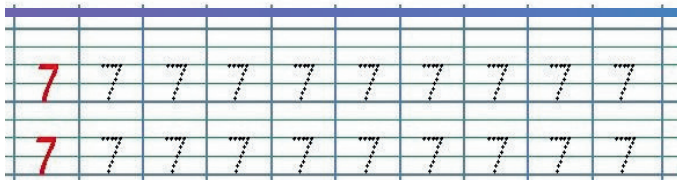



7

9

8

6






الرياضيات



الاعداد من 6 الى 9

الوضعية 1 : لون بقدر العدد المكتوب



| |
|---|
| 6 |
| 7 |
| 8 |
| 9 |



الوضعية 2 : لون عدد الارانب بقدر عدد الدجاجات



الوضعية 3 : يحوز محمد إياد و مروى حبات حلوى.



حبات حلوى محمد إياد

أقل من

أكثر من

1- لون البطاقة الصحيحة : عدد حبات حلوى مروى

2- أخط الاجابات الصحيحة :

عدد حبات حلوى مروى 9 ، 7 ، 8 ، 6

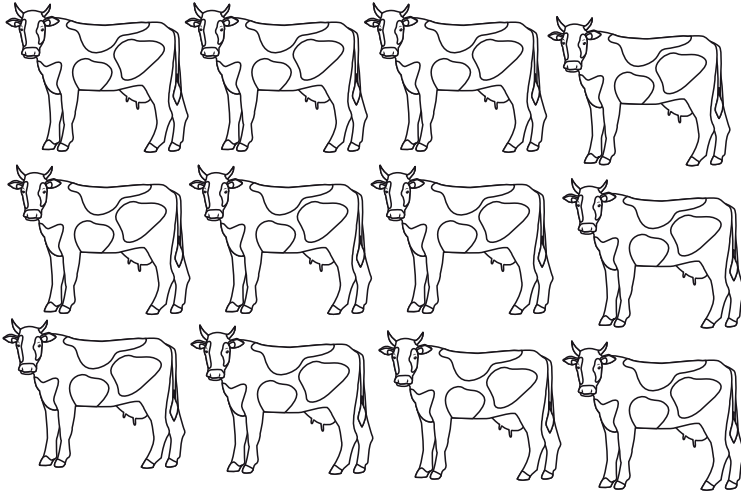
عدد حبات حلوى محمد إياد هي : 6 ، 9 ، 8 ، 7



الاعداد من 1 الى 9


الرياضيات

الوضعية 1 :




لون بالأخضر 4 بقرات وبالأحمر بقرات بقدر
البقرات الأخضر
لون باقي البقرات بالبنّي
عدد البقرات البنية :


الوضعية 2 : لون بطاقة العدد المناسب




6 7 8



5 6 7




3 4 5

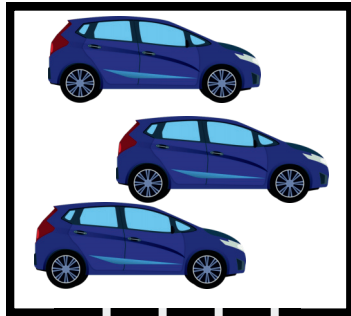


7 8 9

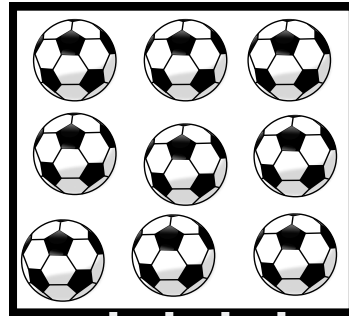
الوضعية 3 : أكتب العدد المناسب



....



....



....



....

الوضعية 4 : أكمل الشريط العددي

