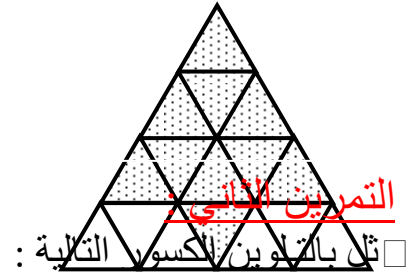
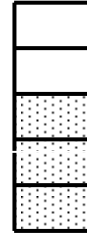
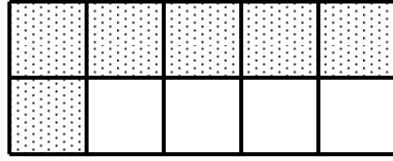
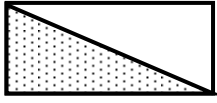



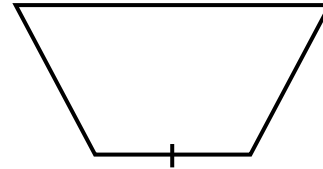
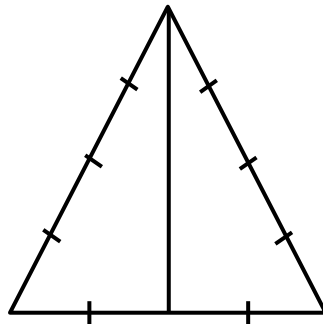
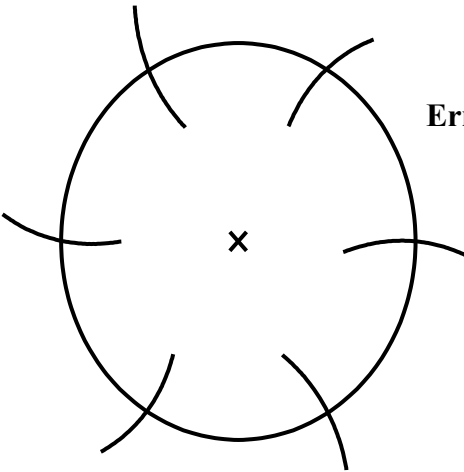
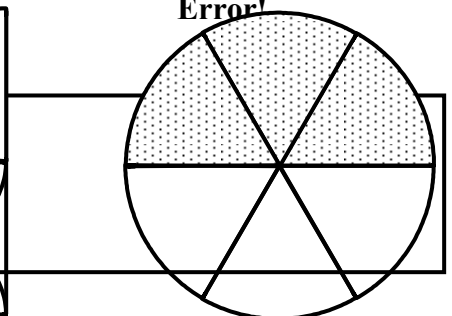
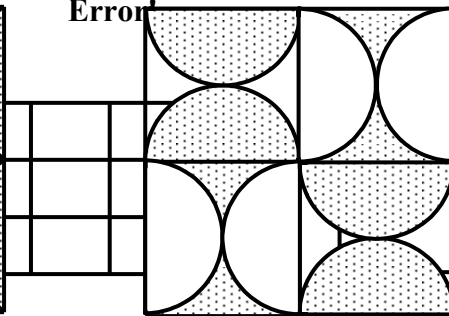
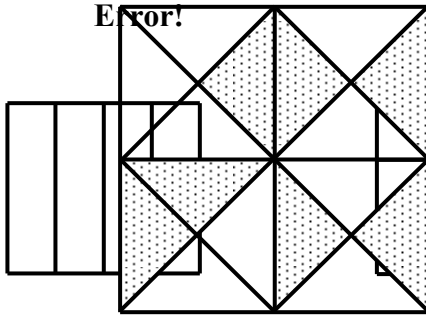
## التمرين الأول :

مثل هذه الأشكال بالكسور المناسبة :



## التمرين الثاني :


مثل بالشكلين الكسور التالية :




## التمرين الثالث :

1) من كل شكل مثل الأجزاء المضللة :


a)



b)



c)

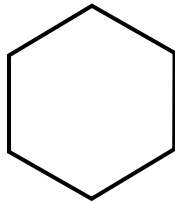


2) على هذا التدرج ضع النقاط : A, B, C, D, E, F

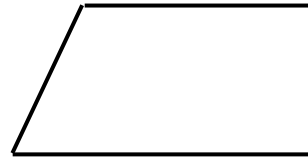


**A = Error!; B = Error! ; C = Error! ; D = Error! ; E = Error! ; F = Error!.**

(3) في كل حالة ضلل الجزء الممثل بالكسر



Err



Err

التمرين الرابع :

أكمل □ ايلي :

PR = Error! MN.

ST = Error! MN.

MN = Error! ST.

M

N



P

R



S

T

