



















العلامة: 20/

القسم: 2م ....

اللقب والاسم: .....

التمرين الاول (06نقاط): ضع الإجابة الصحيحة في دائرة

			لإدراج الأشكال نختار
			لإضافة عمود إلى اليسار نختار
			لإضافة سطر إلى الأعلى نختار
			لتلوين الخلايا أو تظليلها نختار
			لتقسيم خلية واحدة نختار
			لدمج خليتين أو أكثر نختار

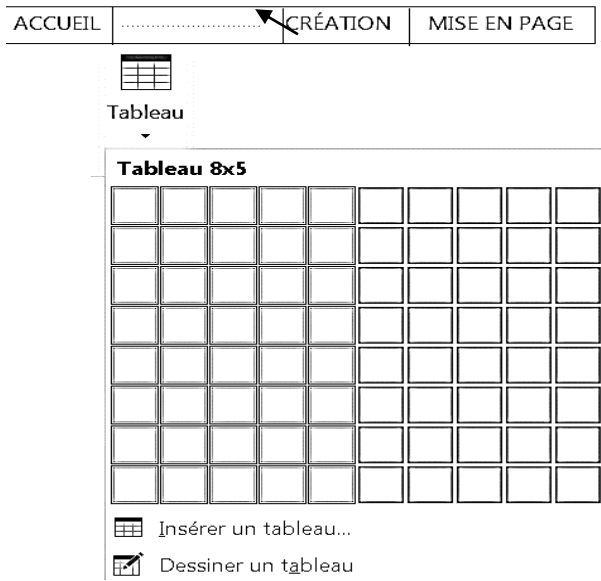
التمرين الثاني (06نقاط): أجب بصحيح أو خطأ مع تصحيح الخطأ إن وجد

مواقيت الصلاة لولاية الجلفة					
الصلاة	الصبح	الظهر	العصر	المغرب	العشاء
الوقت	5:55	12 :31	15 :31	17 :45	19 :00

	الجدول في الأول كان يتكون من 3 أعمدة و6 أسطر
	.....
	تلوين السطر الأول نسميه تظليل
	.....
	قسمنا السطر الأول وكتبنا مواقيت الصلاة لولاية الجلفة
	.....
	زدنا ارتفاع العمود الأول
	.....
	تقاطع السطر الثاني مع العمود الثالث يعطينا الخلية التي تحتوي على "5:55"
	.....
	خلية "العشاء" هي تقاطع السطر الثاني مع العمود السادس
	.....

## الوضعية الإدماجية (8 نقاط):

أراد محمد إدراج جدول يتكون من 15 سطرا و 7 أعمدة في مستند معالج النصوص Word فاتباع المراحل كما بالوثيقة المقابلة:



1. اكتب اسم التبويب المناسب في الفراغ على شريط التبويبات

2. استعمل طريقة الشبكة فلاحظ أنه لا يمكنه إدراج أكثر

من 08 أسطر ساعده ليتمكن من إنشاء جدول.

المراحل:

.....

.....

3. بعد رسم الجدول أراد تغيير حدوده فلم يظهر له التبويب المسؤول

عن ذلك في الشريط العلوي، فما الذي يجب عليه فعله كي يظهر

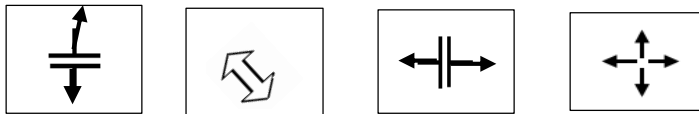
\*\* شطب عليه في شريط التبويبات الآتي:



4. اذكر مراحل تغيير الحدود؟

- ..... •
- ..... •
- ..... •
- ..... •

5. لتغيير عرض عمود نضع مشيرة الفارة على الحد العمودي الذي يفصل بينه وبين العمود الموالي فتتحول المشيرة إلى:



شطب على الرموز الخاطئة.

[teacherinfo-dz.blogspot.com](http://teacherinfo-dz.blogspot.com)