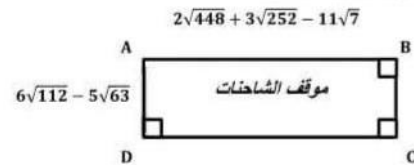
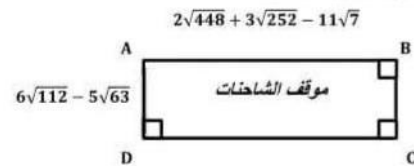


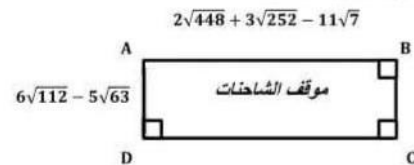
1. اكتب كلا من بعدي المستطيل AB و AD على الشكل $a\sqrt{7}$ حيث a عدد طبيعي
2. أحسب مساحة المستطيل



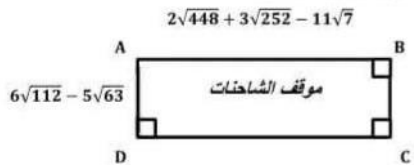
1. أكتب كلا من بعدي المستطيل AB و AD على الشكل $a\sqrt{7}$ حيث a عدد طبيعي
2. أحسب مساحة المستطيل



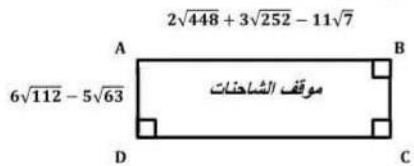
1. أكتب كلا من بعدي المستطيل AB و AD على الشكل $a\sqrt{7}$ حيث a عدد طبيعي
2. أحسب مساحة المستطيل



١٠. أكتب كلا من بعدي المستطيل AB و AD على الشكل $a\sqrt{7}$ حيث a عدد طبيعي
١١. أحسب مساحة المستطيل



أكتب كلا من بعدي المستطيل AB و AD على الشكل $a\sqrt{7}$ حيث a عدد طبيعي
 . أحسب مساحة المستطيل



أكتب كلا من بعدي المستطيل AB و AD على الشكل $a\sqrt{7}$ حيث a عدد طبيعي
 : أحسب مساحة المستطيل

