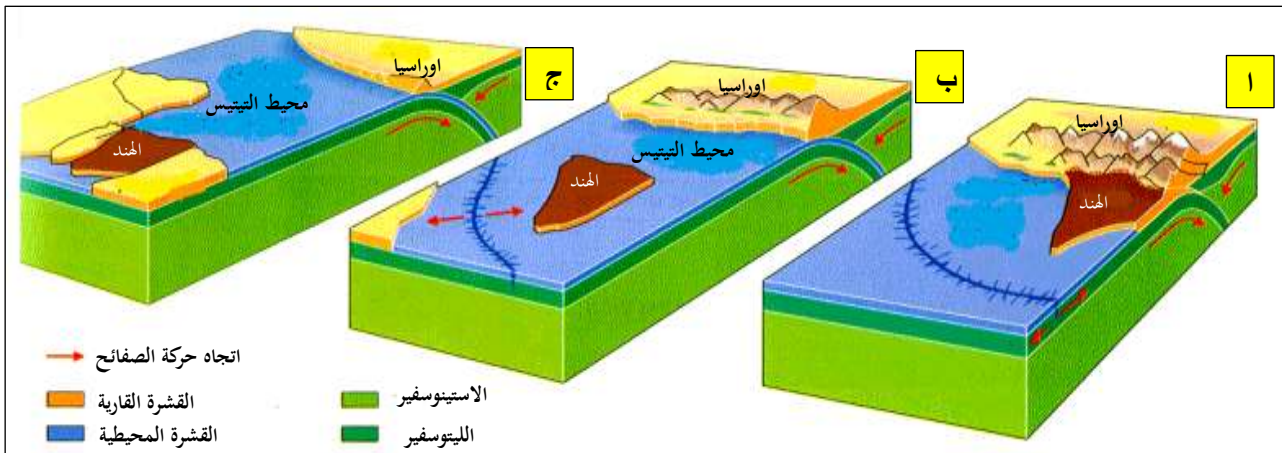


بطاقة العمل الفوجي للوضعية التعليمية 16 : كيفية تشكل الجبال

الاستاذة : درقاوي سميرة
المادة : علوم الطبيعة و الحياة
المستوى : الثالثة متوسط

– كانت شبه القارة الهندية منفصلة و بعيدة تماما عن آسيا ، غير أنها حاليا تشكل جزء من هذه القارة و بها أعلى جبال في العالم فما الذي حدث ؟
و هل للغوص علاقة بذلك ؟ . السنين التالين يوضحان ذلك :



قبل 71 مليون سنة

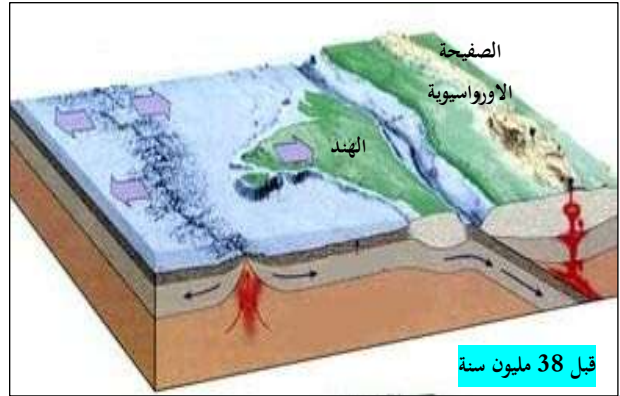
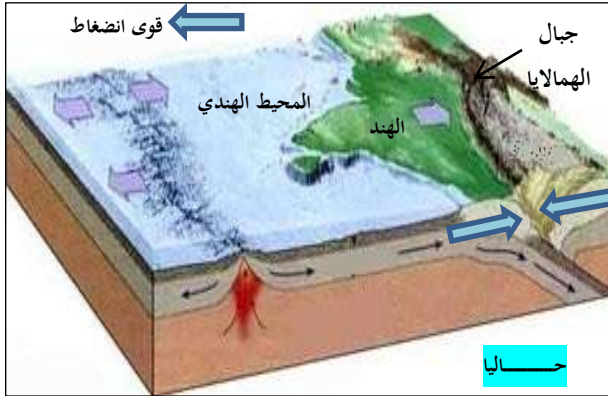
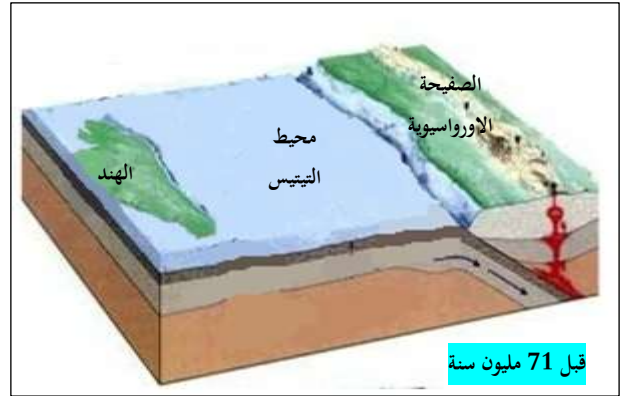
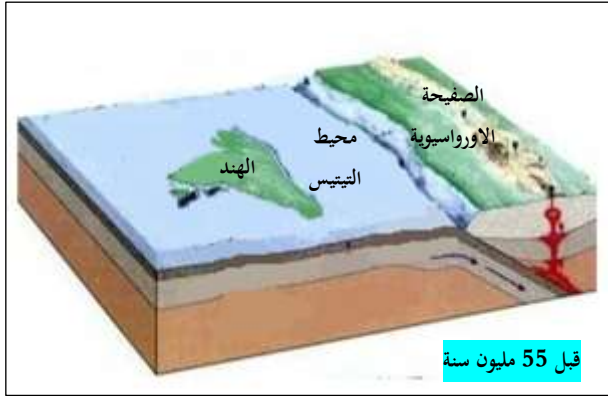
حاليا

قبل 123 مليون

السند الاول : حركة القارة الهندية عبر ملايين السنين

التعليمات :

- 1 – حاول ان ترتب الوثائق السابقة لحركة الصفحة الهندية حسب الزمن المناسب .
- 2 – تعرف على سبب حركة الصفحة الهندية و نتائجها .



السند الثاني : مراحل تقارب الصفائح الهندية و الصفائح الأورواسيوية

التعليمات :

3 - برر سبب تشكل جبال الهمالايا .