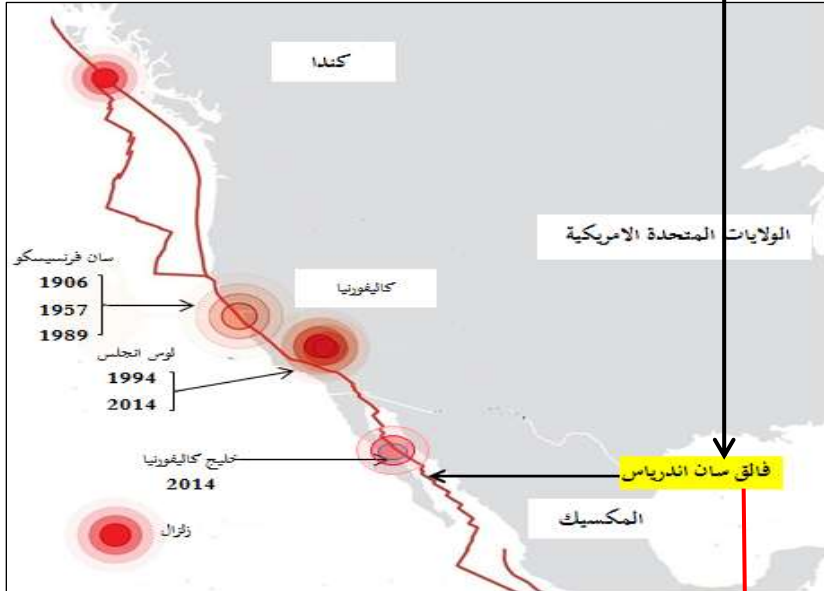
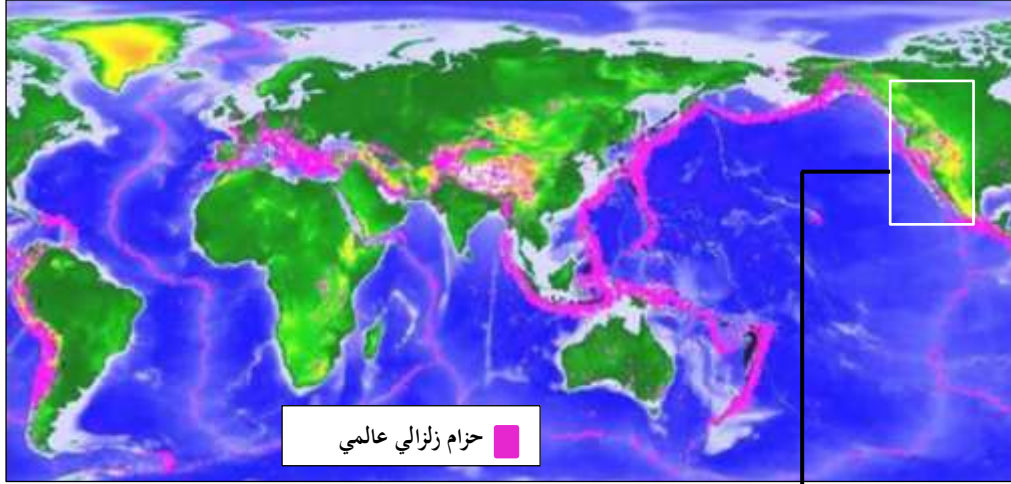


بطاقة العمل الفوجي للوضعية التعليمية 06 :

معاينة حزام زلزالي

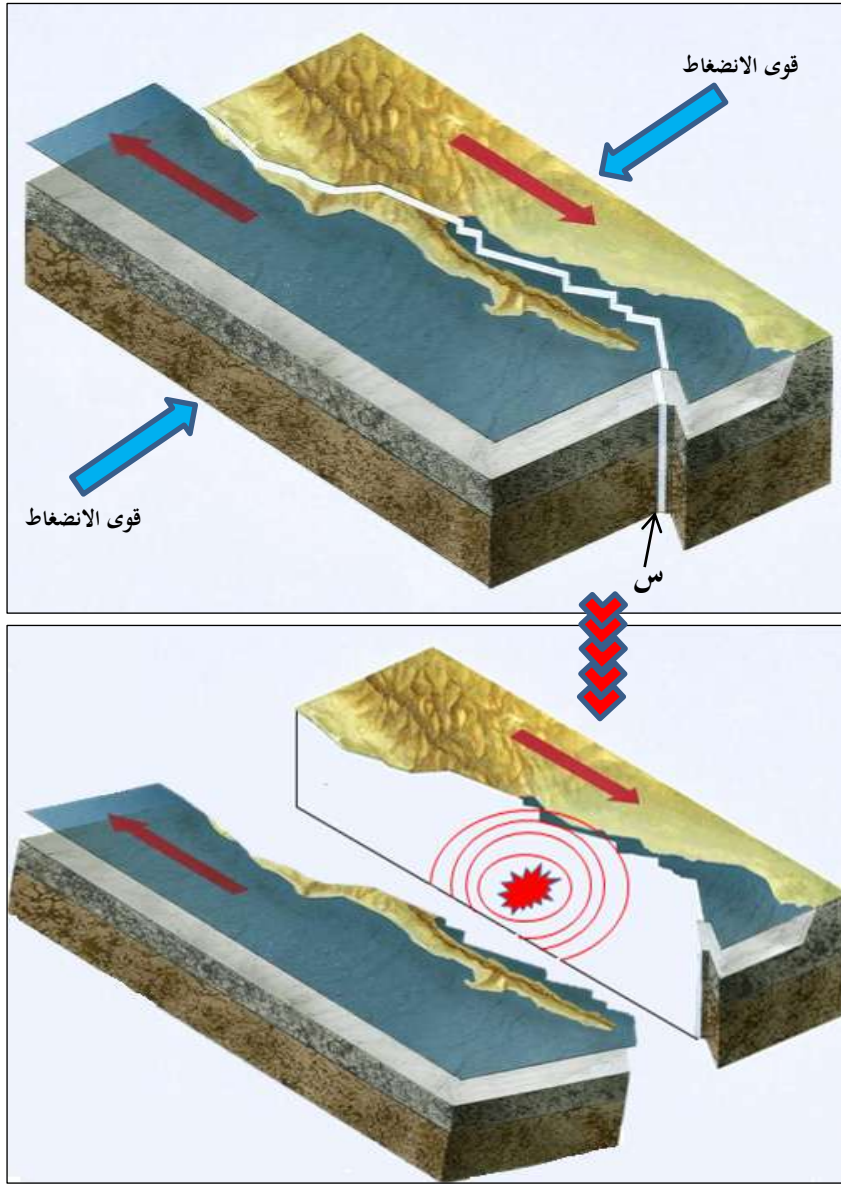
الاستاذة : درقاوي سميرة
المادة : علوم الطبيعة و الحياة
المستوى : الثالثة متوسط

- تبعث الأمواج الزلزالية انطلاقا من البؤرة محدثا زلزال ، لكن سبب نشأة البؤرة يبقى مجهول . فما سبب نشأتها ؟ السندين التاليين يساعدان على الإجابة :



السند الأول : النشاط الزلزالي على طول فالق سان اندرياس

1 - برر تكرار الهزات الزلزالية في المناطق الموضحة في السند الاول.



السند الثاني : تأثير قوى الانضغاط

3- ماذا يمثل العنصر (س) من السند الثاني ؟

4 - اشرح اذن كيفية حدوث الزلزال .

5- اقترح من خلال المعلومات السابقة سبب حدوث الزلازل .