





السنة الدراسية : 2022.2023

وضعيّات ادماجية في الرياضيات للفصل الثاني للسنة الثالثة
الأستاذ لشهب يونس

اشترى الأب 6 كيلوغرام من البطاطا بـ 70 دينار للكيلوغرام و 4 كيلوغرام من الطماطم بـ 140 دينارا للكيلوغرام و 1 كيلوغرام من البرتقال بـ 200 دينار.

أحسب ثمن البطاطا  أحسب ثمن الطماطم 

ما هو ثمن كل المشتريات؟ 

إذا علمت أنّ الأب دفع للبائع ورقة نقدية من فئة 2000 دينارًا .
كم يرجع له البائع؟ 


الحل


الأجوبة

العمليات

عند بائع الحليب بزميل مملوء بحليب البقر سعته 850 لثرا ، باع في اليوم الأول 170 لثرا
وباع في اليوم الثاني ثلاثة أضعاف ما باع في اليوم الأول.

كم لثرا باع في اليومين معًا؟ 

كم لثرا بقي في البزميل؟ 

ثم قم بتحويل السعة المتبقية إلى Cl 

الحل

الأجوبة

العمليات

تنشر الإجابات على قناتي في اليوتيوب وأيضا حلول التقويمات والإختبارات



اسم القناة / الأستاذ لشهب يونس

رابط القناة للإشتراك

<https://www.youtube.com/channel/UCLAuplp2fGUjoyR2DhvFrOg>



للتواصل مع صفحتنا في الفيسبوك

اسم الصفحة / صفحة الرفيق للتعليم للأستاذ لشهب يونس

رابط الصفحة للإشتراك

<https://www.facebook.com/RafikEducation/>