

مراجعة في الرياضيات للسنة الاولى


النشاط الاول :

ضع كل ستة (6) عناصر داخل حيز






النشاط الثاني

لون الأطول بالأحمر و الأقصر بالأخضر



النشاط الثالث :

أحسب ثم أكتب عدد عناصر كل مجموعة



النشاط الرابع

أكتب الأعداد الناقصة

