

## الضرب في 10

**أفهم وأتعلّم:**

عندما أضرب عددا  
في 10، أكتب 0  
على يمين هذا العدد




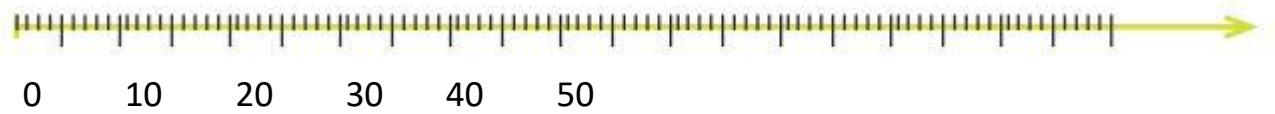
رتّب الأب مكتبة البيت المكوّنة من 5 رفوف .

فوضع في كلّ رف 10 كتب .

ما هو عدد جميع الكتب التي رتبها ؟

أستعمل **خط الأعداد** وأعدّ 5 **قفزات** متساوية مقدار

كلّ واحدة 10 ، مبتدئاً من الصّفر.



العملية الضّربية :  $5 \times 10 = 50$

عدد الكتب هو 50 كتاباً

**أنجز :**

1- عبّر عن عملية الضّرب بجمع مكرر:

$$3 \times 10 = \dots\dots\dots = \dots\dots\dots$$

$$6 \times 10 = \dots\dots\dots = \dots\dots\dots$$

$$9 \times 10 = \dots\dots\dots = \dots\dots\dots$$

2- تجمع ليلي الطّوابع البريدية وتضع في كلّ صفحة من صفحات ألبومها 10 طوابع .

أكمل الجدول .

9	.	.	6	.	4	.	2	1	عدد صفحات الألبوم
.	.	70	.	.	.	30	.	10	عدد الطّوابع

3- أكتب عمليّة

الضّرب مستخدماً الأعداد الآتية



$$\dots\dots\dots \times \dots\dots\dots = \dots\dots\dots$$



$$\dots\dots\dots \times \dots\dots\dots = \dots\dots\dots$$

## أوظف :

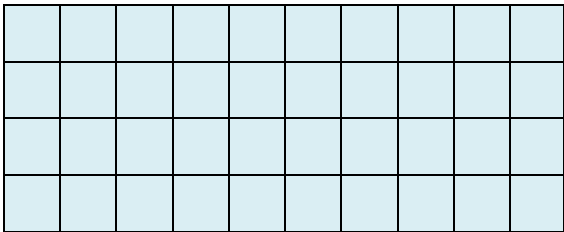
1- اكمل الفراغ بما هو مناسب :

4 عشرات = ..... ×.....

5 عشرات = ..... ×.....

8 عشرات = ..... ×.....

2 - اشترى عامر 4 ثلجات لإخوته بـ 10 ديناراً للثلجة الواحدة .  
استعمل طريقة المرسوفة لتجد المبلغ الذي دفعه عامر.



دفع عامر .....دينارا

..... X .....= .....

## أقيم :

جمع أمين قطعا نقدية من فئة 10 دنانير حتى صار عنده 160 ديناراً.  
احسب عدد القطع النقدية التي جمعها أمين ؟



.....

.....

**نشاط منزلي:** اطلب إلى طفلك أن يشرح لك كيف يجد ناتج ضرب العددين 3 و 12 في العدد 10 .