

قراءة السّاعة

أفهم وأتعلّم



عقرب **السّاعة** هو الأقصر ويشير إلى السّاعة .

عقرب **الأزرق** هو الأطول ويشير إلى الدّقائِق .




يوجد 60 دقيقة في السّاعة

60 دقيقة = 1 ساعة

30 دقيقة = نصف ساعة

أنجز :

1- ارسم عقارب ساعة الحائط حسب الوقت الذي تشير إليه ، ثم تحدّث عمّا تفعله في هذه الأوقات



السّادسة	التّاسعة والنّصف	السّابعة	الثّالثة والنّصف
----------	------------------	----------	------------------



2 - اكتب التّوقيت بالأرقام



.....

.....

.....

.....



- انطلقت مباراة كرة القدم على الساعة السادسة وانتهى الشوط الأول بعد 45 دقيقة من اللعب .
- أرسم عقربي الساعة والدقائق لوقت انتهاء الشوط الأول
- أضع الإشارة (×) في الإطار المناسب
- المدة الزمنية للشوط :

أكبر من

أقل من ساعة

أقيم :

- تسيّر شركة طيران رحلة كلّ ثلاث ساعات من مدينة قسنطينة إلى الجزائر العاصمة ، فإذا غادرت الرحلة الأولى عند الساعة 07:00 .
- فما موعد مغادرة الرحلة الثالثة؟



نشاط منزلي :ساعد طفلك في صناعة ساعة كرتونية ، ثم اطلب إليه ضبط ساعته وفق أوقات تحددها .