

القياس بالسنتيمتر

أستعمل السنتيمتر
لقياس الأشياء القصيرة



تعبّر سم عن السنتيمتر
1 سم يقرأ 1 سنتيمتر

أفهم وأتعلّم




تريد منى أن تقيس طول ممحاة .
هل تستعمل منى وحدة القياس التي
طولها 1 متر ؟ لماذا ؟
تستعمل منى مسطرة السنتيمترات
طول ممحاة منى 4 سنتيمتر .

✓ أنجز:

1- أضع علامة (x) أمام الطريقة الصّحيحة لقياس القلم .



2- أبحث عن الأشياء الموضّحة صورها، أقدر طول كلّ منها ، ثم أجد قياسها
بالسنتيمتر.

الشيء	التقدير	القياس
	تقريباً.....
	تقريباً.....
	تقريباً.....

1- لاحظ الخطوط الآتية و خمن طول كل منها . ثم استعمل المسطرة لقياس أطوالها .

أسم	_____
بسم	_____
جسم	_____
دسم	_____

- رتب هذه الخطوط من الأطول إلى الأقصر.

.....

الخط	تخميني	الطول الفعلي
أسمسم
بسمسم
جسمسم
دسمسم

2- لقياس طول الطاولة أستعمل وحدة قياس طولها 1م ووحدة قياس طولها 1سم



وحدة القياس	طول المنضدة
.....سمسم
.....مم

طول الطاولة :

.....سم

.....متر

أقيم:

في زيارة طبيب الصّحة المدرسية لمدرستنا ، قام بقياس

أطوال مجموعة

من التلاميذ ، فكانت كما في الصورة .


إذا كان 100 سم = 1 متر

طول أحمدم و.....سم

طول وليدم و.....سم

طول هناءم و.....سم

بكم ينقص طول وليد عن طول أحمد ؟



نشاط منزلي: اعرض أشياء (ملعقة ، كأس ، مفتاح) واطلب إلى طفلك قياس أطوالها

باستعمال مسطرة السنتيمتر ، وترتيب أطول هذه الأشياء من الأقصر إلى الأطول